

თ. ხუციშვილი
ნ. თოღუა
ზ. კაკანაძე

**ეკონომიკის აღმშენებლის აღმსენის
მათემატიკური მეთოდები
და მოდელირება**

საქართველოს ტექნიკური უნივერსიტეტი

თ. ხუციშვილი, ნ. თოდუა, ზ. კაკანაძე

**ეკონომიკის ამოცანების ამოხსნის
მათემატიკური მეთოდები და მოდელირება**



დამტკიცებულია სტუ-ს
სასწავლო-მეთოდური
საბჭოს მიერ

თბილისი
2003

დამხმარე სახელმძღვანელოში “ეკონომიკის ამოცანების ამოხსნის მათემატიკური მეთოდები და მოდელირება” განხილულია ეკონომიკის ამოცანების ფართო სპექტრი, რომლებშიც გამოყენებულია მათემატიკის მნიშვნელოვანი დიაპაზონი, მათ შორის ანალიზური გეომეტრიის, დიფერენციალური და ინტეგრალური აღრიცხვის, წრფივი მოდელირების და სხვა მეთოდები. შედგენილია შესაბამისი კომპიუტერული პროგრამები.

სახელმძღვანელო განკუთვნილია სტუდენტებისთვის და ეკონომიკის ამოცანებში მათემატიკის გამოყენების საკითხებით დაინტერესებული მკითხველისათვის.

რეცენზენტები: პროფ. ვ. ჩოგოვაძე,
დოც. მ. კუბლაშვილი

შესავალი

თანამედროვე ეკონომიკის არცერთი მეტნაკლებად სერიოზული ამოცანა არ წყდება მათემატიკური მოდელირებისა და კომპიუტერული გამოთვლების გარეშე.

მათემატიკის მეთოდებით აღიწერება, როგორც მაკროეკონომიკური, ისე მიკროეკონომიკური, აგრეთვე საბანკო-საფინანსო და სხვა ლოკალური ეკონომიკური ამოცანები.

მოდელი, როგორც ცნობილია, ეს არის ისეთი მატერიალური ან აზრობრივი ობიექტი, რომელიც შესწავლის პროცესში ცვლის ობიექტ-ორიგინალს ისე, რომ ინარჩუნებს სოციერთ, მოცემული გამოკვლევისათვის მნიშვნელოვან თვისებას. მოდელის შექმნის პროცესს მოდელირება ეწოდება. მოდელირება კვლევის ინსტრუმენტია.

მათემატიკური მოდელირება გულისხმობს ობიექტის შესწავლას მოდელით, რომელიც ჩამოყალიბებულია მათემატიკის ენაზე და იყენებს მათემატიკურ მეთოდებს.

მათემატიკური მოდელი შეიძლება ჩამოყალიბდეს (შექმნას) რომელიმე სამეცნიერო ჰიპოთეზაზე დაყრდნობით, რომელიც ღებულობს მათემატიკურ სახეს რაიმე დაკვირვების ან ექსპერიმენტის შედეგად.

მათემატიკური მოდელები პირობითად შეიძლება დავეყოს რამდენიმე კლასად:

დისკრიპტული მოდელები - ესაა აღმწერი მოდელები, რომელთა დანიშნულებაა პროცესის აღწერა. პროცესები შეიძლება მიეკუთვნებოდნენ ძალზე განსხვავებულ სამეცნიერო სფეროებს, ხოლო მათემატიკური თვალსაზრისით ერთიანდებოდნენ ერთ კლასად.

ოპტიმალური მოდელები გამოიყენება მაშინ, როდესაც საჭიროა პროცესების მართვა (ანუ სხვადასხვა გადაწყვეტილებების მიღება). პროცესის მართვის რეგულირებისათვის საჭიროა რაღაცნაირად შეფასდეს ყოველი მოქმედების შედეგი, რაც ნიშნავს, რომ ცნობილი მიზნის ფუნქცია Φ მოცემული მოდელისათვის მართვის u პარამეტრების ნებისმიერი მნიშვნელობისთვის ღებულობს კონკრეტულ რიცხვით მნიშვნელობას. ვღებულობთ მინიმუმს ან მაქსიმუმს ამოცანას დასაშვები მართვის ფარგლებში.

მრავალკრიტერიუმიანი მოდელები ისეთი მოდელებია, სადაც გვაქვს არა ერთი, არამედ რამდენიმე მიზნის ფუნქცია.

თამაშთა მოდელები

აქამდე განხილული კლასები ერთიანდებიან იმით, რომ გადაწყვეტილებას ღებულობდა ერთი სუბიექტი, მაგრამ ხშირად გეხვედება კონფლიქტური სიტუაციები, როდესაც სხვადასხვა მხარეებს აქვთ განსხვავებული ინტერესები. გადაწყვეტილების მიღების პროცესში მონაწილეობს რამდენიმე სუბიექტი განსხვავებული ინტერესებით. მათემატიკურ აპარატს, რომელიც ითვალისწინებს კონფლიქტურ სიტუაციებს ეწოდება თამაშთა თეორია. მოდელები, რომლებშიც ასახულია თამაშთა თეორიის ამოცანები და მიიღება ამ თეორიის მათემატიკური აპარატის გამოყენებით, თამაშთა მოდელებს წარმოადგენენ.

იმიტაციური მოდელირება (Simulation modeling). ყველა წინა კლასის მოდელებში გვქონდა მიზანი (მიზნები), რომელთა მიღწევა ითვლებოდა სასურველად. როცა საქმე გვაქვს რთულ სისტემებთან, ხშირად მიზნის ფუნქცია ზუსტი სახით ჩამოყალიბებულიც კი არ არის. ე.ი. საქმე გვაქვს არა იმდენად ოპტიმიზაციური ამოცანების ამოხსნასთან (თუმცა ესეც გვაქვს), არამედ რთული სისტემის შესწავლასთან, მათი მომავლის პროგნოზირებასთან, რაც დამოკიდებულია მართვის სტრატეგიის შერჩევაზე. იმიტაციური მოდელირების არსი იმაში მდგომარეობს, რომ რთული სისტემის ფუნქციონირების პროცესი წარმოგვიდგება როგორც გარკვეული ალგორითმი, რომელიც რეალიზებულია კომპიუტერზე.

ამჟამად პროგრამული პაკეტების სახით რეალიზებულია ეკონომიკური პროფილის მრავალი მათემატიკური მოდელი და ამოცანა, რომლებიც ფართოთ არის დანერგული ამავე პროფილის ფირმებსა და ორგანიზაციებში.

წარმოდგენილ სახელმძღვანელოში განხილულია ეკონომიკის სოციერთი კონკრეტული ამოცანა. მათი გადაწყვეტისათვის ნაჩვენებია მათემატიკური მეთოდების გამოყენების ტექნოლოგია. საკმაოდ თვალნათლივ არის წარმოდგენილი ანალიზური და გრაფიკული მეთოდების გამოყენება დასმული ამოცანების ამოხსნის დროს. ნაჩვენებია აგრეთვე მათემატიკური მოდელების აგების პროცესი და მათი რეალიზაცია კომპიუტერზე.

თავი 1
წრფივი მათემატიკური მოდელები

რამდენიმე ზოგადი ცნება

ბევრი ეკონომიკური ამოცანა დაიყვანება წრფივი პროგრამირების ამოცანად, რომლის ამოხსნის არსი მდგომარეობს უცნობთა ისეთი მნიშვნელობების შერჩევაში, რომლებიც განაპირობებენ წრფივი ფუნქციის მაქსიმალური ან მინიმალური მნიშვნელობის მიღებას, როდესაც ამ უცნობთა მნიშვნელობები აკმაყოფილებენ წრფივი შეზღუდვების სისტემას.

დავუშვათ, რომ რაიმე ეკონომიკური მაჩვენებელი აღიწერება n ცვლადიანი წრფივი ფუნქციით

$$Z = c_1x_1 + c_2x_2 + \dots + c_nx_n \quad (1)$$

ანუ

$$Z = \sum_{i=1}^n c_i x_i$$

ხოლო (1)-ში შემავალი ცვლადები ექვემდებარებიან შემდეგი სახის წრფივ შეზღუდვებს:

$$\begin{cases} a_{11}x_1 + a_{12}x_2 + \dots + a_{1n}x_n \leq b_1 \\ a_{21}x_1 + a_{22}x_2 + \dots + a_{2n}x_n \leq b_2 \\ \dots \\ a_{m1}x_1 + a_{m2}x_2 + \dots + a_{mn}x_n \leq b_m \\ x_i \geq 0, \quad i = 1, 2, \dots, n \end{cases} \quad (2)$$

რამდენადაც Z წრფივი ფუნქციაა, ამიტომ

$$\frac{\partial Z}{\partial x_j} = c_j \quad j = 1, 2, \dots, n$$

წრფივი ფუნქციის ყველა კოეფიციენტი არ შეიძლება იყოს ნულის ტოლი, საიდანაც გამომდინარეობს, რომ შეზღუდვების სისტემით განსაზღვრულ არეში ფუნქციის ექსტრემალური წერტილები არ არსებობს. ექსტრემალური წერტილები შეიძლება არსებობდნენ არის საზღვარსე, მაგრამ საზღვრის წერტილების გამოკვლევა შეუძლებელია, რადგან ფუნქციის კერძო წარმოებულები წარმოადგენენ მუდმივებს. ამიტომ წრფივი პროგრამირების ამოცანების ამოსახსნელად საჭირო გახდა სპეციალური მეთოდების შექმნა.

ზოგადად (1) და (2) ერთად აღებული ქმნიან ეკონომიკური ამოცანის მათემატიკურ მოდელს, რომლის ამონახსნს წარმოადგენს x_1, x_2, \dots, x_n უცნობების მნიშვნელობების ერთობლიობა (ვექტორი), რომელიც აკმაყოფილებს (2) სისტემას და იძლევა Z ფუნქციის მინიმალურ (მაქსიმალურ) მნიშვნელობას.

წრფივი პროგრამირების ამოცანის დასაშვებ ამონახსნს (გეგმას) წარმოადგენს $X = (x_1, x_2, \dots, x_n)$ ვექტორი, რომელიც აკმაყოფილებს (2) სისტემას.

თუ (2) სისტემას ერთი ამონახსნი მაინც აქვს მას თავსებადი ეწოდება, წინააღმდეგ შემთხვევაში კი არათავსებადი.

გეომეტრიული ინტერპრეტაციისათვის განვიხილოთ შემთხვევა როცა $n=2$.

(2) სისტემა მიიღებს სახეს:

$$\begin{cases} a_{11}x_1 + a_{12}x_2 \leq b_1 \\ a_{21}x_1 + a_{22}x_2 \leq b_2 \\ \dots \\ a_{m1}x_1 + a_{m2}x_2 \leq b_m \\ x_1 \geq 0 \quad x_2 \geq 0 \end{cases} \quad (3)$$

(3) სისტემის თითოეული უტოლობა განსაზღვრავს ნახევარსიბრტყეს, რომლის საზღვარიცაა წრფე

$$a_{i1}x_1 + a_{i2}x_2 = b_i, \quad i = 1, 2, \dots, m \quad (4)$$

ან ნახევარსიბრტყეებს საზღვრებით $x_1 = 0$, $x_2 = 0$.

უთქვიათ (3) სისტემა თავსებადია, მაშინ ნახევარსიბრტყეები, რომლებიც განისაზღვრება (3) უტოლობებით, თანაკვეთაში გვაძლევენ ამოხსნილ დასაშვებ გეგმათა სიმრავლეს. ის

შეიძლება იყოს წერტილი, მონაკვეთი, სხივი, მრავაკუთხედი ან შემოუსაზღვრავი მრავალკუთხა არე.

თუ $n=3$, მაშინ (2) სისტემა გვაძლევს ნახევარსივრცეების თანაკვეთას, ხოლო ამონახსნების სიმრავლე იქნება დასაშვებ გეგმათა მრავალწახნაგა.

ამრიგად, გეომეტრიულად წრფივი პროგრამირების ამოცანაა მოიძებნოს დასაშვებ გეგმათა მრავალკუთხედის (მრავალწახნაგას) ისეთი წერტილები, რომლებზეც Z ფუნქცია მიიღებს თავის მინიმალურ (მაქსიმალურ) მნიშვნელობას.

წრფივი ეკონომიკური მოდელების ამოხსნა გრაფიკული მეთოდით

გრაფიკულად იხსნება მხოლოდ შემთხვევა, როცა $n=2$. ვიპოვოთ

$$Z = c_1x_1 + c_2x_2 \quad (5)$$

ფუნქციის მინიმუმი თუ სრულდება (3) პირობები.

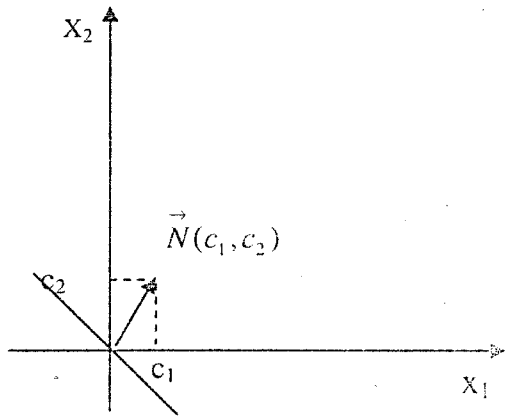
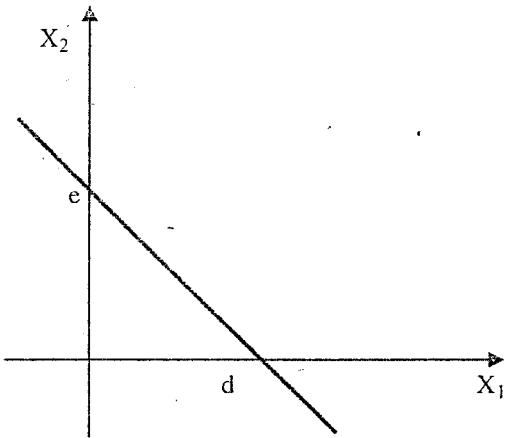
(4) პირობები განსაზღვრავს წრფეებს, ხოლო ფიქსირებული $Z=C$ -თვის (5) არის წრფის ზოგადი განტოლება

$$c_1x_1 + c_2x_2 = c \quad (6)$$

მისი გრაფიკის ასაგებად მოხერხებულია (6) ზოგადი განტოლება ნაკვეთით ღერძთა მონაკვეთებში.

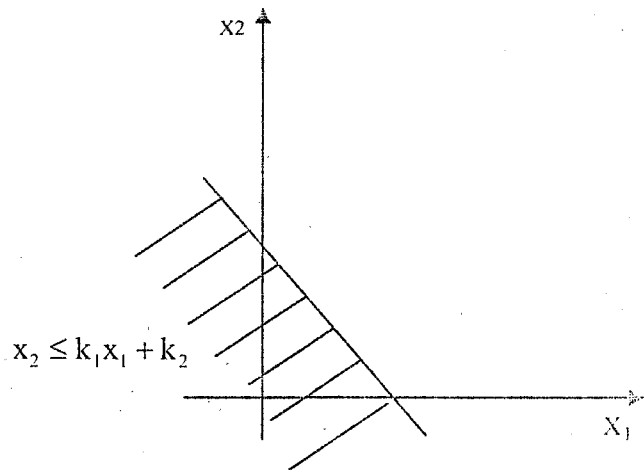
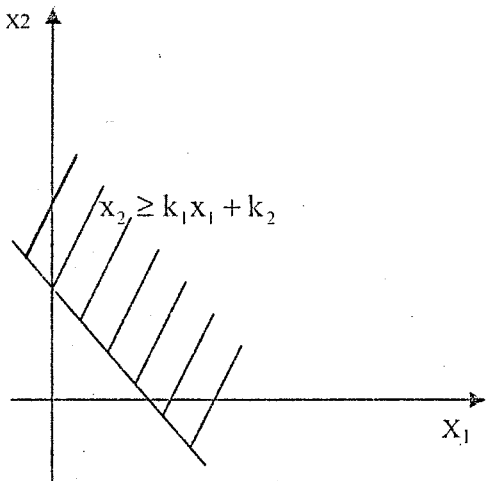
$$\frac{x_1}{d} + \frac{x_2}{e} = 1 \quad \text{სადაც} \quad d = \frac{c}{c_1}; \quad e = \frac{c}{c_2} \quad (7)$$

(7) განტოლების გრაფიკი ასე აიგება

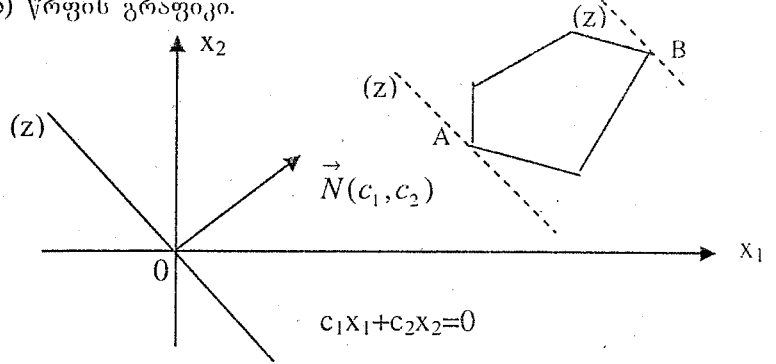


თუ (6) -ში $c=0$ ე.ი. $c_1x_1 + c_2x_2 = 0$, მაშინ მისი გრაფიკი იქნება $\vec{N} = (c_1; c_2)$ ნორმალ-ვექტორის მართობული წრფე, რომელიც გადის კოორდინატთა სათავეზე.

ორცვალიან წრფივ უტოლობებს შეესაბამება ნახევარსივრცეები. სახელდობრ:



ზემოთქმულის გათვალისწინებით (3) სისტემისათვის ავსებთ დასაშვებ გეგმათა მრავალკუთხედი და $Z=0$ -თვის (5) წრფის გრაფიკი.

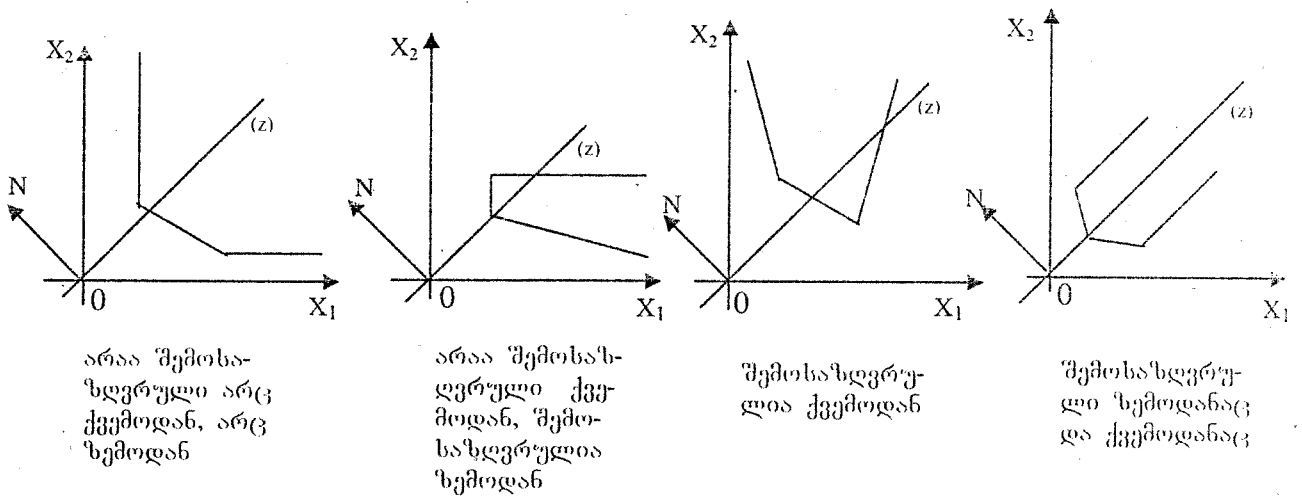


წრფივი პროგრამირების ამოცანა ღებულობს შემდეგი სახის გეომეტრიულ ინტერპრეტაციას: უნდა მოიძებნოს მრავალკუთხედის ისეთი წერტილი, რომელშიც Z ღებულობს უმცირეს (უდიდეს) მნიშვნელობას

Z -ის ზრდა ნიშნავს $Z=0$ წრფის (დონის წირის) გადაადგილებას \vec{N} ვექტორის მიმართულებით თავისი თავის პარალელურად.

ნახაზზე მოცემულ შემთხვევაში Z ფუნქციას აქვს, როგორც მინიმუმის წერტილი (A), ასევე მაქსიმუმის წერტილიც (B).

თუ დასაშვებ გეგმათა არე შემოუსაზღვრავია, მაშინ შესაძლებელია Z ფუნქციისათვის ადგილი ჰქონდეს შემდეგ შემთხვევებს:



არაა შემოსა-
ზღვრული არც
ქვემოდან, არც
ზემოდან

არაა შემოსა-
ღვრული ქვე-
მოდან, შემო-
საზღვრულია
ზემოდან

შემოსაზღვრუ-
ლია ქვემოდან

შემოსაზღვრუ-
ლი ზემოდანაც
და ქვემოდანაც

ნედლეულის ოპტიმალურად გამოყენების ამოცანის წრფივი მოდელი

განვიხილოთ წრფივი პროგრამირების ასეთი ამოცანა:

დასამზადებელია P_1 და P_2 ტიპის პროდუქცია. გამოიყენება სამი სახის ნედლეული S_1, S_2 და S_3 შესაბამისად Q_1, Q_2 და Q_3 რაოდენობისა. ვთქვათ, P_1 პროდუქციის დასამზადებლად საჭიროა S_1 ნედლეულის P_{11} ერთეული, S_2 -ის P_{21} ერთეული, და S_3 -ის P_{31} ერთეული, ხოლო P_2 -ის ერთეულისთვის S_1 -ის P_{12} ერთეული, S_2 -ის P_{22} ერთეული და S_3 -ის P_{32} ერთეული. ვთქვათ, P_1 პროდუქციის ერთეულის რეალიზებით მიღებული მოგება Π_1 ღარია, P_2 -თვის Π_2 ღარი.

განვსაზღვროთ რა რაოდენობის P_1 და P_2 პროდუქცია უნდა დავამზადოთ, რათა მივიღოთ მაქსიმალური მოგება.

ეს მონაცემები ჩაეწეროს ცხრილის სახით:

ნედლეულის სახე	ნედლეულის მარაგი	პროდუქციის ერთეულის დასამზადებლად საჭირო ნედლეულის რაოდენობა		მოგება მიღებული პროდუქციის ერთეულის რეალიზაციით	
		P_1 პროდუქციისათვის	P_2 პროდუქციისათვის	P_1 პროდუქციისათვის	P_2 პროდუქციისათვის
S_1	Q_1	P_{11}	P_{12}	Π_1	Π_2
S_2	Q_2	P_{21}	P_{22}		
S_3	Q_3	P_{31}	P_{32}		

ვთქვათ P_1 პროდუქცია უნდა დამზადდეს X_1 რაოდენობის, P_2 კი X_2 რაოდენობის.

ჩვენი მიზანია განვსაზღვროთ X_1, X_2 პროდუქციის რაოდენობა მოცემული პირობების გათვალისწინებით ისე, რომ რეალიზაციით მივიღოთ მაქსიმალური მოგება. ცხრილიდან ჩანს, რომ S_1 სახის ნედლეული დაიხარჯება $P_{11} X_1 + P_{12} X_2$ რაოდენობით, S_2 ნედლეული $P_{21} X_1 + P_{22} X_2$, ხოლო S_3 კი $P_{31} X_1 + P_{32} X_2$ რაოდენობით. ე.ი. მარაგის მოცულობის გათვალისწინებით გვექნება შესაძლებელი:

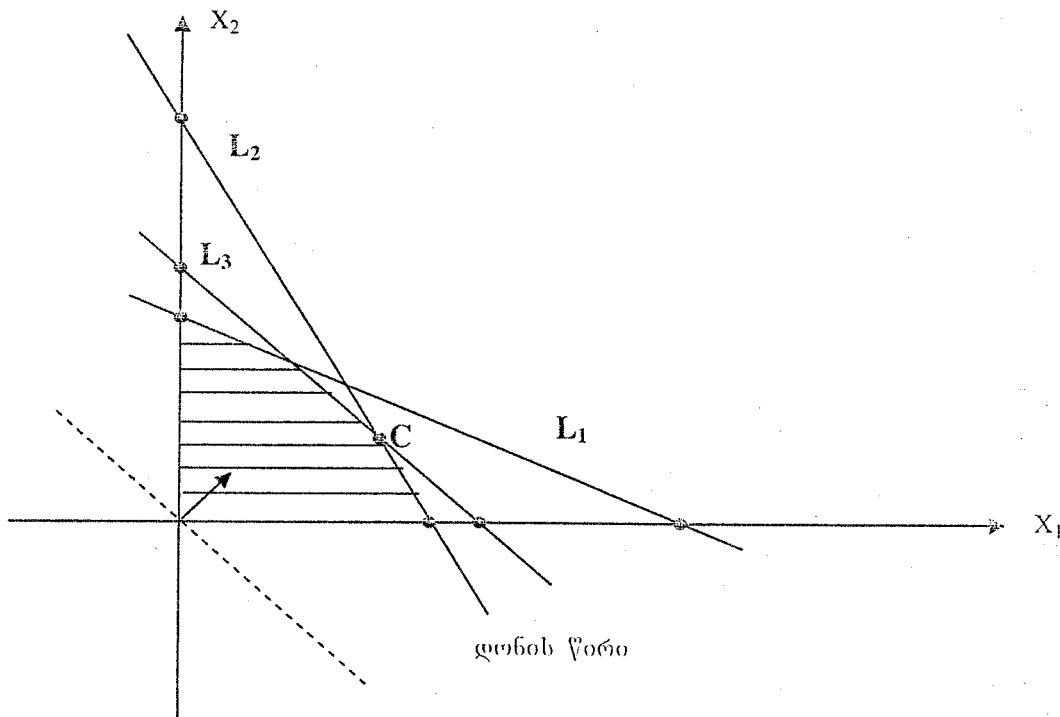
$$\begin{cases} P_{11} X_1 + P_{12} X_2 \leq Q_1 \\ P_{21} X_1 + P_{22} X_2 \leq Q_2 \\ P_{31} X_1 + P_{32} X_2 \leq Q_3 \\ X_1 \geq 0 \quad X_2 \geq 0 \end{cases} \quad (8)$$

მოგება გამოისახება შემდეგი მიზნის ფუნქციით

$$Z = \Pi_1 X_1 + \Pi_2 X_2 \quad (9)$$

ვიპოვოთ $\max Z$, თუ დაკმაყოფილებულია (8) პირობები.

გრაფიკული მეთოდით ამოცანის ამოსახსნელად საკოორდინატო სისტემაზე ავაგოთ (8) სისტემით განსაზღვრული დასაშვებ გეგმათა სიმრავლე, რომელსაც ჩვენი პირობების გათვალისწინებით ექნება მრავალკუთხედის სახე.



ავგოთ მიზნის (9) ფუნქციის დონის წირი $Z=0$ -თვის ანუ $\Pi_1 X_1 + \Pi_2 X_2=0$ ფუნქციის გრაფიკი. ეს იქნება წრფე, რომლის გადაადგილებით მისი ნორმალის მიმართულებით (თავის თავის პარალელურად) მიიღება სხვადასხვა დონის წირები (განსხვავებული Z -ის მნიშვნელობებისათვის), გომეტრიულად Z -ის მაქსიმიზაციას შეესაბამება მისი მოძრაობა "ზევით". ასეთი მოძრაობისას დასაშვებ გეგმათა სიმრავლის უკანასკნელი წერტილი, რომელიც დონის წირზე მდებარეობს, იქნება C წერტილი.

ამრიგად (L_2) და (L_3) წრფეების გადაკვეთის წერტილის კოორდინატებისათვის (9) მიზნის ფუნქცია ღებულობს მაქსიმალურ მნიშვნელობას (8) შეზღუდვების გათვალისწინებით.

C წერტილის კოორდინატების მოსაძებნად უნდა ამოიხსნას სისტემა:

$$\begin{cases} P_{21}X_1 + P_{22}X_2 = Q_2 & (L_2) \\ P_{31}X_1 + P_{32}X_2 = Q_3 & (L_3) \end{cases}$$

ვთქვათ მისი ამონახსნია $(X_1^*; X_2^*)$, მაშინ ვლგებულობთ $\max Z = \Pi_1 \cdot X_1^* + \Pi_2 \cdot X_2^*$ ღარი. ე.ი. უნდა დამზადდეს X_1^* ცალი P_1 ტიპის და X_2^* ცალი P_2 ტიპის პროდუქცია, რომ მივიღოთ მაქსიმალური მოგება.

ამოცანა 1.1. ვთქვათ გვინდა დავამზადოთ რკინა-ბეტონის კოლონები (p_1) და პანელები (p_2). გვაქვს ნედლეულის მარაგი: ცემენტი (S_1), ინერტული მასალები (S_2) და არმატურა (S_3). შესაბამისად Q_1 , Q_2 , და Q_3 პირობითი ერთეულის რაოდენობით. დავუშვათ ერთი კოლონის დასამზადებლად საჭიროა ცემენტის P_{11} , ინერტული მასალების P_{21} და არმატურის P_{31} პირობითი ერთეული, ხოლო პანელისთვის შესაბამისად ცემენტის P_{12} , ინერტული მასალების P_{22} და არმატურის P_{32} რაოდენობა. რა რაოდენობის კოლონები და პანელები დავამზადოთ, რომ მივიღოთ მაქსიმალური მოგება, თუ ვიცით, რომ 1 კოლონის რეალიზაციით მიღებული მოგება Π_1 ღარია, ხოლო 1 პანელის რეალიზაციით Π_2 ღარი. ამოვხსნათ ამოცანა გრაფიკული მეთოდით.

ამოცანა 1.1-ის ვარიანტები

№	ნედლეულის სახე	ნედლეულის მარაგი	პროდუქციის ერთეულის დასამზადებლად საჭირო ნედლეულის რაოდენობა		მოგება პროდუქციის ერთეულისაგან	
			კოლონისათვის P_1	პანელისათვის P_2	კოლონისათვის	პანელისათვის
1	2	3	4	5	6	7
1	ცემენტი (S_1) ინერტული მასალები (S_2) არმატურა (S_3)	$Q_1=10$ $Q_2=10$ $Q_3=18$	$P_{11}=1$ $P_{21}=4$ $P_{31}=2.8$	$P_{12}=2$ $P_{22}=1$ $P_{32}=3$	$\Pi_1=20$	$\Pi_2=30$
2	S_1 S_2 S_3	12 12 10	2 3 2.2	2.6 2 2.1	15	20
3	S_1 S_2 S_3	15 15 12	3 5 3.4	5.3 3 3.2	10	15

1	2	3	4	5	6	7
4	S_1	18	3	6	10	20
	S_2	18	6	3		
	S_3	12	3.6	3.8		
5	S_1	20	4	5	20	10
	S_2	20	5	4		
	S_3	24	3.6	5.6		
6	S_1	30	3	4	10	20
	S_2	30	5	3		
	S_3	24	3.8	4.5		
7	S_1	40	4	5	30	50
	S_2	40	5	4		
	S_3	32	3.6	5.5		
8	S_1	50	5	6.5	30	40
	S_2	50	7	6		
	S_3	56	4.8	4		
9	S_1	60	6	7	20	25
	S_2	60	12	4		
	S_3	30	5	5.2		
10	S_1	66	6.6	8	50	30
	S_2	66	11	3		
	S_3	50	7	5		
11	S_1	70	7	8	30	45
	S_2	70	10	4		
	S_3	50	7.8	6		
12	S_1	77	7	8	20	50
	S_2	77	11	4		
	S_3	80	8	7		
13	S_1	80	8	10	25	15
	S_2	80	10	7		
	S_3	48	5.8	8		
14	S_1	88	2.5	10	50	60
	S_2	88	8	8		
	S_3	30	6	9		
15	S_1	90	9	18	60	50
	S_2	90	18	9		
	S_3	54	10	12		
16	S_1	95	10	20	70	60
	S_2	95	20	10		
	S_3	60	12	14		
17	S_1	100	10	25	50	65
	S_2	100	25	10		
	S_3	35	14	13		
18	S_1	110	11	20	70	80
	S_2	110	20	11		
	S_3	36	6	15		
19	S_1	120	12	20	100	75
	S_2	120	20	12		
	S_3	50	7	15		
20	S_1	140	14	24	80	50
	S_2	140	20	16		
	S_3	60	12	20		

ნარევის შედგენის მოდელი

ამოცანა 12. ვთქვათ ბუნებრივი (P_1) და ხელოვნური (P_2) საკვებისათვის უნდა შევადგინოთ ნარევი. ვიცით, რომ ნარევი უნდა იყოს ცილების (S_1) არანაკლებ Q_1 რაოდენობისა, სახამებლის (S_2) არანაკლებ Q_2 რაოდენობისა და მინერალური ნივთიერებების (S_3) არანაკლებ Q_3 რაოდენობისა. ვთქვათ ბუნებრივი საკვების

ერთეული შეიცავს ცილების P_{11} რაოდენობის, სახამებლის P_{21} და მინერალური ნივთიერებების P_{31} რაოდენობას, ხოლო ხელოვნური საკვები შესაბამისად ცილების P_{12} , სახამებლის P_{22} მინერალურების P_{32} რაოდენობას.

როგორი პროპორციით შევადგინოთ ნარევი (ე.ი. რა რაოდენობით ავიღოთ ბუნებრივი და რა რაოდენობით ხელოვნური საკვები) ისე, რომ ის ცილების, სახამებლისა და მინერალურების შემცველობის მინიმუმებსაც აკმაყოფილებდეს და დანახარჯების რაოდენობა მინიმალური იყოს, თუ ბუნებრივი საკვების 1 ერთეული Π_1 ლარი ღირს, ხოლო ხელოვნურისა Π_2 ლარი? ამოვხსნათ ამოცანა გრაფიკული მეთოდით.

ეს მონაცემები წარმოვადგინოთ ცხრილის სახით:

ნივთიერების სახეები	ნარევი ნივთიერების მინიმალური რაოდენობა	საკვების ერთეულში ნივთიერების ერთეულის რაოდენობა		საკვების ერთეულის ღირებულება	
		ბუნებრივი P_1	ხელოვნური P_2	ბუნებრივი	ხელოვნური
ცილები (S_1)	Q_1	P_{11}	P_{12}	Π_1 ლარი	Π_2 ლარი
სახამებელი (S_2)	Q_2	P_{21}	P_{22}		
მინერალური (S_3)	Q_3	P_{31}	P_{32}		

ვთქვათ, ნარევის შედგენისას უნდა შევუერთოთ ბუნებრივი საკვების X_1 ერთეული, და ხელოვნურის X_2 ერთეული, მაშინ ნივთიერებათა მინიმუმის შემცველობის მოთხოვნის დაკმაყოფილების პირობა ასე ჩაიწერება:

$$\begin{cases} P_{11}X_1 + P_{12}X_2 \geq Q_1 \\ P_{21}X_1 + P_{22}X_2 \geq Q_2 \\ P_{31}X_1 + P_{32}X_2 \geq Q_3 \\ X_1 \geq 0 \quad ; \quad X_2 \geq 0 \end{cases} \quad (10)$$

მივიღოთ დასაშვები გეგმების სიმრავლე.

ნარევის ღირებულება, გამოსახული ღირებულებაში, ცხადია იქნება:

$$Z = \Pi_1 X_1 + \Pi_2 X_2 \quad (11)$$

(11) არის მიზნის ფუნქცია.

საბოლოოდ ამოცანის მათემატიკური მოდელი ასე ჩამოყალიბდება:

ვიპოვოთ $\min Z$, თუ კმაყოფილდება (10) პირობები.

(12) ამოცანა თავისი შინაარსით (1.1) ამოცანის ანალოგიურია, მხოლოდ იმ განსხვავებით, რომ (8)-ში და (10)-ში პირველ სამ შეზღუდვაში უტოლობის ნიშნებს განსხვავებული შინაარსი აქვთ, ხოლო (1.1) ამოცანაში მოთხოვნილია მიზნის ფუნქციის მაქსიმუმის მოძებნა, ხოლო (1.2) კი მინიმუმის.

ამოცანა 1.2-ის ვარიანტები.

№	ნივთოერების სახეები	ნარეკში ნივთოერებების მინიმალური რაოდენობა	საკვების ერთეულში ნივთოერების ერთეულის რაოდენობა		საკვების ერთეულის ღირებულება	
			ბუნებრივი	ხელოვნური	ბუნებრივი	ხელოვნური
1	2	3	4	5	6	7
1	ციღები (S_1) სახამებელი (S_2) მინერალები (S_3)	$Q_1=12$ $Q_2=10$ $Q_3=15$	$P_{11}=3$ $P_{21}=1$ $P_{31}=1$	$P_{12}=1$ $P_{22}=1$ $P_{32}=3$	$\Pi_1=2$	$\Pi_2=3$
2	S_1 S_2 S_3	16 8 20	4 1 1	1 1 4	3	2
3	S_1 S_2 S_3	20 10 25	5 1 1	1 1 5	4	5
4	S_1 S_2 S_3	24 10 25	6 1 1	1 1 6	5	6
5	S_1 S_2 S_3	18 10 18	3 2 1	1 1 3	7	9
6	S_1 S_2 S_3	12 10 16	4 2 1	1 1 4	9	7
7	S_1 S_2 S_3	20 16 25	5 2 1	1 1 5	6	8
8	S_1 S_2 S_3	24 12 18	6 2 1	1 1 6	8	6
9	S_1 S_2 S_3	18 16 12	3 2 1	2 2 3	10	6
10	S_1 S_2 S_3	30 25 37	8 3 3	3 3 8	8	10
11	S_1 S_2 S_3	40 27 50	6 3 3	3 3 6	8	10
12	S_1 S_2 S_3	50 21 60	12 3 3	3 3 12	10	8
13	S_1 S_2 S_3	60 24 25	15 3 3	3 3 15	12	6
14	S_1 S_2 S_3	45 25 45	7 5 3	3 3 7	6	12

1	2	3	4	5	6	7
15	S ₁	30	10	3	12	8
	S ₂	24	6	3		
	S ₃	45	3	10		
16	S ₁	50	13	3	8	12
	S ₂	40	5	3		
	S ₃	65	3	13		
17	S ₁	60	18	3	12	10
	S ₂	30	5	3		
	S ₃	51	3	18		
18	S ₁	30	15	2	10	12
	S ₂	24	6	4		
	S ₃	40	4	10		
19	S ₁	45	20	3	14	7
	S ₂	30	5	5		
	S ₃	40	4	20		
20	S ₁	32	16	2	7	14
	S ₂	30	6	5		
	S ₃	48	2	16		

თავი 2

წრფივი მათემატიკური მოდელების ამოხსნა სიმპლექს-მეთოდით

სიმპლექს-მეთოდის არსი

სიმპლექს-მეთოდი წრფივი პროგრამირების ამოცანის ამოხსნის ერთ-ერთი ძირითადი მეთოდია. იგი პირველად გამოქვეყნდა დანცივის შრომებში 1951 წ.

სიმპლექს-მეთოდი საშუალებას გვაძლევს ვიპოვოთ

$$z = c_0 + c_1 x_1 + c_2 x_2 + \dots + c_n x_n \quad (1)$$

ფუნქციის მინიმუმი შემდეგი შეზღუდვების გათვალისწინებით:

$$\begin{cases} a_{11}x_1 + a_{12}x_2 + \dots + a_{1n}x_n = b_1 \\ a_{21}x_1 + a_{22}x_2 + \dots + a_{2n}x_n = b_2 \\ \dots \dots \dots \\ a_{m1}x_1 + a_{m2}x_2 + \dots + a_{mn}x_n = b_m \\ x_i \geq 0, \quad i = 1, 2, \dots, n \end{cases} \quad (2)$$

ვთქვათ (2) სისტემის კოეფიციენტების მატრიცის რანგია r , მაშინ გაუს-კორდანის მეთოდის გამოყენებით (2) მიიყვანება ასეთ სახეზე:

$$\begin{cases} x_1 + \alpha_{1,r+1}x_{r+1} + \dots + \alpha_{1,n}x_n = \beta_1 \\ x_2 + \alpha_{2,r+1}x_{r+1} + \dots + \alpha_{2,n}x_n = \beta_2 \\ \dots \dots \dots \\ x_r + \alpha_{r,r+1}x_{r+1} + \dots + \alpha_{r,n}x_n = \beta_r \end{cases} \quad (3)$$

(ზოგადადის შეუზღუდავად მივიღოთ, რომ ერთეულოვან მატრიცას შეესაბამება პირველი r (კვლადი) x_1, x_2, \dots, x_r ცვლადებს ეწოდოთ საბაზისო ცვლადები, ხოლო $x_{r+1}, x_{r+2}, \dots, x_n$ ცვლადებს კი თავისუფალი ცვლადები. საბაზისო ცვლადები შეიძლება გამოხატული იყოს თავისუფალი ცვლადებით. მათივე საშუალებით შეიძლება გამოხატული იქნეს აგრეთვე მიზნის Z ფუნქციაც.

$$z = \gamma_0 + \gamma_{r+1}x_{r+1} + \gamma_{r+2}x_{r+2} + \dots + \gamma_n x_n \quad (4)$$

(3) სისტემის ამონახსნს, რომელშიც თავისუფალი ცვლადები ნულებია, ხოლო საბაზისო ცვლადები კი გამოითვლება (3)-დან, (ამ შემთხვევაში $x_1 = \beta_1, x_2 = \beta_2, \dots, x_r = \beta_r$) ეწოდება საბაზისო ამონახსნები.

საბაზისო ამონახსნი შეესაბამება (3) სისტემით განსაზღვრულ დასაშვებ ამონახსნთა (დასაშვებ გეგმათა) “მრავალკუთხედის” წვეროს და აქვს სახე:

$$\begin{aligned} & (\beta_1, \beta_2, \dots, \beta_r, 0, 0, \dots, 0) \\ & \text{ანუ} \hspace{18em} (5) \end{aligned}$$

$$x_1 = \beta_1, x_2 = \beta_2, \dots, x_r = \beta_r, x_{r+1} = 0, x_{r+2} = 0, \dots, x_n = 0$$

ამ ამონახსნისათვის (4) მიზნის ფუნქციას ექნება მნიშვნელობა

$$Z = \gamma_0$$

სიმპლექს-მეთოდის იდეა იმაში მდგომარეობს, რომ ერთი საბაზისო ამონახსნიდან გადავიდეთ მეორე საბაზისო ამონახსნზე ისე, რომ Z ფუნქციის მნიშვნელობა შემცირდეს (ან უკიდურეს შემთხვევაში არ გაიზარდოს მანძი). ასეთი მოქმედებების თანმიმდევრულად შესრულებისას მივიღებთ ოპტიმალურ ამონახსნამდე ანუ ვლებულობთ Z ფუნქციის გლობალურ მინიმუმს (ან ვასაბუთებთ, რომ Z ფუნქციას (2) შეზღუდვების შემთხვევაში მინიმუმი არ გააჩნია)

განვიხილოთ სიმპლექს-მეთოდით ერთი საბაზისო ამონახსნიდან მეორეზე გადასვლის მექანიზმი. (3) სისტემა ასეთი სახით გადავწეროთ:

$$\begin{cases} x_1 = \beta_1 - (\alpha_{1,r+1}x_{r+1} + \dots + \alpha_{1,n}x_n) \\ x_2 = \beta_2 - (\alpha_{2,r+1}x_{r+1} + \dots + \alpha_{2,n}x_n) \\ \dots \\ x_r = \beta_r - (\alpha_{r,r+1}x_{r+1} + \dots + \alpha_{r,n}x_n) \\ x_i \geq 0 \quad i = 1, 2, \dots, n \end{cases} \quad (6)$$

აქ ვიგულისხმობთ, რომ ყველა $\beta_i \geq 0, i=1, 2, \dots, r$. ახალ საბაზისო ამონახსნზე გადასვლა (ანუ ამონახსნთა მრავალკუთხედის ახალ წვეროზე გადასვლა). ხდება (5) ამონახსნიდან რომელიმე საბაზისო ცვლადის შეცვლით თავისუფალი ცვლადების საშუალებით ისე, რომ ეს თავისუფალი ცვლადი ხდება საბაზისო, ხოლო ყოფილი საბაზისო ცვლადი კი ხდება თავისუფალი ცვლადი (ე.ი. ხდება ჩანაცვლება ცვლადებს შორის). ეს პროცესი ისე უნდა მოხდეს, რომ Z ფუნქციის მნიშვნელობა შემცირდეს (არ გაიზარდოს მაინც).

Z -ის (4) ჩანაწერში თავისუფალი ცვლადების კოეფიციენტებს შორის მოვებნოთ უარყოფითი. თუ ასეთი არ მოიძებნა, მაშინ (5) ამონახსნი ყოფილა ოპტიმალური, რადგან თავისუფალი ცვლადები უარყოფით მნიშვნელობებს ვერ მიიღებენ (7) შეზღუდვების გამო, მაშინ კი Z შემცირებს მნიშვნელობას მიიღებს $x_{r+1} = 0, \dots, x_n = 0$ მნიშვნელობებისათვის და $\min Z = \gamma_0$. თუ (4)-ში თავისუფალი ცვლადების კოეფიციენტებიდან რამდენიმე უარყოფითია, მაშინ მათ შორის ნებისმიერი შეიძლება შეირჩეს, რაც შედეგზე გავლენას არ ახდენს. ასეთ შემთხვევაში ჩაწერილი Z ფუნქცია კლებულობს x_j ცვლადის (x_j შერჩეული უარყოფითკოეფიციენტებიანი თავისუფალი ცვლადია) ზრდასთან ერთად, მაგრამ x_j -ის გაზრდა შეიძლება ვიდრე კმაყოფილდება (6) პირობები ანუ $x_1 \geq 0, x_2 \geq 0, \dots, x_r \geq 0$ უტოლობები.

იმისათვის, რომ ეს პირობები არ დაირღვეს (7) სისტემაში კოეფიციენტების მატრიცის j -ური სვეტის შესაბამის $\alpha_{1j}, \alpha_{2j}, \dots, \alpha_{rj}$ კოეფიციენტებს შორის შევარჩიოთ უარყოფითები. ეთქვათ ეს კოეფიციენტებია $\alpha_{1j}, \alpha_{2j}, \dots, \alpha_{kj} (k \leq r)$ (აქ ზოგადობის შეუზღუდავად ასეთ კოეფიციენტებად ვიგულისხმებთ პირველ k განტოლებაში მოცემული კოეფიციენტები) როდესაც x_j იზრდება, მაშინ x_1, x_2, \dots, x_k ცვლადები მცირდება და მათ შორის პირველად ის ცვლადი ხდება ნულის ტოლი, რომლისთვისაც $\frac{\beta_p}{|\alpha_{pj}|}$ შეფარდება უმცირესი იქნება ($p=1, 2, \dots, k$) ამრიგად $\gamma_j < 0$ თვის შეირჩევა x_j .

x_ℓ ცვლადი გახდება თავისუფალი, ხოლო x_j -კი საბაზისო ცვლადი. ამრიგად საბაზისო ცვლადები იქნება $x_1, x_2, \dots, x_{\ell-1}, x_{\ell+1}, \dots, x_r, x_j$, ხოლო თავისუფალი ცვლადები კი $x_\ell, x_{r+1}, x_{r+2}, \dots, x_{j-1}, x_{j+1}, \dots, x_n$.

ამ ეტაპზე ჩვენი მიზანია ახალი ცვლადების საშუალებით გამოვსახოთ როგორც მიზნის Z ფუნქცია, ასევე ახალი საბაზისო ცვლადები.

$$\begin{aligned} x_1 &= \beta_1^* + \alpha_{1,\ell}^* x_\ell + \alpha_{1,r+1}^* x_{r+1} + \dots + \alpha_{1,n}^* x_n \\ x_2 &= \beta_2^* + \alpha_{2,\ell}^* x_\ell + \alpha_{2,r+1}^* x_{r+1} + \dots + \alpha_{2,n}^* x_n \\ &\dots \\ x_{\ell-1} &= \beta_{\ell-1}^* + \alpha_{\ell-1,\ell}^* x_\ell + \alpha_{\ell-1,r+1}^* x_{r+1} + \dots + \alpha_{\ell-1,n}^* x_n \\ x_{\ell+1} &= \beta_{\ell+1}^* + \alpha_{\ell+1,\ell}^* x_\ell + \alpha_{\ell+1,r+1}^* x_{r+1} + \dots + \alpha_{\ell+1,n}^* x_n \\ &\dots \\ x_r &= \beta_r^* + \alpha_{r,\ell}^* x_\ell + \alpha_{r,r+1}^* x_{r+1} + \dots + \alpha_{r,n}^* x_n \\ x_j &= \beta_j^* + \alpha_{j,\ell}^* x_\ell + \alpha_{j,r+1}^* x_{r+1} + \dots + \alpha_{j,n}^* x_n \end{aligned} \quad (7)$$

ხოლო (4) მიზნის ფუნქცია კი ასე ჩაიწერება

$$Z = \gamma_0^* + \gamma_\ell^* x_\ell + \gamma_{r+1}^* x_{r+1} + \dots + \gamma_{j-1}^* x_{j-1} + \gamma_{j+1}^* x_{j+1} + \dots + \gamma_n^* x_n \quad (8)$$

თუ (8) ჯამში γ^* კოეფიციენტები დადებითია, მაშინ საბაზისო ამონახსნი

$$(\beta_1^*, \beta_2^*, \dots, \beta_{\ell-1}^*; 0; \beta_{\ell+1}^*, \dots, \beta_r^*, 0, 0, \dots, \beta_j^*, 0, \dots, 0) \text{ ანუ}$$

$$(x_1 = \beta_1^*; x_2 = \beta_2^*, \dots, x_{\ell-1} = \beta_{\ell-1}^*; x_\ell = 0; x_{\ell+1} = \beta_{\ell+1}^*, \dots, x_r = \beta_r^*; x_{r+1} = 0, \dots, x_j = \beta_j^*; 0, \dots, 0)$$

ოპტიმალური ამონახსნია, თუ ყველა დადებითი არაა, მაშინ γ^* კოეფიციენტებს შორის შევარჩევთ უარყოფითს და მოვლს ხემოთმოყვანილ პროცედურას გავიმეორებთ. ეს პროცესი გაგრძელდება ვიდრე ა) (8) ჯამში ყველა γ^* კოეფიციენტი (გარდა შესაძლოა γ_0^* -ისა) დადებითი არ იქნება და ასეთ შემთხვევაში $\min Z = \gamma_0^*$ ე.ი. გლობალური მინიმუმი ნაპოვნია. ბ) შესაძლებელია რომელიმე x_q ცვლადისათვის (8) -დან $\gamma_q^* < 0$, ხოლო x_q -ს შესაბამისი ყველა კოეფიციენტი (7) -დან დადებითია, ასეთ შემთხვევაში x_q -ს გაზრდა შეიძლება უსასრულოდ, ისე რომ პირობები (7) -დან არ დაირღვეს. აქედან გამომდის, რომ Z ფუნქციის მინიმუმი არ გააჩნია.

ამრიგად სიმპლექს-მეთოდის საშუალებით ან ვპოულობთ $\min Z$ ან ვადგენთ, რომ მას მინიმუმი არ აქვს.

რეალური ამოცანების ამოხსნისას (2) სისტემაში ხშირად გვაქვს უტოლობები.

$$\begin{cases} a_{11}x_1 + a_{12}x_2 + \dots + a_{1n}x_n \leq b_1 \\ a_{21}x_1 + a_{22}x_2 + \dots + a_{2n}x_n \leq b_2 \\ \dots \\ a_{m1}x_1 + a_{m2}x_2 + \dots + a_{mn}x_n \leq b_m \end{cases} \quad (9)$$

ასეთ შემთხვევაში შემოგვაქვს ფიქტიური ცვლადები $x_{n+1}, x_{n+2}, \dots, x_{n+m}$, რის შემდეგაც (10) უტოლობათა სისტემა დებულობს (2) სახეს

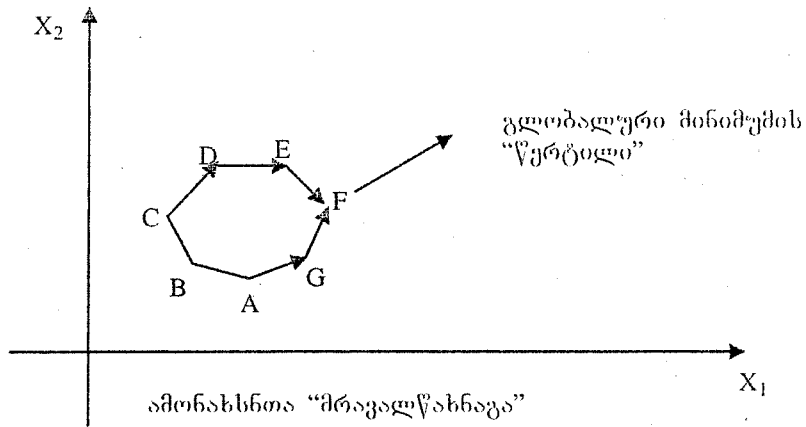
$$\begin{aligned} a_{11}x_1 + a_{12}x_2 + \dots + a_{1n}x_n + x_{n+1} &= b_1 \\ a_{21}x_1 + a_{22}x_2 + \dots + a_{2n}x_n + x_{n+2} &= b_2 \\ \dots & \\ a_{m1}x_1 + a_{m2}x_2 + \dots + a_{mn}x_n + x_{n+m} &= b_m \end{aligned} \quad (10)$$

ამის შემდეგ სიმპლექს-მეთოდის ალგორითმით ხდება Z ფუნქციის მინიმიზაცია. იშვიათ შემთხვევაში შესაძლებელია ე.წ. "ჩაცოკლევა" ანუ რაღაც ეტაპზე უკვე გავლილ საბაზისო ამონახსნზე დაბრუნება. ამ დროს საჭიროა სხვა $\gamma_j < 0$ კოეფიციენტის შერჩევა საბაზისო ცვლადების შესაცვლელად.

სიმპლექს-მეთოდის გეომეტრიული ინტერპრეტაცია

(2) შეზღუდვები განსაზღვრავენ "მრავალწახნაგას", რომლის წვეროებსაც შეესაბამება საბაზისო ამონახსნები. Z ფუნქციის მინიმუმის მოძებნა შეიძლებოდა ყველა წვეროს გადარჩევით, მაგრამ საკმაოდ დიდი m და n მნიშვნელობისათვის წვეროების რაოდენობა ძალიან დიდია და გამოთვლების ჩატარება მეტად შრომატევადი საქმეა. სიმპლექს-მეთოდის ალგორითმი საშუალებას გვაძლევს გადავიდეთ ერთი წვეროდან მეორეზე (ანუ ერთი საბაზო ამონახსნიდან მეორეზე) ისე, რომ Z მნიშვნელობა შემცირდეს (ან არ გაიზარდოს მაინც).

გლობალური მინიმუმისაკენ "ხელის მარშრუტი" დამოკიდებულია იმაზე, თუ რომელი იქნება პირველი საბაზისო ამონახსნი.



ვთქვათ გლობალური მინიმუმის "წერტილია" F, მაშინ თუ პირველ წვეროდ A წერტილი შეირჩა, სიმპლექს-მეთოდის "გზა" ასეთი იქნება $A \rightarrow G \rightarrow F$, ხოლო პირველი C წერტილის შემთხვევაში $C \rightarrow D \rightarrow E \rightarrow F$. "გზათა" მრავალფარიანობა დაკავშირებულია Z ფუნქციის (4) წარმოდგენაში უარყოფით γ_j კოეფიციენტებს შორის ერთ-ერთის შერჩევის თავისუფალ არჩევანზე.

განვიხილოთ კონკრეტული შემთხვევა
ვიპოვოთ $\min Z$, თუ

$$Z = 4x_1 + 6x_2 \quad (11)$$

$$\text{და} \begin{cases} 3x_1 + x_2 \geq 9 \\ x_1 + 2x_2 \geq 8 \\ x_1 + 6x_2 \geq 12 \\ x_1 \geq 0; x_2 \geq 0 \end{cases} \quad (11^*)$$

უტოლობები (11*) სისტემაში შევცვალოთ განტოლებებით.

ამისათვის შემოვიტანოთ ფიქტიური ცვლადები x_3, x_4 და x_5

$$\begin{cases} 3x_1 + x_2 - x_3 = 9 \\ x_1 + 2x_2 - x_4 = 8 \\ x_1 + 6x_2 - x_5 = 12 \\ x_i \geq 0; i = 1, 2, \dots, 5 \end{cases} \quad (12)$$

მიღებული მატრიცის რანგი 3-ის ტოლია, ამიტომ (4) სისტემა გაუხ-კორდანის მეთოდით შეიძლება მიყვანილი იქნას შემდეგ სახეზე:

$$\begin{cases} x_1 = 6 + 1.5x_4 - 0.5x_5 \\ x_2 = 1 - 0.25x_4 + 0.25x_5 \\ x_3 = 10 + 4.25x_4 - 1.25x_5 \\ x_i \geq 0; i = 1, 2, \dots, 5 \end{cases} \quad (13)$$

ჩავსვათ რა (13)-ს (11)-ში, Z ფუნქცია გამოისახება თავისუფალი ცვლადებით

$$Z = 4x_1 + 6x_2 = 30 + 4.5x_4 - 0.5x_5 \quad (14)$$

თავისუფალი ცვლადები x_4 და x_5 გავანულოთ, მაშინ საბაზისო ამონახსნს ექნება სახე $(6; 1; 10; 0; 0)$.

(14) წარმოდგენაში x_5 -ის კოეფიციენტი $-0.5 < 0$ ე.ი. x_5 -ის გაზრდით ($x_4=0$ შემთხვევაში) Z ფუნქციის მნიშვნელობები შემცირდება, მაგრამ x_5 -ის ზრდისას (13)-ში შეიძლება დაირღვეს $x_1 \geq 0$ და $x_3 \geq 0$ პირობები, რადგან x_5 -ის შესაბამისი კოეფიციენტები უარყოფითია. ამრიგად,

(13) სისტემის I და III განტოლებებიდან გამოვძინარე x_1 და x_3 საბაზისო ცვლადებიდან უნდა შეირჩეს ის, რომელიც x_5 -ის ზრდის შედეგად პირველი ხდება ნულის ტოლია, ამისათვის გამოვთვალოთ:

$$\min\left\{\frac{6}{|-0.5|}; \frac{10}{|-1.25|}\right\} = \min\{12; 8\} = 8$$

რის შემდეგაც შევარჩევთ x_3 საბაზისო ცვლადს, რომელიც უნდა გავხადოთ თავისუფალი ცვლადი, ხოლო x_5 კი გახდება საბაზისო ცვლადი ე.ი. მოხდება ახალ საბაზისო ამონახსნზე გადასვლა. ეს პროცესი ასე განვახორციელოთ: (13)-ის III განტოლებიდან:

$$x_5 = 8 - 0.8x_3 + 3.4x_4$$

x_5 -ის გამოსახულება შევიტანოთ (13) და (14) განტოლებებში, მივიღებთ:

$$\begin{cases} x_1 = 2 + 0.4x_3 - 0.2x_4 \\ x_2 = 3 - 0.2x_3 + 0.6x_4 \\ x_5 = 8 - 0.8x_3 + 3.4x_4 \\ x_i \geq 0; \quad i = 1, 2, \dots, 5 \end{cases} \quad (15)$$

$$Z = 26 + 0.4x_3 + 2.8x_4 \quad (16)$$

Z -ის (16) წარმოდგენაში თავისუფალი ცვლადების ყველა კოეფიციენტი დადებითია. ეს ნიშნავს, რომ დასაშვები მნიშვნელობებისათვის ($x_3 \geq 0, x_4 \geq 0$) Z ფუნქცია მინიმალურ მნიშვნელობას მიიღებს $x_3 = 0; x_4 = 0$ -ის დროს $\min Z = 26$. შესაბამისად (15)-დან $x_1 = 2; x_2 = 3; x_5 = 8$; საბაზისო ამონახსნია (2; 3; 0; 0; 8).

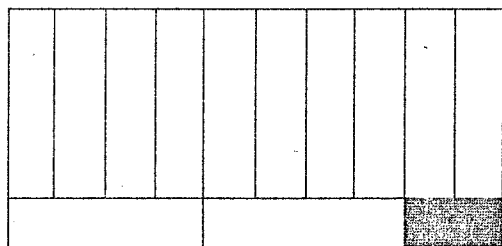
რაციონალური გამოჭრის ამოცანა

რაციონალური გამოჭრის ამოცანის მიზანია “დიდი ზომის” ფიგურებიდან გამოვჭრათ “პატარა ზომის” საჭირო რაოდენობის ფიგურები ისე, რომ მასალის ხარჯი მინიმალური იყოს.

განვიხილოთ მართკუთხედის ფორმის ფიგურების შემთხვევა.

ვთქვათ, მოცემულია მართკუთხა ფურცლები ზომებით $a \times b$. უნდა გამოიჭრას m რაოდენობის A ტიპის მართკუთხა გამონაჭერი ზომებით $a_1 \times b_1$ და n რაოდენობის B ტიპის მართკუთხა გამონაჭერი ზომებით $a_2 \times b_2$. შევარჩიოთ ფურცლის დაჭრის 3 ვარიანტი და შევადგინოთ გეგმა, რომლის მიხედვითაც გამოიჭრება საჭირო რაოდენობისა და ასორტიმენტის გამონაჭერი, ხოლო მასალის დანახარჯი მინიმალური იქნება.

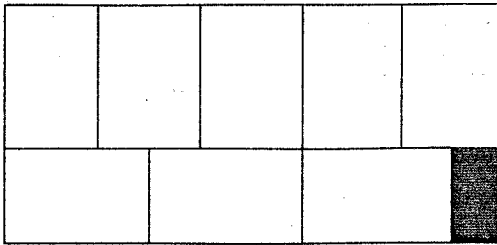
განვიხილოთ შემთხვევა, როცა $a = 5; b = 10; a_1 = 4; b_1 = 1; a_2 = 2; b_2 = 3; m = 1600; n = 1000$ შევადგინოთ ფურცლის დაჭრის 3 ვარიანტი:



1 ვარიანტი

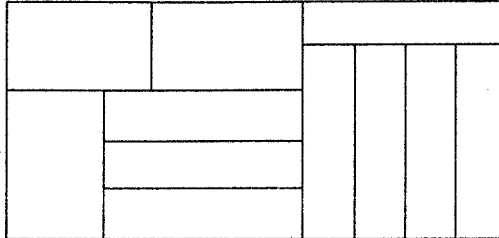
A ტიპის 12 გამონაჭერი

B ტიპის 0 გამონაჭერი



2 ვარიანტი

- A ტიპის 0 გამონაჭერი
- B ტიპის 8 გამონაჭერი



3 ვარიანტი

- A ტიპის 8 გამონაჭერი
- B ტიპის 3 გამონაჭერი

ვთქვათ, 1 ვარიანტის მიხედვით უნდა დაიჭრას x_1 რაოდენობის ფურცელი, 2 ვარიანტის მიხედვით x_2 და 3 ვარიანტის – x_3 რაოდენობის ფურცელი. (ჩვენი მიზანია მათი განსაზღვრა).

მიზნის ფუნქციას, რომლის მინიმიზაციასაც ვაპირებთ ექნება სახე:

$$Z = x_1 + x_2 + x_3$$

თუ x_1 რაოდენობის ფურცელი დავჭერთ 1 ვარიანტის მიხედვით, მაშინ მიიღება A ტიპის $12x_1$ გამონაჭერი. ანალოგიური მსჯელობით მივიღებთ რომ A ტიპის გამონაჭერებს საერთო რაოდენობა იქნება:

$$12x_1 + 0x_2 + 8x_3$$

ცხადია $x_i \geq 0; i = 1, 2, 3$

B ტიპის გამონაჭერების საერთო რაოდენობა იქნება:

$$0x_1 + 8x_2 + 3x_3$$

საბოლოოდ მივიღებთ ამოცანის მათემატიკურ მოდელს: ვიპოვოთ $\min Z$, თუ

$$Z = x_1 + x_2 + x_3 \quad (17)$$

$$\begin{cases} 12x_1 + 0x_2 + 8x_3 = 1600 & (18) \\ 0x_1 + 8x_2 + 3x_3 = 1000 \\ x_i \geq 0; i = 1, 2, 3 \end{cases}$$

ამოცანის სიმპლექს მეთოდით ამოსახსნელად (18) პირობები ასე გადავწეროთ:

$$\begin{cases} x_1 = \frac{1600}{12} - \frac{8}{12}x_3 \\ x_2 = \frac{1000}{8} - \frac{3}{8}x_3 \\ x_i \geq 0; i = 1, 2, 3 \end{cases}$$

ანუ

$$\begin{cases} x_1 = 133.3 - 0.67x_3 \\ x_2 = 125 - 0.375x_3 \\ x_i \geq 0; i = 1, 2, 3 \end{cases} \quad (19)$$

x_1 და x_2 საბაზისო ცვლადებია, x_3 – თავისუფალი ცვლადია.

გამოვსახსოთ თავისუფალი x_3 ცვლადით მიზნის (18) ფუნქცია

$$Z=133.3-0.67x_3+125-0.375x_3+x_3=258.3-0.045x_3$$

$$Z=258.3-0.045x_3 \quad (20)$$

x_3 -ის ზრდა ამცირებს Z -ის მნიშვნელობას (რადგან მისი კოეფიციენტი უარყოფითია), მაგრამ x_3 -ის ზრდას "აფერხებს" (19) პირობები, რადგან შესაძლებელია რომელიმე საბაზისო ცვლადი უარყოფითი გახდეს. დავადგინოთ x_3 -ის ზრდა რომელ საბაზისო ცვლადს ანულებს პირველად. განვიხილოთ ზოგადი შემთხვევა. (19) სისტემა ჩავწერთ ასეთი სახით:

$$\begin{cases} x_1 = \beta_1 + \alpha_1 x_3 \\ x_2 = \beta_2 + \alpha_2 x_3 \end{cases} \quad \alpha_1 < 0; \alpha_2 < 0$$

მაშინ პირველად განულებადი საბაზისო ცვლადის დასადგენად უნდა გამოვყოვადოთ

$\min\left\{\frac{\beta_1}{|\alpha_1|}; \frac{\beta_2}{|\alpha_2|}\right\}$ თუ $\frac{\beta_1}{|\alpha_1|} < \frac{\beta_2}{|\alpha_2|}$, პირველად განულება x_1 , წინააღმდეგ შემთხვევაში x_2 .

ჩვენს მოდელში $\frac{133.3}{|-0.67|} < \frac{125}{|-0.375|}$, ამიტომ x_3 ცვლადი გახდება საბაზისო, ხოლო x_1

თავისუფალი. ჩავატაროთ ეს პროცედურა: (19) სისტემა ასე გარდაექმნათ $0.67x_3 \approx 133.3 - x_1$ ანუ $x_3 = 199 - 1.49x_1$. ჩავსვათ ეს მნიშვნელობა (19) -ის II განტოლებაში $x_2 \approx 125 - 0.375(199 - 1.49x_1)$. აქედან $x_2 \approx 50.37 + 0.56x_1$

გამოვსახოთ ახლა თავისუფალი ცვლადით მიზნის (20) ფუნქცია

$$Z = 258.3 - 0.045(199 - 1.49x_1) \approx 249.37 + 0.067x_1 \quad (21)$$

შეზღუდვებს ექნება სახე

$$\begin{cases} x_3 = 199 - 1.49x_1 \\ x_2 = 50.37 + 0.56x_1 \end{cases} \quad (22)$$

რადგან (21)-ში x_1 -ის კოეფიციენტი დადებითია, მინიმალურ მნიშვნელობას Z ფუნქცია მიიღებს $x_1=0$ -თვის $\min Z = 249.37$, ხოლო (22)-დან $x_3 \approx 199$ $x_2 \approx 50.37$

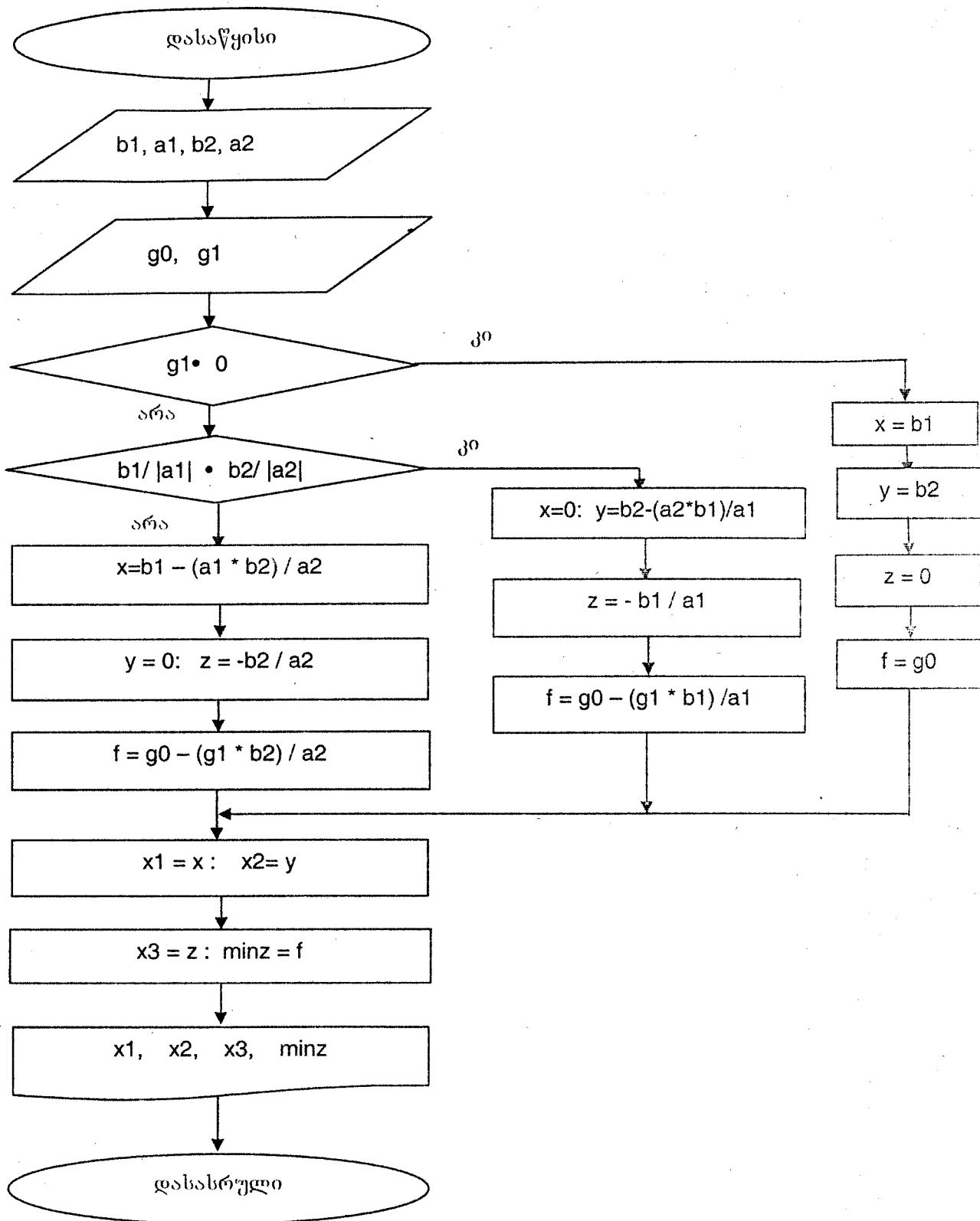
ამრიგად 1 ვარიანტის მიხედვით არ უნდა დაიჭრას არც ერთი დიდი ფურცელი, 2 ვარიანტის მიხედვით 199, ხოლო 3 ვარიანტის მიხედვით 50, იმისათვის რომ შესრულდეს ამოცანის პირობები და დაიხარჯოს ფურცლების მინიმალური რაოდენობა.

$$\min Z = 249$$

(21)-ში თავისუფალი ცვლადის კოეფიციენტი უარყოფითი თუ იქნებოდა, მაშინ გამოთვლათა თანმიმდევრობას გავიმეორებდით.

შესაძლებელია Z -ს არ ჰქონდეს მინიმუმი ან პროცესი "ჩაიციკლოს", ჩვენ ამ შემთხვევებს აქ არ განვიხილავთ.

მოყვანილი ალგორითმის ბლოკ-სქემას აქვს შემდეგი სახე



შესაბამის ბეიბი-პროგრამის აქვს ხსენ

```
CLS
INPUT "bet(1),alf(1),bet(2),alf(2),gam(0),gam(1)"; b1, a1, b2, a2, g0, g1
IF g1 >= 0 THEN 2
IF b1 / ABS(a1) <= b2 / ABS(a2) THEN 3
x = b1 - (a1 * b2) / a2
y = 0
z = -b2 / a2
f = g0 - (g1 * b2) / a2
GOTO 5
2 x = b1
y = b2
z = 0
f = g0
GOTO 5
3 x = 0
y = b2 - (a2 * b1) / a1
z = -b1 / a1
f = g0 - (g1 * b1) / a1
5 x1 = x
x2 = y
x3 = z
minz = f
PRINT
PRINT "x1="; x1,
PRINT "x2="; x2,
PRINT "x3="; x3,
PRINT "minz="; minz
END
```

კომპიუტერზე რეალიზაციის შედეგები:

საწყისი მონაცემები

BET(1)= 133.3	ALF(1)=-.6666	BET(2)= 125
ALF(2)=-.375	GAM(0)= 258.3	GAM(1)=-.045

კომპიუტერზე მიღებული შედეგი

x1= 0 x2= 117.5011 x3= 19.997 minz= 257.4001

- ამოცანა 2.2. მოცემული პარამეტრებისათვის შეარჩიეთ დაჭრის ხაზი ვარიანტი და ხიმკლექს-მეთოდის კომპიუტერზე რეალიზაციით განსაზღვრეთ რამდენი დამოუკიდებელი უნდა დაიჭრას თითოეული ვარიანტისათვის, რომ გვეს შევსრუდეს და დახარჯული ფურცლების რაოდენობა მინიმალური იყოს.
- ამოცანა 2.3. ამოცანა 2.2. ამოხსენით დაჭრის ხსენ ვარიანტებისათვის. შეადარეთ მიღებული შედეგები.
- ამოცანა 2.4. ამოცანა 2.2 ამოხსენით დაჭრის ოთხი ვარიანტისათვის.
- ამოცანა 2.5. ამოცანა 2.2 ამოხსენით დაჭრის ოთხი ვარიანტისათვის და გამოხატოების ხსენ ტიპისათვის, მესამე ტიპის გამოხატოების ზომად მიიღეთ $a_1 X_1 + b_1 X_2$.
- ამოცანა 2.6. ვიქვას, A და B ტიპის გამოხატოების ზომები არაა დაფიქსირებული და მოცემულად მხოლოდ მათი ფართობები, რომლებიც შესაბამისად ტოლია $S_A = a_1$; $S_B = b_1$. ამოხსენით ამოცანა დაჭრის 3 ვარიანტისათვის ხიმკლექს-მეთოდით.
- ამოცანა 2.7. ამოცანა 2.6-ში განიხილეთ დაჭრის ვარიანტების ხსენ განხილავებული შესაბამისი შედარებით ვარიანტის მიღებული შედეგები.

სატრანსპორტო ამოცანა

წრფივი პროგრამირების ერთერთ ტიპურ ამოცანას წარმოადგენს სატრანსპორტო ამოცანა. ეს ამოცანა წამოიჭრება სხვადასხვა ეკონომიკური პროცესების დაგეგმვის დროს. იგი განსაკუთრებულ მნიშვნელობას იძენს გადაზიდვების ოპტიმალური მარშრუტის დაგეგმვის დროს. ერთ შემთხვევაში ეს ნიშნავს გადაზიდვათა ვეგმის ისეთ შერჩევას, რომლის დროსაც გადაზიდვათა საერთო ღირებულება იქნება მინიმალური, მეორე შემთხვევაში კი გადაზიდვების ისეთ დაგეგმვას, რომლის დროსაც მიიღწევა გადაზიდვებზე დახარჯული დროის მაქსიმალური ეკონომია.

პირველ ამოცანას შეიძლება ვუწოდოთ სატრანსპორტო ამოცანა ღირებულების კრიტერიუმით, ხოლო მეორე ამოცანას კი სატრანსპორტო ამოცანა დროის კრიტერიუმით.

დავუშვათ, რომ გვაქვს რაიმე ერთგვაროვანი პროდუქტი, რომელიც განთავსებულია m რაოდენობის A_i მიმწოდებელთან, თითოეულში შესაბამისად a_i ($i=1,2,\dots,m$) რაოდენობით. აუცილებელია აღნიშნული პროდუქტი მიწოდებული იქნას n რაოდენობის B_j მომხმარებლისათვის, თითოეულში შესაბამისად b_j ($j=1,2,\dots,n$) რაოდენობით. მოცემულია ერთეული ტვირთის გადაზიდვის ღირებულება c_{ij} i -ური მიმწოდებელი პუნქტიდან j -ურ მომხმარებელ პუნქტამდე. აღვნიშნოთ x_{ij} -ით ($i=1,2,\dots,m$; $j=1,2,\dots,n$) ტვირთის რაოდენობა, რომელიც უნდა გადაიხლოს i -ური მიმწოდებელი პუნქტიდან j -ურ მომხმარებელ პუნქტამდე. ამოცანის პირობა შეიძლება ჩაიწეროს ცხრილის სახით, რომელსაც უწოდებენ დაგეგმვის მატრიცას.

მიმწოდებელი	მომხმარებელი				მარაგი
	B_1	B_2	B_n	
A_1	X_{11} C_{11}	X_{12} C_{12}	X_{1n} C_{1n}	a_1
A_2	X_{21} C_{21}	X_{22} C_{22}	X_{2n} C_{2n}	a_2
.
A_m	X_{m1} C_{m1}	X_{m2} C_{m2}	X_{mn} C_{mn}	a_m
მოთხოვნილება	b_1	b_2	...	b_n	$\sum_{i=1}^m a_i = \sum_{j=1}^n b_j$

ჩამოვყავალიბით სატრანსპორტო ამოცანის მათემატიკური მოდელი. რადგანაც i -ური მიმწოდებელი j -ურ მომხმარებელს აწვდის x_{ij} რაოდენობის პროდუქტს, მაშინ გადაზიდვის ღირებულება შეადგენს $c_{ij}x_{ij}$. გადაზიდვის საერთო ღირებულება იქნება:

$$Z = \sum_{i=1}^m \sum_{j=1}^n c_{ij}x_{ij} ;$$

ამოცანის პირობებიდან გამომდინარე მივიღებთ შესაზღვევების სისტემას:

ა) ყველა ტვირთი მიმწოდებლიდან გატანილი უნდა იქნეს მოღიანად, ე.ი.

$$\sum_{j=1}^n x_{ij} = a_i \quad (i = 1,2,\dots, m);$$

ბ) მომხმარებელთა მოთხოვნილება დაკმაყოფილებული უნდა იქნეს მოღიანად, ე.ი.

$$\sum_{i=1}^m x_{ij} = b_j \quad (j = 1,2,\dots, n);$$

ამრიგად სატრანსპორტო ამოცანის მათემატიკურ მოდელს აქვს შემდეგი სახე: მოიძებნოს წრფივი ფუნქციის მინიმალური მნიშვნელობა

$$Z = \sum_{i=1}^m \sum_{j=1}^n c_{ij}x_{ij}$$

შესაზღვევების შემდეგი სისტემის არსებობის დროს

$$\begin{cases} \sum_{j=1}^n x_{ij} = a_i & (i = 1, 2, \dots, m); \\ \sum_{i=1}^m x_{ij} = b_j & (j = 1, 2, \dots, n); \\ x_{ij} \geq 0 & (i = 1, 2, \dots, m; \quad j = 1, 2, \dots, n) \end{cases}$$

განხილულ მოდელში იგულისხმება, რომ პროდუქციის საერთო მარაგი ტოლი უნდა იყოს მოთხოვნილებათა საერთო რაოდენობის, ე.ი.

$$\sum_{i=1}^m a_i = \sum_{j=1}^n b_j \quad (23)$$

ასეთ მოდელს ეწოდება ჩაკეტილი მოდელი. მტკიცდება, რომ ჩაკეტილ მოდელს ყოველთვის აქვს ამონახსნი.

სატრანსპორტო ამოცანის ამოხსნა ხორციელდება ორ ეტაპად:

1. საწყისი საბაზისო გეგმის აგება;
2. მიმდევრობითი იტერაციული პროცედურის აგება ოპტიმალური გეგმის მიღებამდე.

სატრანსპორტო ამოცანის საწყისი საბაზისო გეგმის აგება ისევე, როგორც წრფივი პროგრამირების სხვა ამოცანები დაკავშირებულია დიდი რაოდენობის გამოთვლებთან. არსებობს სატრანსპორტო ამოცანის საწყისი საბაზისო გეგმის აგების შედარებით მარტივი ხეყმები, რომელთაგან ზოგიერთს განვიხილავთ ქვემოთ.

ჩრდილო-დასავლეთის კუთხის მეთოდი

დავუშვათ, რომ სატრანსპორტო ამოცანის პირობა მოცემულია ქვემოთ მოყვანილ ცხრილში.

მიმწოდებელი	მომხმარებელი			მარაგი
	B ₁	B ₂	B ₃	
A ₁	c ₁₁ =6	c ₁₂ =10	c ₁₃ =4	a ₁ =150
A ₂	c ₂₁ =12	c ₂₂ =2	c ₂₃ =8	a ₂ =90
მოთხოვნილება	b ₁ =60	b ₂ =70	b ₃ =110	

საწყისი საბაზისო გეგმის აგებას ვიწვევთ პირველი მომხმარებლის დაკმაყოფილებით, ანუ ცხრილის შევსებას ვაწარმოებთ მარცხენა ზედა კუთხიდან შემდეგი ალგორითმის მიხედვით.

$$x_{11} = \min\{a_1, b_1\}$$

თუ $a_1 > b_1$, მაშინ $x_{11} = b_1$ და პირველი სვეტი "იკვრება". ე.ი. პირველი მომხმარებლის მოთხოვნილება მთლიანად დაკმაყოფილებულია. შემდეგ ვმოძრაობთ პირველი სტრიქონის გასწვრივ და ვაცხებთ (1,2) უჯრას.

$$x_{12} = \min\{a_1 - b_1, b_2\}$$

თუ აღმოჩნდა, რომ $b_1 > a_1$, მაშინ ანალოგიურდ იკვრება პირველი სტრიქონი და ვაცხებთ მეზობელ უჯრას (2,1), სადაც შეგვაქვს რიცხვი

$$x_{21} = \min\{a_2, b_1 - a_1\}$$

აღნიშნულ პროცედურას განვაგრძობთ მანამდე, ხანამ არ ამოიწურება მთელი რესურსი a_i ($i=1, 2, \dots, m$) და არ დაკმაყოფილება ყველა მოთხოვნილება b_j ($j=1, 2, \dots, n$).

ამ ალგორითმის მიხედვით მოცემული ამოცანისათვის აიგება საწყისი საბაზისო გეგმა, რომელიც ახასუღია ქვემოთ მოყვანილ ცხრილში:

მიწოდებელი	მომხმარებელი			მარაგი
	B ₁	B ₂	B ₃	
A ₁	c ₁₁ =6 x ₁₁ =60	c ₁₂ =10 x ₁₂ =70	c ₁₃ =4 x ₁₃ =20	a ₁ =150
A ₂	c ₂₁ =12	c ₂₂ =2	c ₂₃ =8 x ₂₃ =90	a ₂ =90
მოთხოვნილება	b ₁ =60	b ₂ =70	b ₃ =110	

მიღებული გეგმის მიხედვით მოლიანი სატრანსპორტო დანახარჯები შეადგენს:
 $z = 6 \cdot 60 + 10 \cdot 70 + 4 \cdot 20 + 8 \cdot 90 = 1860$ ერთ.

ნრდილო-დასავლეთის კუთხის მეთოდში არ არის გათვალისწინებული ერთეული პროდუქტის გადაზიდვაზე საჭირო ხარჯები c_{ij} ($i=1,2,\dots,m; j=1,2,\dots,n$), რის გამოც საწყისი საბაზისო გეგმა შეიძლება იყოს ოპტიმალური ამონახსნიდან ძალიან შორს.

მინიმალური ღირებულების მეთოდი

სატრანსპორტო ამოცანისათვის "მინიმალური ღირებულების მეთოდის" გამოყენების შემთხვევაში საწყისი საბაზისო გეგმის აგებას იწყებენ იმ უჯრედიდან, რომლისთვისაც ერთეული ტვირთის გადაზიდვის ღირებულება c_{ij} არის მინიმალური. შემოთ განხილული მაგალითის შემთხვევაში ასეთ უჯრედს წარმოადგენს (2,2) უჯრედი, რომლისთვისაც $c_{22}=2$. ამ უჯრედში შეგვაქვს რიცხვი

$$x_{22} = \min\{90, 70\} = 70$$

დარჩენილი ნაშთები, როგორც ხეუტისა, ასევე სტრიქონისა, გადანაწილება სტრიქონებისა და ხეუტების იმ უჯრედში, სადაც გადაზიდვების ღირებულება იქნება მინიმალური. ხეუტის შემთხვევაში, რადგან მომხმარებლის მოთხოვნილება მოლიანად დაკმაყოფილდა, ამიტომ მთლიან ხეუტს იხურება. ხოლო მთლიან მიწოდებლის დარჩენილი მარაგის რიცხვითი მნიშვნელობა საიწერება (2,3) უჯრედში.

$$x_{23} = \min\{90 - 70, 110\} = 20$$

ამის შემდეგ გადავივაროთ (1,3) უჯრედში, რადგანაც $c_{22}=2$ -ის შემდეგ უმცირესი არის $c_{13}=4$, ამიტომ (1,3) უჯრედში შეგვაქვს რიცხვი

$$x_{13} = \min\{150, 110 - 20\} = 90$$

პირველი მიწოდებლის დარჩენილი მარაგის რიცხვითი მნიშვნელობა შეგვაქვს (1,1) უჯრედში, ე.ი. $x_{11}=60$.

ამ მეთოდის გამოყენებით მივიღებთ საწყის საბაზისო გეგმას შემდეგი ცხრილის სახით.

მიწოდებელი	მომხმარებელი			მარაგი
	B ₁	B ₂	B ₃	
A ₁	c ₁₁ =6 x ₁₁ =60	c ₁₂ =10 x ₁₂ =0	c ₁₃ =4 x ₁₃ =90	a ₁ =150
A ₂	c ₂₁ =12 x ₂₁ =0	c ₂₂ =2 x ₂₂ =70	c ₂₃ =8 x ₂₃ =20	a ₂ =90
მოთხოვნილება	b ₁ =60	b ₂ =70	b ₃ =110	

მიღებული გეგმის მიხედვით მოლიანი სატრანსპორტო დანახარჯები შეადგენს:
 $z = 6 \cdot 60 + 4 \cdot 90 + 2 \cdot 70 + 8 \cdot 20 = 1020$ ერთ.

საწყისი საბაზისო გეგმის აგების დროს მინიმალური ღირებულების მეთოდი უფრო ეფექტური აღმოჩნდა ვიდრე ნრდილო-დასავლეთის კუთხის მეთოდი.

პოტენციალთა მეთოდი

მას შემდეგ, რაც აიგება საწყისი საბაზისო გეგმა, ყველა ცვლადი იყოფა ორ ჯგუფად: X_{pq} -ბაზისური და X_{pq} -თავისუფალი. გადახიდვების ღირებულების წრფივი ფუნქცია თავისუფალი ცვლადებით გამოისახება შემდეგნაირად:

$$z = \sum_{p,q} \gamma_{pq} X_{pq} + z_0$$

თავისუფალი ცვლადების γ_{pq} კოეფიციენტების გამოთვლისათვის ყოველ მიწოდებულ A_i პუნქტს შევუბნაბამოთ ხიდი U_i ($i=1,2,\dots,m$), რომელსაც დავარქვათ A_i პუნქტის პოტენციალი, ხოლო ყოველ მიმღებ B_j პუნქტს V_j ($j=1,2,\dots,n$) და დავარქვათ მას B_j პუნქტის პოტენციალი. ეს სიდიდეები დავაკავშიროთ ერთმანეთთან შემდეგი სახის ტოლობებით.

$$U_k + V_l = c_{kl}$$

სადაც c_{kl} -ერთეული ტვირთის გადახიდვის ხარჯებია A_k პუნქტიდან B_l პუნქტამდე.

მტკიცდება, რომ ერთობლიობა $U_k + V_l = c_{kl}$ განტოლებებისა, რომლებიც შედგენილია ყველა ბაზისური ცვლადებისათვის, შეადგენს წრფივ განტოლებათა თავსებად სისტემას. ერთერთი ცვლადის მნიშვნელობა შეიძლება მოცემული იყოს ნებისმიერად, ხოლო დანარჩენი ცვლადების მნიშვნელობები შეიძლება განისაზღვროს სისტემიდან ცალსახად. აღვნიშნოთ თავისუფალი ცვლადებისათვის შესაბამისი პოტენციალების ჯამი $c'_{pq} = U_p + V_q$ და გუწოდოთ მას არაპირდაპირი ღირებულება. თავისუფალი ცვლადების კოეფიციენტები განისაზღვრება შემდეგნაირად:

$$\gamma_{pq} = c_{pq} - c'_{pq}$$

თუ ყველა γ_{pq} არაუარყოფითია, მაშინ აგებული გეგმა იქნება ოპტიმალური. თუ მათ შორის მოიძებნება უარყოფითი მნიშვნელობები, მაშინ გადავდივართ ახალ ბაზისზე. ამ დროს უარყოფითკოეფიციენტებიანი წევრი უნდა გაისარდოს, ხოლო ცვლადები, რომელთა კოეფიციენტებიც ნულის ტოლია, რჩება უცვლელი.

საწყის საბაზისო გეგმად მივიღოთ მინიმალური ღირებულების მეთოდით აგებული გეგმა. პოტენციალთა მოძებნისათვის უნდა ამოიხსნას შემდეგი სისტემა:

$$\begin{cases} U_1 + V_1 = c_{11} = 6 \\ U_1 + V_3 = c_{13} = 4 \\ U_2 + V_2 = c_{22} = 2 \\ U_2 + V_3 = c_{23} = 8 \end{cases}$$

ერთერთი უცნობის მნიშვნელობა ავიღოთ ნებისმიერად, მაგალითად, ვთქვათ $U_1=1$, მაშინ ვაქცნებთ $V_1=5; V_3=3; U_2=5; V_2=3$

ამის შემდეგ გამოითვლება არაპირდაპირი ღირებულება c'_{pq} :

$$c'_{12} = U_1 + V_2 = 1 + (-3) = -2$$

$$c'_{21} = U_2 + V_1 = 5 + 5 = 10$$

თავისუფალი ცვლადების კოეფიციენტები გამოითვლება შესაბამისად:

$$\gamma_{12} = c_{12} - c'_{12} = 10 - (-2) = 12$$

$$\gamma_{21} = c_{21} - c'_{21} = 12 - 10 = 2$$

აქედან გამომდინარე გადახიდვების საერთო ღირებულება, თავისუფალი ცვლადებით გამოსახული, მიიღებს შემდეგ სახეს:

$$z = 1020 + 12x_{12} + 2x_{21}$$

მარჯვენა მხარეში ცვლადთა კოეფიციენტებს შორის არ არის უარყოფითი. ამიტომ საწყისი საბაზისო გეგმა, რომელიც მიღებულია მინიმალური ღირებულების მეთოდით, არის ოპტიმალური.

განვიხილოთ იგივე ამოცანა, როცა საწყისი საბაზისო გეგმა აგებულია "წრდილო-დასავლეთის კუთხის" მეთოდით. პოტენციალთა განსაზღვრისათვის აუცილებელია ამოვსხნათ შემდეგი სისტემა:

$$\begin{cases} U_1 + V_1 = c_{11} = 6 \\ U_1 + V_2 = c_{12} = 10 \\ U_1 + V_3 = c_{13} = 4 \\ U_2 + V_3 = c_{23} = 8 \end{cases}$$

დავუშვათ, რომ $U_1=1$, მაშინ მივიღებთ:

$$V_1=5; V_2=9; V_3=3; U_2=5$$

არაპირდაპირი ღირებულებები გამოითვლება შემდეგნაირად:

$$c'_{21} = U_2 + V_1 = 5 + 5 = 10$$

$$c'_{22} = U_2 + V_2 = 5 + 9 = 14$$

თავისუფალი ცვლადების კოეფიციენტები გამოითვლება შემდეგნაირად:

$$\gamma_{21} = c_{21} - c'_{21} = 12 - 10 = 2$$

$$\gamma_{22} = c_{22} - c'_{22} = 2 - 14 = -12$$

გადახიდვათა საერთო ღირებულება თავისუფალი ცვლადებით გამოისახება შემდეგნაირად:

$$z = 1860 + 2x_{21} - 12x_{22}$$

ტოლობის მარჯვენა მხარეში ცვლადთა კოეფიციენტებს შორის X_{22} ცვლადთან გვაქვს უარყოფითი აქედან გამომდინარე შეიძლება z შევამციროთ X_{22} ცვლადის მნიშვნელობის გადიდებით (ამ დროს X_{21} ნულოვანი მნიშვნელობა რჩება უცვლელი). დავუშვათ, რომ $x_{22} = \lambda$. იმდენად, რამდენადაც ცვლადთა მნიშვნელობების ჯამი სვეტებისა და სტრიქონების მიხედვით უნდა დარჩნენ მუდმივი, ამიტომ უნდა განვახორციელოდ შემდეგი ბალანსური გადაანგარიშება:

$X_{11}=60$	$X_{12}=70-\lambda$	$X_{13}=20+\lambda$
$X_{21}=0$	$X_{22}=0+\lambda$	$X_{23}=90-\lambda$

X_{22} -ისათვის λ -ს დამატება კომპენსირდება X_{12} -დან λ -ს გამოკლებით, X_{13} -ისათვის λ -ს დამატებით და X_{23} -დან λ -ს გამოკლებით. უჯრების შემოვლა ნაჩვენებები მიმართულებით მოიცავს ბაზისურ ცვლადებს და თავისუფალ ცვლადს X_{22} -ს. აღნიშნული სვლა წარმოადგენს გადაანგარიშების ციკლს (ისრულების მიმართულებით შეკრულ გზას ციკლი ეწოდება) X_{22} თავისუფალი ცვლადის მიმართ.

სემით მოყვანილი ცხრილიდან ჩანს, რომ λ ცვლადის მაქსიმალური მნიშვნელობა შეიძლება ავიღოთ $\lambda=70$. მაშინ გვექნება შემდეგი ბაზისური ამონახსნი:

60	0	90
	70	20

ე.ი. $X_{11}=60$; $X_{12}=0$; $X_{13}=90$; $X_{21}=0$; $X_{22}=70$; $X_{23}=20$. ამ შემთხვევაში გვექნება:

$$z = 1860 - 12 \cdot 70 = 1020$$

მაშასადამე მივიღეთ ოპტიმალური ამონახსნი ისეთი, როგორც იყო მიღებული წინა შემთხვევაში.

ამრიგად, პოტენციალთა მეთოდით ამოცანის ამოხსნა დაიქვანება შემდეგი სახის ალგორითმამდე

1. ვპოულობთ U_k და V_r პოტენციალებს A_k მიმწოდებელ და B_r მიმხმარებელ პუნქტებისათვის;
2. ვირჩევთ რომელიმე თავისუფალ ცვლადს, რომლისთვისაც პოტენციალთა ჯამი შედარებით მაღალია შესაბამისი ღირებულებისათვის, რომელიც შეესაბამება თავისუფალი ცვლადის უარყოფით კოეფიციენტს Z ფუნქციის მარჯვენა მხარეში;
3. მეორე პუნქტში შერჩეული ცვლადისათვის ვასრულებთ შესაბამისი გადაანგარიშების ციკლს, რომელსაც მივეყვართ ახალ დასაშვებ ამოხსნამდე;
4. 1, 2, 3 პუნქტებში აღნიშნულ პროცედურებს ვიმეორებთ მანამდე, სანამ არ ავაგებთ გადახიდვების ოპტიმალურ გეგმას, ე.ი. Z წრფივი ფუნქციის მარჯვენა მხარეში არ მიიღწევა თავისუფალი ცვლადებისათვის არაუარყოფითი კოეფიციენტები.

საწარმოთა ოპტიმალურად შერჩევის ამოცანა

ზემოთ განხილული სატრანსპორტო ამოცანა იყო საკეტლმოდელოანი, რადგან მიწოდებული და მოხმარებული პროდუქციის (ტვირთის) ჯამური რაოდენობები ერთმანეთის ტოლი იყო ანუ სრულდებოდა (23) პირობა.

თუ მიწოდებული (შეთავაზებული) და მოხმარებული (მოთხოვნილი) პროდუქციის რაოდენობა ერთმანეთს არ უდრის, მაშინ საქმე გვაქვს დია ეკონომიკურ მოდელთან. განვიხილოთ დია მოდელის მქონე საწარმოთა ოპტიმალურად შერჩევის ამოცანა.

ვთქვათ m რაოდენობის A_i ($i=1,2,\dots,m$) საწარმო აწარმოებს შესაბამისად a_i რაოდენობის ნედლეულს. დავუშვათ არსებობს ნედლეულის გადამამუშავებელი n რაოდენობის B_j ($j=1,2,\dots,n$) ბაზა, შესაბამისად b_j სიმძლავრეებით. მათგან უნდა შეირჩეს მწარმოებლებისა და გადამამუშავებელი ბაზების ნაწილი, რომლებიც აწარმოებენ და გადამამუშავებენ K რაოდენობის ნედლეულს. აგრეთვე უნდა დადგინდეს გადაზიდვების გეგმა, ისე რომ გადაზიდვების ჯამური ღირებულება მინიმალური იყოს.

ცხადია იგულისხმება, რომ

$$\sum_{i=1}^m a_i \geq K \text{ და } \sum_{j=1}^n b_j \geq K.$$

განვიხილოთ შემთხვევა, როცა

$$\sum_{i=1}^m a_i > \sum_{j=1}^n b_j$$

ამოცანის ამოსახსნელად მოდელი საკეტელ სახემდე მივიყვანოთ, ამისათვის შევიტვირთოთ ფიქტიური B_{n+1} გადამამუშავებელი. მისი სიმძლავრე b_{n+1} მივიღოთ შემდეგი რიცხვის ტოლად

$$b_{n+1} = \sum_{i=1}^m a_i - \sum_{j=1}^n b_j$$

ტვირთის ერთეულის გადაზიდვის ღირებულებად A_i -დან ფიქტიური B_{n+1} -მდე ანუ $C_{i,n+1}$ მივიღოთ 0-ის ტოლად. ამოხსნათ მოდებული მოდელი კომპიუტერზე და გაითვალისწინოთ, რომ B_{n+1} -ში ტვირთები გადაიტანება იმ მწარმოებლიდან, რომლებსაც ყველაზე არახელსაყრელი მდებარეობა აქვთ. მწარმოებელთა სიიდან ამოვრიცხოთ ეს მწარმოებლები ან შევამციროთ შესაბამისი a_i სიმძლავრეები ისე, რომ მათი ჯამი K -ს ტოლი გახდეს. ვთქვათ დარჩა m^* რაოდენობის საწარმო, მაშინ გადავწარმოთ ისინი ხელახლა. მივიღებთ

$$\sum_{i=1}^{m^*} a_i^* = K,$$

სადაც a_i^* თავდაპირველი ან კორექტირებული სიმძლავრეებია.

სიმძლავრეთა კორექცია შეიძლება განხორციელდეს ყველა არახელსაყრელი საწარმოსთვის თანაბრად ან ფიქტიურ გადამამუშავებელთან მიმართების გათვალისწინებით.

თუ
$$\sum_{j=1}^n b_j = K$$

მაშინ მიიღება საკეტელი მოდელი, რომლის ამოხსნის შემდეგაც ვღებულობთ ხელსაყრელი საწარმოების ნუსხას, სიმძლავრეებს და გადაზიდვის გეგმას.

თუ
$$\sum_{j=1}^n b_j > K$$

მაშინ შემოგვაქვს ფიქტიური მწარმოებელი A_{m^*+1} ასეთი სიმძლავრით

$$A_{m^*+1} = \sum_{j=1}^n b_j - K$$

მივიღოთ ტვირთის ერთეულის გადაზიდვის ღირებულება $C_{m^*+1,j} = 0$ და საკეტელი მოდელის ამოხსნით დავადგინოთ ის გადამამუშავებლები, რომლებიც დაკავშირებული იქნებიან ფიქტიურ მწარმოებელთან. მოვახდინოთ გადამამუშავებელთა ნაწილის სიიდან ამოღება და b_j სიმძლავრეების კორექცია ისე, რომ მათი ჯამი K -ს ტოლი გახდეს. თავიდან გადაწარმოების შემდეგ მივიღებთ

$$\sum_{i=1}^{m^*} a_i^* = \sum_{j=1}^{n^*} b_j^* = K$$

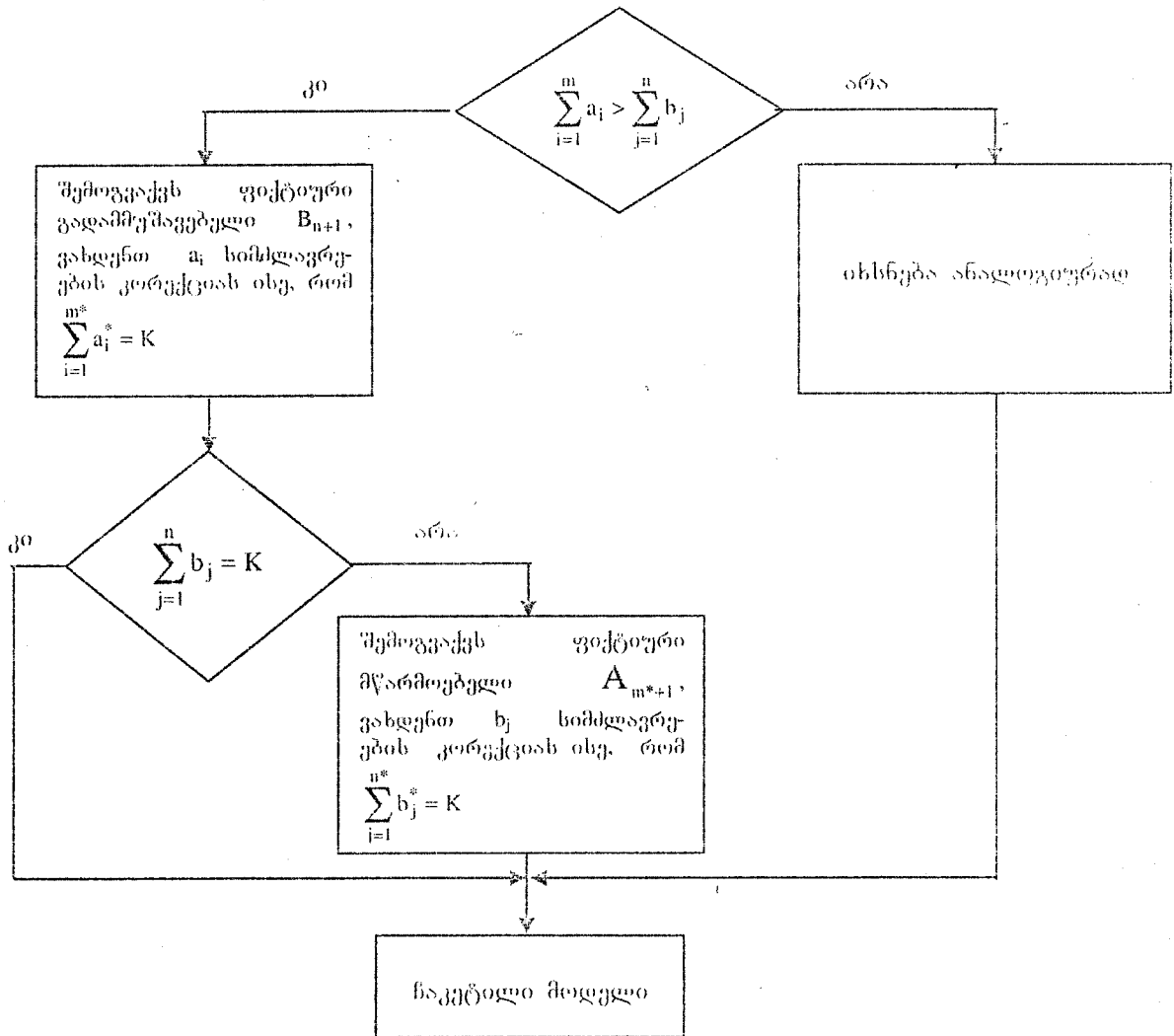
ანუ ჩაკეტილ მოდელს, სადაც m^* და n^* საბოლოოდ დარწმუნებული საწარმოების რაოდენობაა, ხოლო a_i^* და b_j^* შესაბამისი კორექტირებული სიმძლავრეები.

ამოცხსნით რა მიღებულ ჩაკეტილ მოდელს, დავადგენთ გადაზიდვათა საბოლოო მოცულობებს თითოეული A_i -დან B_j -მდე ანუ X_{ij} სიდიდეებს, $i=1,2,\dots,m^*$, $j=1,2,\dots,n^*$.

ამ შედეგების ანალიზით შეგვიძლია განვსაზღვროთ რომელი მწარმოებელი და გადამამუშავებელი ობიექტები უნდა შევარჩიოთ, რათა საჭირო K რაოდენობის ხედლეული გადაამუშაოთ და რომელი მწარმოებელიდან რომელ გადამამუშავებელ ბაზაში რამდენი ტვირთი გადავიტანოთ ისე, რომ გადაზიდვათა ჯამური ღირებულება მინიმალური იყოს.

ანალიტიკურად იხსნება შემთხვევა, როცა $\sum_{j=1}^n b_j > \sum_{i=1}^m a_i \geq K$.

სიცხადისათვის განხილული ალგორითმი წრმოვადგინოთ ბლოკ-სქემის სახით



ამოცანა 2.8 თანაბრად შეამცირეთ წარმოებულ ხედლეულის (a_i) სიდიდეები ისე, რომ მიიღოთ ჩაკეტილი მოდელი და დაადგინეთ გადაზიდვების მოცულობების სიდიდეები ჩრდილო დასავლეთის კუთხის მეთოდით. C_{ij} სიდიდეები დაადგინეთ ჩახახის მიხედვით და ჩათვალეთ ისინი იმ რიცხვის ტოლად, რომელიც შეესაბამება A_i -დან B_j -მდე მანძილს (მილიმეტრებში).

ამოცანა 2.9 ამოხსენით ამოცანა 2.8 პოტენციალთა მეთოდით.

ამოცანა 2.10 ამოხსენით ამოცანა 2.8 სიმპლექს-მეთოდით კომპიუტერის გამოყენებით.

ამოცანა 2.11 შემდეგი მონაცემებით დაადგინეთ რომელი დამამზადებელი და რომელი გადამამუშავებელი უნდა შეირჩეს და რა რაოდენობის ტვირთი უნდა გადაიხადოს თითოეული A_i -დან ყოველ B_j -ში იმისათვის, რომ გადაამუშავდეს K რაოდენობის.

ნედლეული და გადაზიდვების ჯამური ღირებულება მინიმალური იყოს. გამოთვალეთ ეს ღირებულება. C_{ij} სიდიდეები დაადგინეთ 2.8-ში მოცემული მითითებით. K -ს

მნიშვნელობა მიიღეთ $\sum_{j=1}^n b_j$ -ის ტოლად. მიღებული ჩაკეტილი მოდელები ამოხსენით

კომპიუტერზე.

ამოცანა 2.12 ამოხსენით 2.11. ამოცანა ცხრილში მოცემული K -თვის.

ამოცანა 2.13 საწარმოთა განლაგების გეგმაზე დაუმატეთ ერთი გადამმუშავებელი ისეთი სიმძლავრით, რომ შესრულდეს

$$\sum_{j=1}^n b_j > \sum_{i=1}^m a_i$$

პირობა და ამოხსენით 2.11 ამოცანა.

ამოცანა 2.14 ამოხსენით 2.12 ამოცანა არახელსაყრელ საწარმოთა მაქსიმალური რაოდენობით ლიკვიდაციის პრინციპით.

ამოცანა 2.15 ამოხსენით 2.12 ამოცანა არახელსაყრელი საწარმოების სიმძლავრეების თანაბრად შემცირებით კორექციის პრინციპით. მიღებული შედეგები შეადარეთ 2.11. ამოცანის შედეგებს.

ამოცანა 2.16 შეადგინეთ 2.12 ამოცანის ალგორითმის ბლოკ-სქემა და პროგრამა.

ამოცანა 2.8 – 2.16-ის ვარიანტები

№	a_i	b_j	K	საწარმოთა განლაგების გეგმა
1	2	3	4	5
1	800 900 700	200 400 300 500	1200	
2	900 1800 1900	300 200 400 800	1000	
3	700 800 900	200 300 400 500	1000	
4	900 800 950	300 200 300 500	1100	
5	800 750 800	400 200 200 300	900	

1	2	3	4	5
6	1000 1200 950	800 300 400 500	1400	
7	900 800 900 1000	600 700 800	1200	
8	700 1200 1400 1300	500 400 800	1500	
9	900 800 1000 1200	700 500 450	1400	
10	1000 1200 1400 1600	800 700 650	2000	
11	1200 1300 1400 1500	900 600 700	1800	
12	800 900 1000 1200	700 800 900	1400	
13	900 1000 2000	600 6500 700 750 800	2500	
14	1200 2100 1100	650 700 800 800	3000	

1	2	3	4	5
15	1300 2200 1000	700 750 800 650 850	3400	
16	1400 2300 1100	750 800 850 800 900	3600	
17	1500 2600 1200	800 850 900 700 950	3800	
18	1600 1400 2700	850 900 950 1050 1000	3900	
19	1700 1600 2800	900 1000 950 1000 1050	4000	
20	1800 1700 2900	950 1000 1050 1100 1000	4500	

თავი 3
წრფივი ორადული მოდელი

ორადობის თეორემა

განვიხილოთ წრფივი პროგრამირების ძირითადი ამოცანა.
მოცემულია $f = c_1x_1 + c_2x_2 + \dots + c_nx_n$ ფუნქცია.

ვიპოვოთ f ფუნქციის მაქსიმუმი შემდეგი შეზღუდვების გათვალისწინებით:

$$\begin{cases} a_{11}x_1 + a_{12}x_2 + \dots + a_{1n}x_n + b_1 \geq 0 \\ a_{21}x_1 + a_{22}x_2 + \dots + a_{2n}x_n + b_2 \geq 0 \\ \dots \\ a_{m1}x_1 + a_{m2}x_2 + \dots + a_{mn}x_n + b_m \geq 0; \quad x_i \geq 0, \quad i = 1, 2, \dots, n \end{cases}$$

ამ ამოცანას ვუწოდოთ ამოსავალი მოდელი.

ახლა ჩამოვყავლობთ ამ მოდელის ორადული მოდელი.

ვიპოვოთ $\varphi = b_1y_1 + b_2y_2 + \dots + b_my_m$

ფუნქციის მინიმუმი შემდეგი შეზღუდვების გათვალისწინებით

$$\begin{cases} a_{11}y_1 + a_{21}y_2 + \dots + a_{m1}y_m + c_1 \leq 0 \\ a_{12}y_1 + a_{22}y_2 + \dots + a_{m2}y_m + c_2 \leq 0 \\ \dots \\ a_{1n}y_1 + a_{2n}y_2 + \dots + a_{mn}y_m + c_n \leq 0; \quad y_i \geq 0, \quad i = 1, 2, \dots, m \end{cases}$$

ამ ორ მოდელს ახასიათებს თვისებები:

- I. ცვლადების კოეფიციენტების მატრიცები ტრანსპონირებულია.
 - II. ერთი მოდელის შეზღუდვების თავისუფალი წევრები მეორე მოდელის მახასიათებელ კოეფიციენტებია და პირიქით.
 - III. შეზღუდვებში უტოლობები ხაპირისპირო შინაარსისაა.
 - IV. ერთ მოდელში ვექები მინიმუმს, მეორეში მაქსიმუმს.
- ჩამოვყავლობთ ორადობის თეორემს: თუ ამოსავალ მოდელს აქვს ამონახსენი, მაშინ მის ორადულ მოდელსაც აქვს ამონახსენი და

$$\max f = \min \varphi$$

განვიხილოთ მაგალითი. ვიპოვოთ f ფუნქციის მაქსიმალური მნიშვნელობა, თუ

$$f = 2x_2 + 12x_3$$

და მოცემული გვაქვს შეზღუდვების შემდეგი სისტემა

$$\begin{cases} x_1 - x_2 - x_3 + 2 \geq 0 \\ -x_1 - x_2 - 4x_3 + 1 \geq 0; \quad x_i \geq 0, \quad i = 1, 2, 3. \end{cases}$$

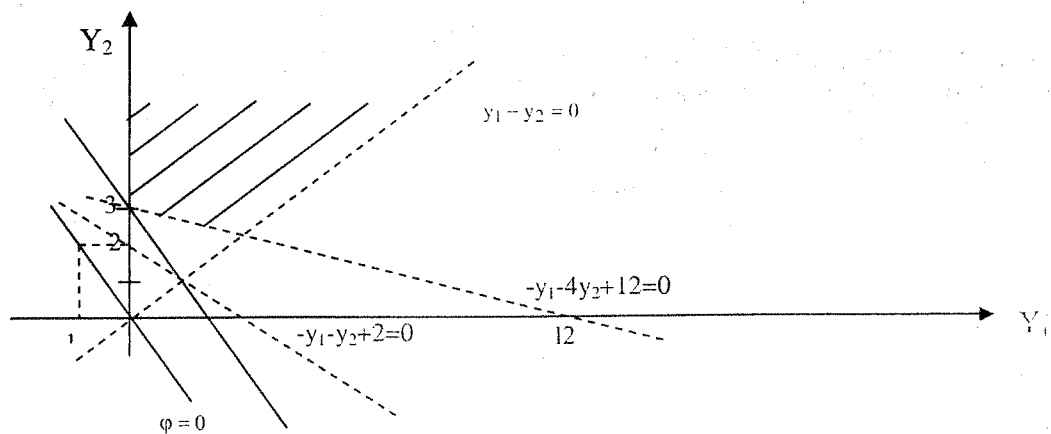
ჩამოვყავლობთ ამ ამოცანის ორადული მოდელი: ვიპოვოთ φ ფუნქციის მინიმალური მნიშვნელობა, თუ

$$\varphi = 2y_1 + y_2$$

და მოცემული გვაქვს შეზღუდვების შემდეგი სისტემა

$$\begin{cases} y_1 - y_2 + 0 \leq 0 \\ -y_1 - y_2 + 2 \leq 0 \\ -y_1 - 4y_2 + 12 \leq 0 \quad y_i \geq 0, \quad i = 1, 2 \end{cases}$$

ამ მოდელის ამონახსნა შეიძლება გრაფიკულად



ორადული მოდელის ამონახსნია (0; 3) წერტილი.

$$\min j = 2 \cdot 0 + 3 = 3$$

ცხადია ამოსავალი მოდელისათვის ორადობის თეორემიდან მივიღებთ

$$\max f = 3$$

რაციონალური გამოჭრის ამოცანის ორადული მოდელი

რაციონალური გამოჭრის ამოცანის განხილვისას გვქონდა ასეთი მათემატიკური მოდელი:
ვიპოვოთ $\min Z$, სადაც

$$Z = x_1 + x_2 + x_3$$

შესუღებების შემდეგი სისტემის არსებობის დროს

$$\begin{cases} 12x_1 + 0x_2 + 8x_3 = 1600 \\ 0x_1 + 8x_2 + 3x_3 = 1000 \\ x_i \geq 0, \quad i = 1, 2, 3 \end{cases} \quad (1^*)$$

აქ x_1, x_2 და x_3 არის შესაბამისად I, II, III ვარიანტების მიხედვით დასაჭრელი ფურცლების რაოდენობა. A ტიპის გამონაჭრების რაოდენობა არის 1600, ხოლო B ტიპის გამონაჭრების რაოდენობა 1000. (1*)-ში უცნობების კოეფიციენტები გვსინჯუნებენ შესაბამისი ვარიანტით დაჭრისას ერთი ფურცლიდან A ან B ტიპის გამონაჭრების რაოდენობას.

აღნიშნულ ამოცანაში ოპტიმალურობის კრიტერიუმია მასალის ხარჯვის მინიმუმი. თუ გავეთვალისწინებთ, რომ A ტიპის გამონაჭრების რაოდენობა 1600-ზე მეტიც შეიძლება იყოს, ხოლო B ტიპისა 1000-ზე მეტი, (1)* ასე გადაიწერება

$$\begin{cases} 12x_1 + 0x_2 + 8x_3 \geq 1600 \\ 0x_1 + 8x_2 + 3x_3 \geq 1000 \\ x_i \geq 0, \quad i = 1, 2, 3 \end{cases} \quad (1)$$

მივუდგეთ ამ ამოცანას სხვა კუთხით.

ვთქვათ არსებობს ფორმა, რომელიც აწარმოებს გამოჭრას. მან უნდა გამოჭრას 1600 ცალი A ტიპის და 1000 ცალი B ტიპის გამონაჭრები. ცხადია, გამოშქრელი ფორმა დაინტერესდება მიიღოს მაქსიმალური მოგება

ზოგადობის შეუსუღდავად მივიღოთ, რომ ერთი ფურცლის დირებულებაა 1 ერთეული (ანუ დაშვება შეიძლება ფასთა მასშტაბის შერწყვით). ვთქვათ A ტიპის ერთი გამონაჭრის დირებულებაა

V, ხოლო B ტიპის ერთი გამონაჭრისა W. მაშინ ცხადია ერთი ფურცლიდან გამოჭრილი გამონაჭრების ღირებულებების ჯამი არ უნდა აღემატებოდეს 1-ს. ამიტომ გამოჭრის სხვადასხვა ვარიანტების შემთხვევაში მივიღებთ:

$$\begin{aligned} 1 \text{ ვარიანტის დროს } & 12v + 0w \leq 1 \\ 2 \text{ ვარიანტის დროს } & 0v + 8w \leq 1 \\ 3 \text{ ვარიანტის დროს } & 8v + 3w \leq 1 \\ & v \geq 0 \quad w \geq 0 \end{aligned} \quad (2)$$

თუ გავითვალისწინებთ, რომ გამონაჭრების საერთო ღირებულება იქნება $1600V+1000W$, მივდივართ შემდეგი ამოცანის ამოხსნამდე:

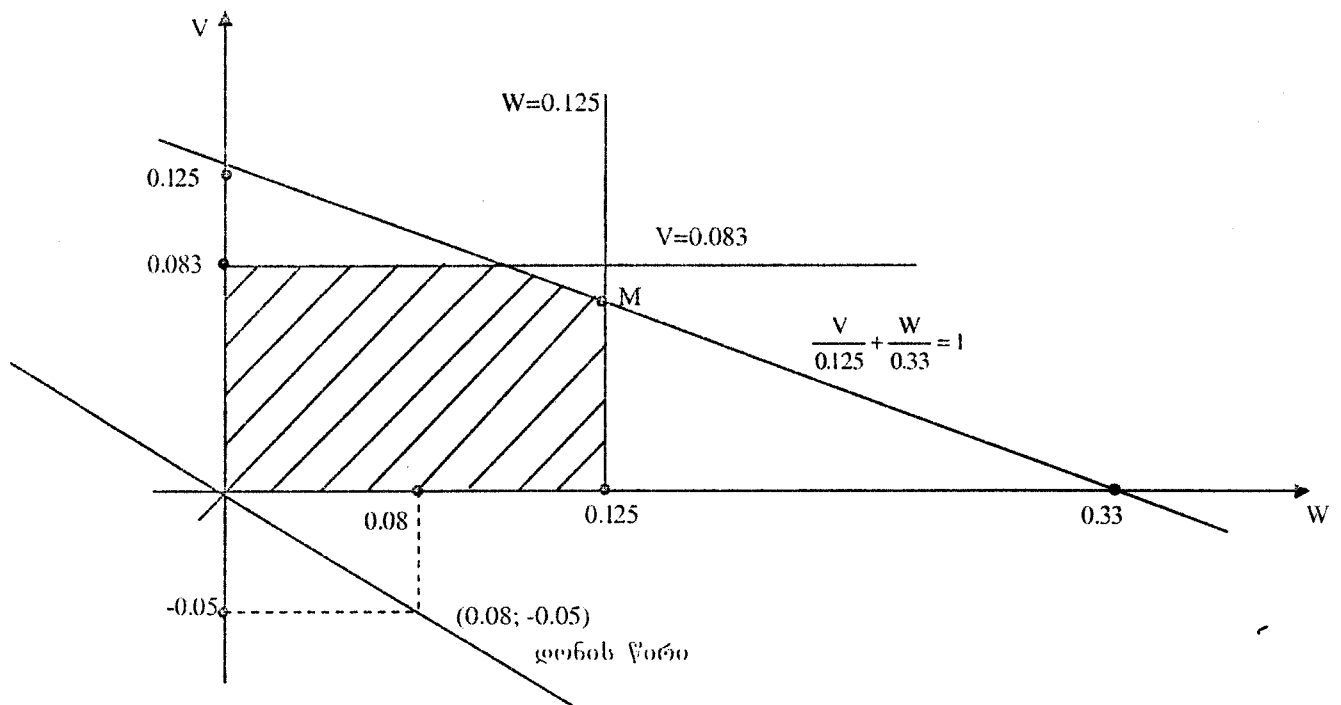
$$\text{ვიპოვოთ MAX } \xi, \text{ თუ } \xi = 1600v + 1000w \quad (3)$$

$$\text{ან } \begin{cases} 12v + 0w \leq 1 \\ 0v + 3w \leq 1 \\ 8v + 3w \leq 1 \\ v \geq 0; w \geq 0 \end{cases} \quad (4)$$

ამოხსნათ ამოცანა გრაფიკული მეთოდით. (4) ასე გადავწეროთ

$$\begin{cases} v \leq 0.083 \\ w \leq 0.125 \\ \frac{v}{0.125} + \frac{w}{0.33} \leq 1 \\ v \geq 0 \quad w \geq 0 \end{cases} \quad (5)$$

საკოორდინატო სისტემაზე მასშტაბის დაცვით ავაგოთ (5) უტოლობებით განსაზღვრული დასაშვებ გეგმათა სიმრავლე



(3) მიზნის ფუნქციის დონის წირი $\xi=0$ -თვის იქნება კოორდინატთა სათავეზე გამავალი წრფე

$$1600v + 1000w = 0$$

$$1600v = -1000w$$

$$v = -\frac{5}{8}w$$

ξ ფუნქციის მაქსიმუმის მოსაძებნად დონის წირი უნდა გადაადგილდეს თავის თავის პარალელურად “სემით” დასაშვებ გეგმათა სიმრავლის ბოლო სასაზღვრო წერტილამდე. ჩვენს შემთხვევაში ასეთი წერტილი არის M წერტილი. მისი კოორდინატების განსაზღვრა შეიძლება ნახაზიდან ან შემდეგი სისტემიდან:

$$\begin{cases} w = 0.125 \\ 8v + 3w = 1 \end{cases}$$

სისტემის ამოხსნით მივიღებთ $M(0.125; 0.078)$. ე.ი. ξ ფუნქცია მაქსიმალურ მნიშვნელობას ღებულობს (0.125; 0.078) წერტილში. ნაცხვით ეს მნიშვნელობები ძისნის ფუნქციის (3) გამოსახულებაში, მივიღებთ

$$\xi = 1600 * 0.078125 + 1000 * 0.125 \approx 250$$

ე.ი. თუ A ტიპის 1 გამონაჭრის ღირებულება იქნება 0.078, ხოლო B ტიპის 1 გამონაჭრისა -0.125, მაშინ ღირებულებათა ჯამური სიდიდე (4) პირობების შესრულებისას მაქსიმალური იქნება.

ორადობის თეორემის საფუძველზე შეგვიძლია დავწეროთ

$$\min Z \approx \max \xi \approx 250$$

ამოცანა 3.1 ამოცანა 2.2-თვის შეადგინეთ ორადული მოდელი და ამოხსენით ის გრაფიკული მეთოდით.

ამოცანა 3.2 ამოცანა 2.4-თვის შეადგინეთ ორადული მოდელი და ამოხსენით ის გრაფიკული მეთოდით

ამოცანა 3.3 ამოცანა 2.6-თვის შეადგინეთ ორადული მოდელი და ამოხსენით ის გრაფიკული მეთოდით.

ამოცანა 2.2 - 2.7-ის და 3.1 - 3.3-ის ვარიანტები

№	a	b	a ₁	b ₁	a ₂	b ₂	m	n
1	2	3	4	5	6	7	8	9
1	5	10	1	4	1	5	1300	2600
2	5	10	1	5	2	3	2600	1300
3	5	10	1	4	2	5	100	1500
4	5	10	1	5	3	3	1000	2000
5	6	10	1	4	3	3	2000	1000
6	6	10	1	4	2	4	1200	2400
7	6	10	1	4	2	3	1500	2500
8	6	9	1	4	1	3	1100	2200
9	6	9	2	3	3	3	1200	2400
10	5	11	2	4	2	3	1300	2600
11	5	11	1	3	2	4	1400	2800
12	5	11	2	5	2	3	1500	1000
13	5	11	2	5	3	3	1500	1000
14	5	11	1	4	2	2	1700	3400
15	5	11	1	4	3	4	1700	3400
16	6	11	2	4	2	5	1200	2400
17	6	11	2	4	2	2	2600	1300
18	6	11	3	4	2	5	2800	1400
19	6	11	2	4	3	3	1500	1000
20	6	11	1	3	2	2	100	2000

ერთი ცვლადის ფუნქციის წარმოებულ ეკონომიკის ამოცანებში

რამდენიმე ზოგადი ცნება

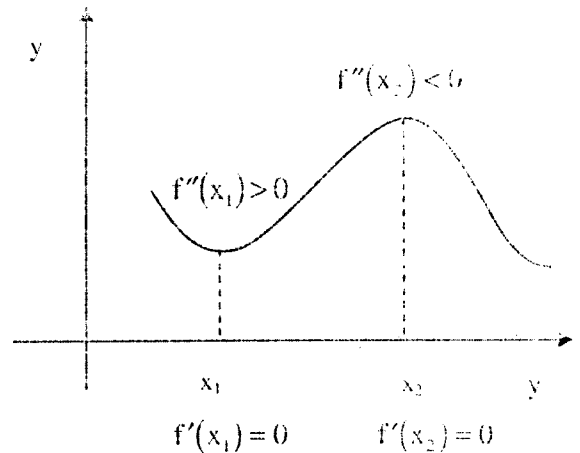
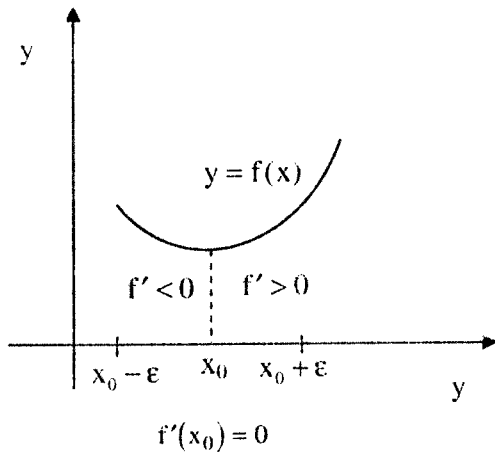
ეკონომიკის მათემატიკური მოდელების შესწავლისას ფუნქციის წარმოებულის გამოყენებით შესაძლებელია ექსტრემუმის მოძებნა. რაც განსაკუთრებით მნიშვნელოვანია ოპტიმალური მოდელების კვლევისას.

გავიხსენოთ რამდენიმე თეორემა ერთი ცვლადის ფუნქციის ლოკალური მინიმუმის შესახებ (ლოკალურ მაქსიმუმზე ანალოგიური მსჯელობა ტარდება)

თეორემა 1. თუ x_0 წერტილი $y = f(x)$ ფუნქციის სტაციონალური წერტილია ანუ $f'(x_0) = 0$ და რომელიმე $\varepsilon > 0$ -თვის $(x_0 - \varepsilon; x_0)$ შუადღეში $f'(x) < 0$, ხოლო $(x_0; x_0 + \varepsilon)$ -ში $f'(x) > 0$, მაშინ $f(x_0)$ ფუნქციის ლოკალური მინიმუმია.

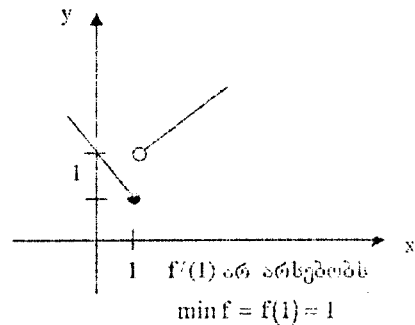
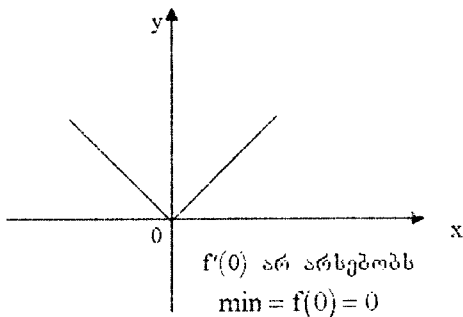
თეორემა 2. თუ $y = f(x)$ ფუნქციის x_0 წერტილს რაიმე მიდამოში აქვს უწყვეტი I და II რიგის წარმოებულები და $f'(x_0) = 0$, მაშინ თუ $f''(x_0) < 0$, x_0 მაქსიმუმის წერტილია, თუ $f''(x_0) > 0$, x_0 -მინიმუმის წერტილია.

მოვიყვანოთ ამ თეორემების გეომეტრიული ილუსტრაცია.

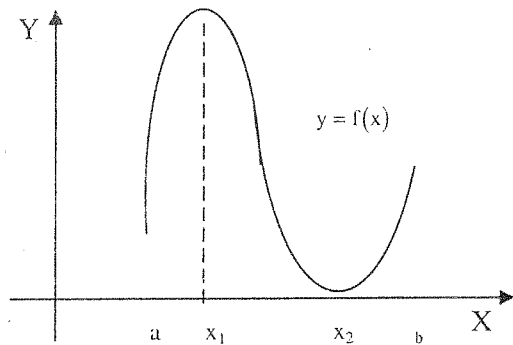


შესაძლებელია $y = f(x)$ ფუნქციის რომელიმე წერტილში აქონდეს ლოკალური მინიმუმი, მაგრამ ამ წერტილში წარმოებული არ არსებობდეს. მაგალითად

$$y = |x| \quad \text{ან} \quad y = \begin{cases} 2x & \text{თუ } x > 1 \\ -x + 2 & \text{თუ } x \leq 1 \end{cases} \quad \text{ფუნქციებისთვის}$$



ასეთი შემთხვევები მოითხოვს დამატებით კვლევას.
 როდესაც საკმე ეხება ფუნქციის უდიდეს ან უმცირეს მნიშვნელობას რიცხვით ინტერვალზე, შეიძლება ვაპირდეს შემთხვევები

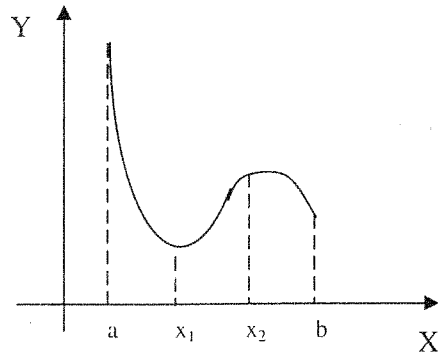


$$\max f=f(x_1)$$

$$[a;b]$$

$$\min f=f(x_2)$$

$$[a;b]$$



$$\max f=f(x_1)$$

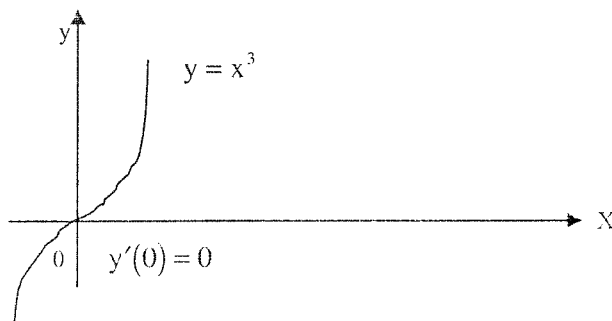
$$[a;b]$$

$$\min f=f(x_2)$$

$$[a;b]$$

პრაქტიკული თვალსაზრისით ხშირად სარგებლობენ ფუნქციის ექსტრემუმის პოვნის ასეთი სქემით: ხსნიან $f'(x) = 0$ განტოლებას, პოულობენ ფუნქციის სტაციონალურ წერტილებს და მათზე გამოითვლება ფუნქციის მნიშვნელობები, რომელთა შორის შეირჩევა მაქსიმუმი და მინიმუმი.

ზოგ შემთხვევაში ფუნქციის სტაციონალური წერტილი (ანუ წერტილი, რომელშიც წარმოებული ნულის ტოლია) არაა ექსტრემუმის წერტილი. მაგ. $y = x^3$; $y' = 3x^2$; $y'(0) = 0$, მაგრამ 0 არაა ექსტრემუმის წერტილი



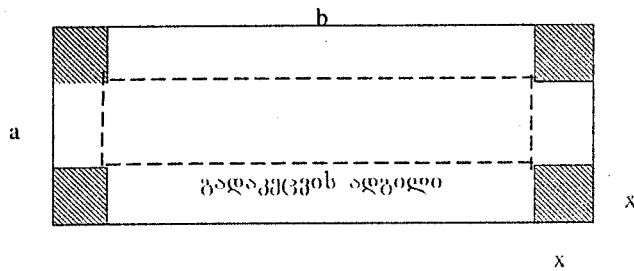
თუ ფუნქცია რთული გასაწარმოებელია, ან $f'(x) = 0$ განტოლება არ იხსნება (ან რთული ამოსახსნელია), ან ფუნქცია არაა მოცემული ანალიზური სახით (ფორმულით), მაშინ იყენებენ რიცხვით მეთოდებს. ექსტრემუმების მოძიების რიცხვითი მეთოდები ძალზე მრავალფეროვანია და მათი რეალიზაცია კომპიუტერზე სირთულეს არ წარმოადგენს.

პრაქტიკული ამოცანების ამოხსნა წარმოებულის გამოყენებით

განვიხილოთ რამდენიმე პრაქტიკული ამოცანა, რომლების ამოხსნაც თხოვლობს ექსტრემუმების პოვნას წარმოებულის გამოყენებით.

ამ ამოცანების მათემატიკური მოდელის აგებისას ვისარგებლოთ ასეთი პრინციპით: რომელიმე "აქტუალური" სიდიდე აღვნიშნოთ x ცვლადით, მოცემული პარამეტრებით და x -ით გამოვსახოთ სიდიდე, რომლის მაქსიმუმსაც (მინიმუმს) გვთხოვენ და $f'(x) = 0$ განტოლებას ამოხსნით ან რიცხვითი მეთოდით ვიპოვოთ მთითებული ექსტრემუმი.

განვიხილოთ მაგალითი: $a \times b$ ზომის მართკუთხედისაგან უნდა დამზადდეს უდიდესი მოცულობის მქონე ყუთი, კუთხეებიდან კვადრატების გამოტრიათ.



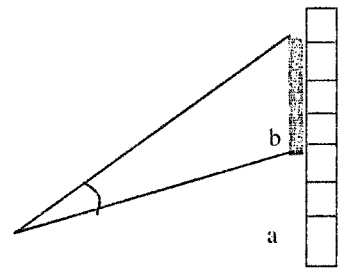
ვთქვათ გამოხატრელი კვადრატის გვერდია X , მაშინ ყუთის მოცულობა იქნება შემდეგი გამოსახულება:

$$V = (b - 2x) \cdot (a - 2x) \cdot x.$$

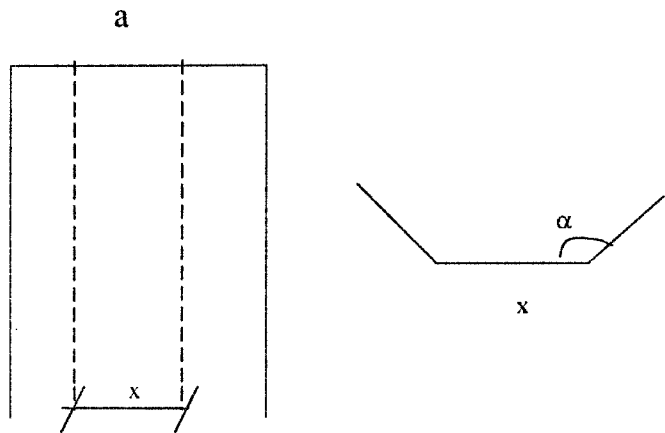
$V' = 0$ განტოლების ამოხსნით მივიღებთ ფესვებს, რომელთაგან თეორემა 1-ით ან თეორემა 2-ით შევარჩევთ ისეთ ამონახსნს, რომლის დროსაც მიიღწევა მოცულობის მაქსიმუმი. შერჩეული ფესვის მნიშვნელობის ნახშით მიღებულ გამოსახულებაში მივიღებთ მაქსიმუმის რიცხვით მნიშვნელობას.

ამოცანა 4.1 R რადიუსიანი წრიული დისკოდან გამოვჭრათ სექტორი, რომლისგანაც უღიდესი მოცულობის მქონე კონუსს შევკრავთ.

ამოცანა 4.2 ვერტიკალურ კედელზე მიწიდან a მ-ზე ჰქვია b მ სიმაღლის რეკლამა. რა მანძილიდან გამოიხნდება რეკლამა უღიდესი კუთხით?



ამოცანა 4.3 a სიგანის მართკუთხა ფურცლისგან უნდა დამზადდეს ტრაპეციული კვეთის წკალსადენი ისე, რომ განივიკვეთის ფართობი უღიდესი იყოს. ვიპოვიოთ x , თუ $\alpha = 135^\circ$.



ამოცანა 4.4 R რადიუსიანი ბირთვიდან როგორ გამოვქარხოთ უღიდესი მოცულობის მქონე ცილინდრი? კონუსი?

ამოცანა 4.5 უნდა დამზადდეს V მოცულობის მქონე ცილინდრული ნაეთობსაცეკი. როგორ შევარჩიოთ პარამეტრები, რომ მინიმალური რაოდენობის მასალა დაისარჯოს? (ანუ ნაეთობის ხაცავს ჰქონდეს უმცირესი სრული ზედაპირის ფართობი?)

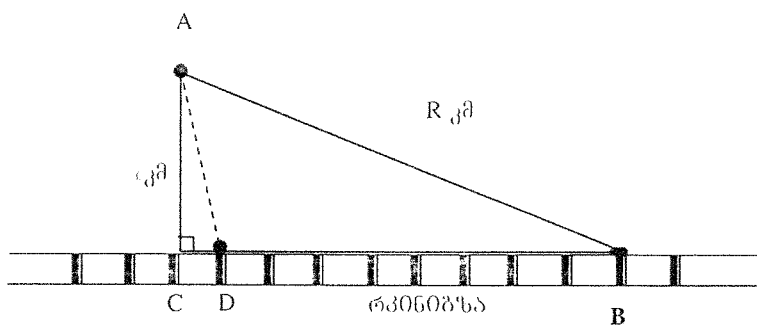
ამოცანა 4.1-4.5-ის ვარიანტები

ცხრილიდან ვიღებთ იმ პარამეტრების მნიშვნელობებს, რომლებიც მითითებულია აღნიშნულ ამოცანებში.

№	R	a	b	V
1	20	3,1	4,0	35000
2	22	3,2	4,1	40000
3	24	3,3	4,2	45000
4	26	3,4	4,3	50000
5	28	3,5	4,4	55000
6	30	3,6	4,5	60000
7	32	3,7	4,6	65000
8	34	3,8	4,7	70000
9	36	3,9	4,8	75000
10	38	4,0	4,9	80000
11	21	2,6	3,1	85000
12	23	2,7	3,2	90000
13	25	2,8	3,3	95000
14	27	2,9	3,4	100000
15	29	3,0	3,5	105000
16	31	3,1	3,6	110000
17	33	3,2	3,7	115000
18	35	3,3	3,8	120000
19	37	3,4	3,9	125000
20	39	3,5	4,0	130000

რკინიგზაზე ტერმინალის შერჩევის ამოცანა

ვთქვათ A პუნქტი სარკინიგზო მაგისტრალიდან დაშორებულია ℓ კმ-ით, ხოლო B პუნქტიდან, რომელიც რკინიგზაზე მდებარეობს R-კმ-ით. A-დან B-ში გადასახდია ტვირთების ნაკადი.



ვთქვათ სარკინიგზო მაგისტრალი წრფივი ფორმისაა, ხოლო A-დან საავტომობილო გზა გადის ნებისმიერი მიმართულებით. ერთი ტონა ტვირთის 1 კმ-ზე გადატანის ღირებულება საავტომობილო ტრანსპორტით a ლარია, ხოლო სარკინიგზოთი b ლარი (ცხადია $a > b$).

დავადგინოთ სად უნდა აშენდეს ტვირთის ავტოტრანსპორტიდან სარკინიგზო ტრანსპორტში გადასატვირთი ტერმინალი, რათა სატრანსპორტო გადაზიდვების ჯამური ღირებულება მინიმალური იყოს.

ავაგოთ ამ ამოცანის მათემატიკური მოდელი.
 ვთქვათ, ტერმინალი უნდა აშენდეს D პუნქტში. $CD=x$ კმ. უცნობი ხიდიღა. საავტომობილო გზის სიგრძე $AD = \sqrt{\ell^2 + x^2}$, ხოლო სარკინიგზოს სიგრძე იქნება $\sqrt{R^2 - \ell^2} - x$ კმ.

1 ტ. ტვირთის გადაზიდვა საავტომობილო ტრანსპორტით დაჯდება $a\sqrt{\ell^2 + x^2}$ ლარი, სარკინიგზოთი $(\sqrt{R^2 - \ell^2} - x)b$ ლარი. გადაზიდვების ჯამური ღირებულება იქნება

$$f = a\sqrt{\ell^2 + x^2} + (\sqrt{R^2 - \ell^2} - x)b \quad (1)$$

(1) ფუნქციის მინიმუმაციისათვის ამოვხსნათ განტოლება

$$f'(x) = 0 \quad (2)$$

(1) ფუნქციის II რიგის წარმოებულის გამოკვლევით შეიძლება დავრწმუნდეთ, რომ (2) განტოლების ამონახსნი მინიმუმის წერტილია და ის შეესაბამება ოპტიმალურ ამონახსნს.

ახლა განვიხილოთ უფრო ზოგადი შემთხვევა. ვთქვათ, სარკინიგზო მაგისტრალი ნებისმიერი ტრაექტორიისაა. დავეუშვათ, რუკის მიხედვით განვსაზღვრეთ A პუნქტის კოორდინატები $A(x_A, y_A)$ და იმ სარკინიგზო კვანძების კოორდინატები, სადაც შეიძლება ტერმინალის მშენებლობა $(x_i; y_i) \quad i = 1, 2, \dots, n$. რომელ კვანძში ავაშენოთ ტერმინალი, რომ სატრანსპორტო გადაზიდვის ღირებულება მინიმალური იყოს?

ნებისმიერი $(x_k; y_k) \quad (k=1, 2, \dots, n-1)$ კვანძისათვის A-დან საავტომობილო გზის სიგრძეა $S_1(k) = \sqrt{(x_A - x_k)^2 + (y_A - y_k)^2}$ კმ, სადაც m რუკის მასშტაბია.

საავტომობილო გადაზიდვების ღირებულება იქნება $S_1(k) \cdot a$ ლარი, ხოლო სარკინიგზო მონაკვეთის სიგრძე $(x_k; y_k)$ კვანძიდან B პუნქტამდე თუ ვიგულისხმებთ, რომ სარკინიგზო მაგისტრალი ტეხილითაა აპროექსიმირებული, იქნება

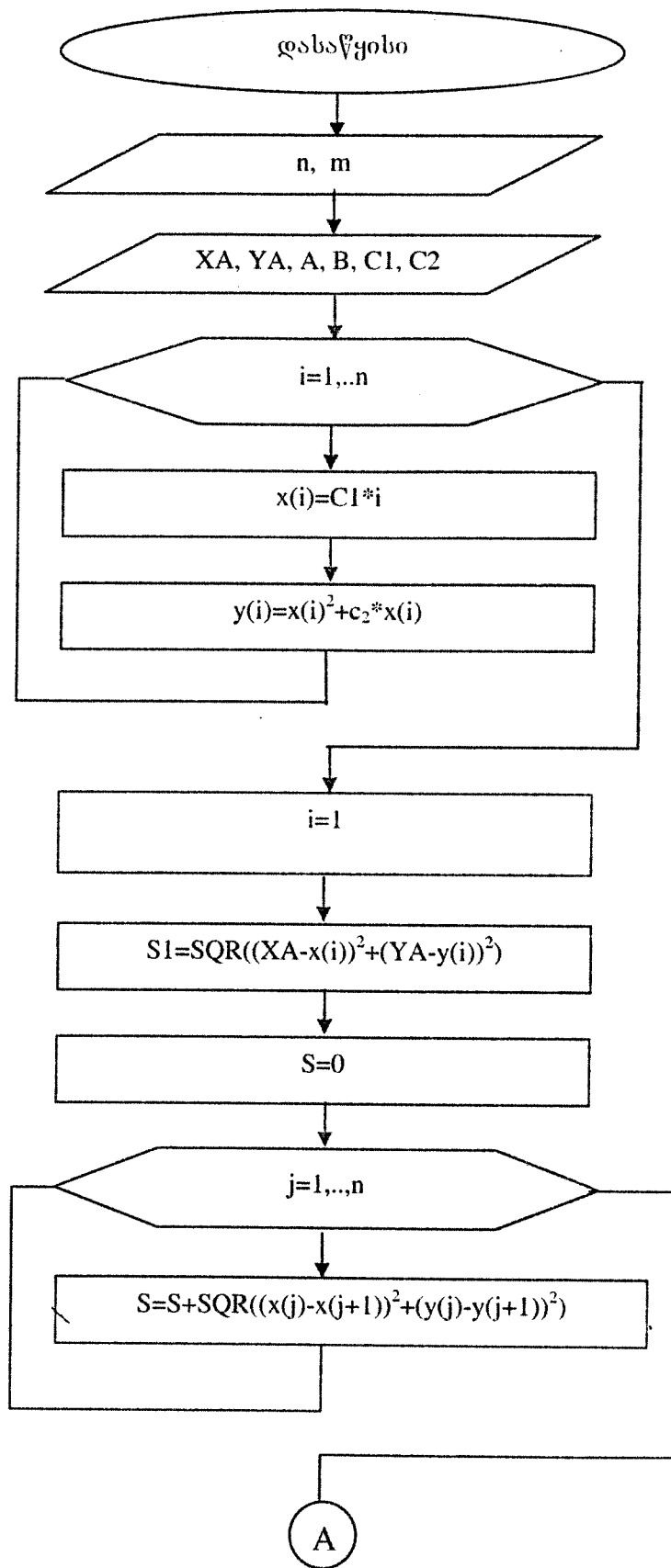
$$S_2(k) = \sum_{j=k}^{n-1} \sqrt{(x_j - x_{j+1})^2 + (y_j - y_{j+1})^2} m \quad \text{კმ, } k=1, 2, \dots, n-1$$

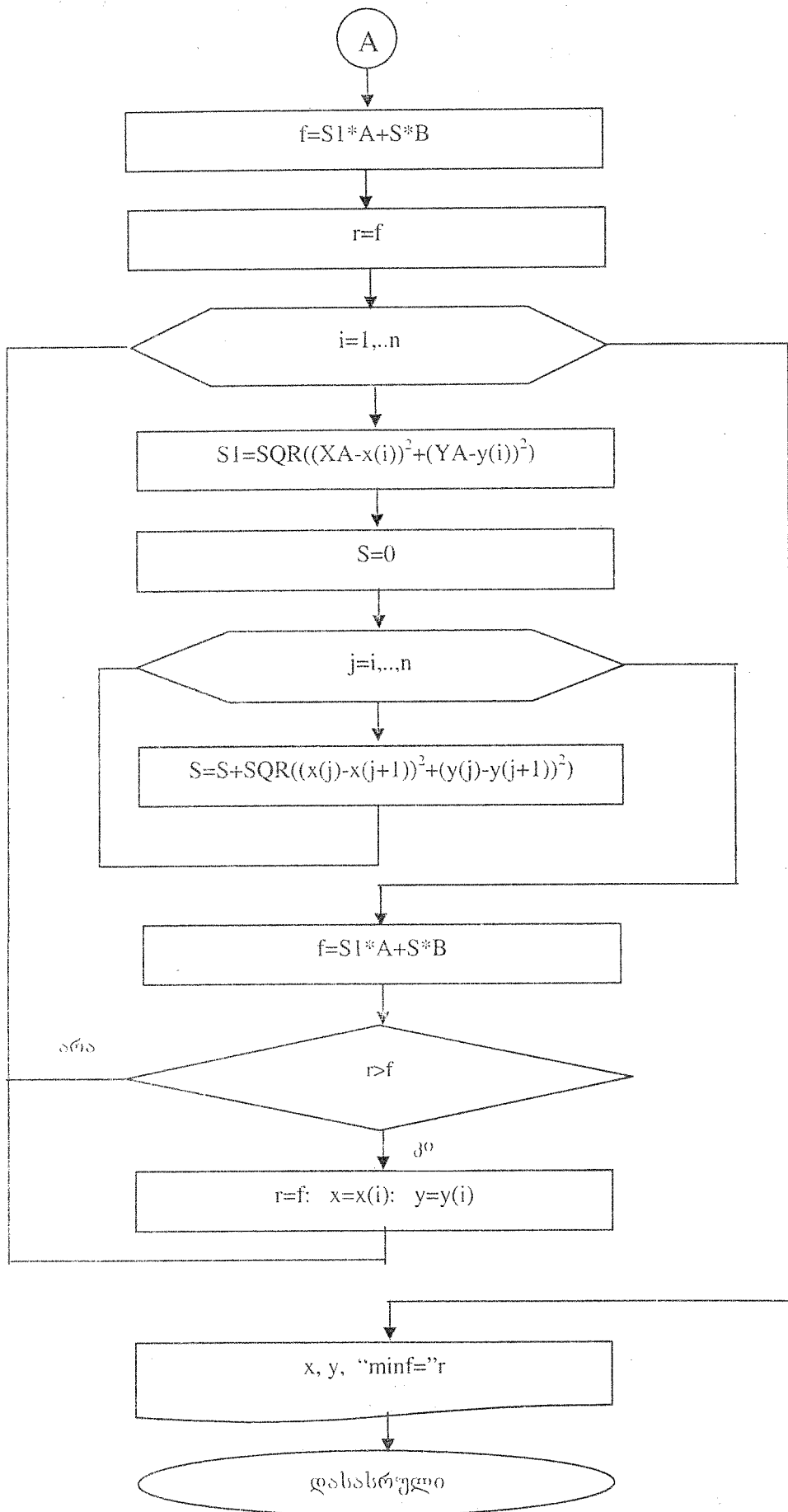
შესაბამისად სარკინიგზო გადაზიდვების ღირებულება იქნება $S_2(k) \cdot b$ ლარი. გადაზიდვების ჯამური ღირებულებაა

$$f = S_1(k) \cdot a + S_2(k) \cdot b \quad \text{ლარი.}$$

ჩვენი მიზანია გამოვთვალოთ $\min f, \quad k=1, 2, \dots, n-1$

განხილული ალგორითმის ბლოკ-სქემას აქვს სახე





შესაბამის ბეისიკ-პროგრამის აქვს სახე

```

CLS
INPUT "n"; N
DIM x(N), y(N)
INPUT "xa,ya,a,b,c1,c2"; XA, YA, A, B, C1, C2
FOR i = 1 TO N
x(i) = C1 * i
y(i) = x(i) ^ 2 + c2 * x(i)
NEXT i
i = 1
s1 = SQR((XA - x(i)) ^ 2 + (YA - y(i)) ^ 2)
s = 0
FOR j = 1 TO N - 1
s = s + SQR((x(j) - x(j + 1)) ^ 2 + (y(j) - y(j + 1)) ^ 2)
NEXT j
f = s1 * A + s * B
r=f: x = x(i): y = y(i)
FOR i = 1 TO N
s1 = SQR((XA - x(i)) ^ 2 + (YA - y(i)) ^ 2)
s = 0
FOR j = i TO N - 1
s = s + SQR((x(j) - x(j + 1)) ^ 2 + (y(j) - y(j + 1)) ^ 2)
NEXT j
f = s1 * A + s * B
IF r > f THEN r = f: x = x(i): y = y(i)
NEXT i
PRINT "x="; x, "y="; y, "minf="; r
END
    
```

კომპიუტერული რეალიზაციის შედეგები

საწყისი მონაცემები

N = 9
 XA= .11 YA= 1.3 A= 2.1 B= 1.2 C1= .25
 C2 = .61

კომპიუტერზე მიღებული შედეგი

x= 1 y= 1.61 minf= 7966.5

ამოცანა 4.6 წრფივი სარკინიგზო მაგისტრალის შემთხვევაში განსაზღვრეთ ტერმინალის ასაშენებელი ოპტიმალური ადგილი და განსაზღვრეთ გადახადებების ჯამური ღირებულება 1 ტონა ტვირთისათვის.

ამოცანა 4.6-ის ვარიანტები

№	ℓ კმ	r კმ	a ლარი	b ლარი
1	100	400	2.1	1.2
2	120	450	2.2	1.3
3	140	470	2.3	1.4
4	160	480	2.4	1.5
5	180	500	2.5	1.6
6	200	510	2.6	1.7

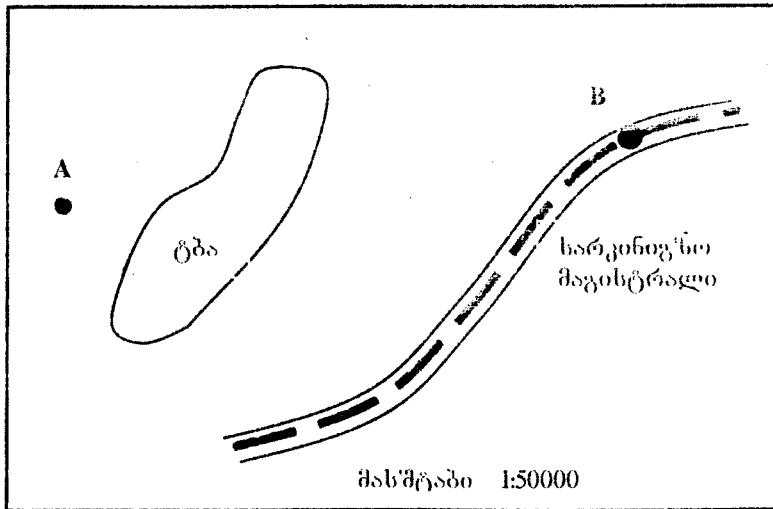
7	220	520	2.7	1.8
8	230	540	2.8	1.9
9	240	550	2.9	1.2
10	250	560	3.0	1.3
11	260	570	3.1	1.4
12	280	590	3.2	1.5
13	300	610	3.3	1.6
14	320	630	3.4	1.7
15	340	620	3.5	1.8
16	130	410	3.6	1.9
17	150	420	3.7	1.4
18	170	440	3.8	1.5
19	190	460	3.9	1.6
20	210	480	3.9	1.7

ამოცანა 4.7. სარკინოგზო მაგისტრალის კვანძების კოორდინატები გამოითვალეთ ასე $x_i = c_1 \cdot i$; $y_i = c_2 \cdot x_i^2$; $i = 1, 2, \dots, n$. განსაზღვრეთ სარკინოგზო კვანძი, რომელიც გვეძლევა მინიმალურ სატრანსპორტო დანახარჯებს. განსაზღვრეთ დანახარჯების რაოდენობა ამ კვანძისათვის. მიღებული შედეგების მიხედვით შეაფასეთ ნახაზი.

ამოცანა 4.7-ის ვარიანტები

N _კ	X _A	Y _A	a ღარი	b ღარი	C ₁	C ₂	n
1	2	3	4	5	6	7	8
1	0.11	1.3	2.1	1.2	0.25	0.61	9
2	0.12	1.2	2.2	1.3	0.26	0.62	10
3	0.13	1.3	2.3	1.4	0.27	0.63	11
4	0.14	1.4	2.4	1.5	0.28	0.64	12
5	0.15	1.5	2.5	1.6	0.29	0.65	9
6	0.16	1.6	2.6	1.7	0.30	0.66	10
7	0.17	1.7	2.7	1.8	0.31	0.67	11
8	0.18	1.8	2.8	1.9	0.32	0.68	12
9	0.19	1.9	2.9	1.2	0.33	0.69	9
10	2.0	1.0	3.0	1.3	0.34	0.68	10
11	0.21	1.1	3.1	1.4	0.35	0.67	11
12	0.22	1.2	3.2	1.5	0.34	0.66	12
13	0.21	1.2	3.3	1.6	0.33	0.65	9
14	0.22	1.4	3.4	1.7	0.32	0.64	10
15	0.23	2.5	3.5	1.8	0.31	0.63	11
16	0.24	2.6	3.6	1.9	0.30	0.62	12
17	0.25	1.7	3.7	1.2	0.29	0.61	9
18	0.21	1.8	3.8	1.3	0.28	0.62	10
19	0.22	1.9	3.9	1.4	0.27	0.63	11
20	0.23	1.9	4.0	1.5	0.26	0.64	12

ამოცანა 4.8 დახაზეთ საკოორდინატო ბადავ სქემაზე და შეარჩიეთ სარკინოგზო კვანძი, რომელიც გვეძლევა მინიმალურ სატრანსპორტო დანახარჯებს. განსაზღვრეთ დანახარჯების რაოდენობა ამ კვანძისათვის.



ამოცანა 4.8-ის ვარიანტები

№	1	2	3	4	5	6	7	8	9	10
a ღარი	3.1	3.2	3.3	3.4	3.5	3.6	3.7	3.8	3.9	4
b ღარი	1.2	1.3	1.4	1.3	1.4	1.7	1.6	1.8	1.9	1.8
n	100000	200000	300000	400000	500000	200000	300000	400000	500000	400000

ამოცანა 4.9. ამოსხეით ამოცანა 4.8, თუ ცნობილია, რომ 1 კმ. ხიდის მშენებლობა ტბაზე 1 ტ. ტვირთის საავტომობილო გადაზიდვებს აძვირებს P%-ით.

ამოცანა 4.9-ის ვარიანტები

№	1	2	3	4	5	6	7	8	9	10
p	10	15	20	25	30	35	40	45	50	55

ორი ცვლადის ფუნქცია მიკროეკონომიკის ზოგიერთ ამოცანაში

წარმოებლივი ფუნქცია

დაუშვათ, რომ შრომის რესურსების L და კაპიტალის რესურსების K გამოყენებით მიიღება პროდუქციის გარკვეული რაოდენობა Q . თუ შესაძლებელია ამ სიდიდებს შორის ფუნქციონალური დამოკიდებულება აღიწეროს, მაშინ საქმე გვაქვს წარმოებლივ ფუნქციასთან.

$$Q = F(K, L).$$

არსებობს წარმოებლივი ფუნქციის მრავალი სახე. განვიხილოთ ოთხი - ყველაზე გავრცელებული შემთხვევა:

1. წარმოებლივი ფუნქცია რესურსების სრული ურთიერთანაცვლებით

$$Q = a_1 K + a_2 L$$

2. ნეოკლასიკური ანუ კობი-დუგლასის ფუნქცია

$$Q = aK^{\alpha_1}L^{\alpha_2}$$

3. ფუნქცია რესურსების სრული ურთიერთდამატებით

$$Q = \min\left\{\frac{K}{a_1}, \frac{L}{a_2}\right\}$$

4. შერეული ტიპის ფუნქცია

$$Q = Q_1 + Q_2; \quad \begin{aligned} K &\geq a_1 Q_1 + b_1 Q_2 \\ L &\geq a_2 Q_1 + b_2 Q_2 \end{aligned}$$

დანახარჯების მინიმიზაციის ამოცანა

განვიხილოთ დანახარჯების მინიმიზაციის ამოცანა ნეოკლასიკური (კობი-დუგლასის) წარმოებლივი ფუნქციით.

$$Q = aK^{\alpha_1}L^{\alpha_2} \quad (1)$$

$$\alpha_1 > 0; \alpha_2 > 0;$$

სადაც K კაპიტალდაბანდების რაოდენობაა, L - შრომის რესურსების რაოდენობა.

α_1 და α_2 ელასტიურობის კოეფიციენტებია, რომლებიც გვჩვენებენ შესაბამისი რესურსების მონაწილეობის წილს Q რაოდენობის პროდუქციის შექმნაში. a -მასშტაბურობის კოეფიციენტი.

დანახარჯების ფუნქცია განვიხილოთ წრფივი სახით:

$$TC = p_1 K + p_2 L + FC \quad (2)$$

სადაც p_1 არის K რესურსის ერთეულის ღირებულება, p_2 კი L -ის ერთეულის ღირებულება.

დავუშვათ უნდა დამზადდეს პროდუქციის ფიქსირებული $Q=Q_0$ რაოდენობა. როგორ შევარჩიოთ რესურსების K და L რაოდენობა ისე, რომ სრული დანახარჯების TC რაოდენობა მინიმალური იყოს? (იგულისხმება, რომ ძალაშია (1) და (2) დამოკიდებულება).

FC-Fixed costs – ფიქსირებული დანახარჯები

TC-Total costs – საერთო დანახარჯები

(1)-დან L ცვლადი გამოვსახოთ დანარჩენი პარამეტრებით.

$$L = \left(\frac{Q_0}{aK^{\alpha_1}} \right)^{\frac{1}{\alpha_2}} \quad (3)$$

ნახევათ ეს მნიშვნელობა (2)-ში.

$$TC = p_1 K + p_2 \left(\frac{Q_0}{aK^{\alpha_1}} \right)^{\frac{1}{\alpha_2}} + FC \quad (4)$$

მივიღოთ ერთი ცვლადის ფუნქცია. ვიპოვოთ მისი მინიმუმი. ამისათვის შევარჩიოთ K ცვლადის ცვლილების დიაპაზონი. ვიგულისხმობთ, რომ შრომის რესურსების მინიმალური რაოდენობაა 1 ერთეული ე.ი. $L \geq 1$ მასში (3)-დან

$$K \leq \left(\frac{Q_0}{a} \right)^{\frac{1}{\alpha_1}}$$

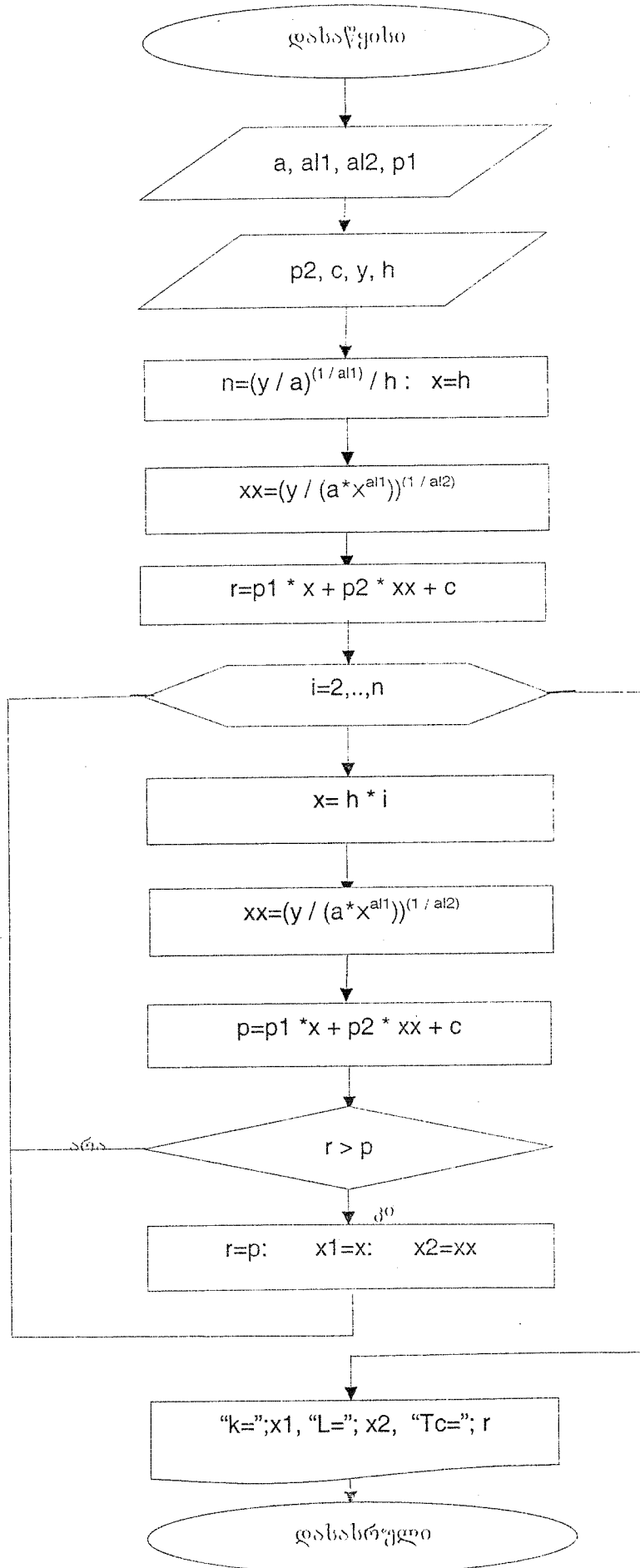
ე.ი. მინიმუმს ვეძებთ $\left[0; \left(\frac{Q_0}{a} \right)^{\frac{1}{\alpha_1}} \right]$ შუალედში.

ვიპოვოთ TC ფუნქციის მინიმუმი გადარჩევის მეთოდით. შევარჩიოთ h ბიჯი, გამოვთვალოთ

ფუნქციის მნიშვნელობები $\left[0; \left(\frac{Q_0}{a} \right)^{\frac{1}{\alpha_1}} \right]$ შუალედის საკვანძო წერტილებში და გამოვითვალოთ მათ

შორის მინიმალური.

ამ ალგორითმის ბლოკ-სქემას ასეთი სახე ექნება:



შესაბამის ბეისიკ-პროგრამის აქვს ხსენ

```

CLS
INPUT "a,al1,al2,p1,p2,c,y,h"; A, AL1, AL2, P1, p2, c, y, h
n = (y / A) ^ (1 / AL1) / h
x = h
xx = (y / (A * x ^ AL1)) ^ (1 / AL2)
r = P1 * x + p2 * xx + c
FOR i = 2 TO n
x = h * i
xx = (y / (A * x ^ AL1)) ^ (1 / AL2)
p = P1 * x + p2 * xx + c
IF r > p THEN
r = p
x1 = x
x2 = xx
END IF
NEXT i
PRINT
PRINT USING " K =####.#"; x1;
PRINT USING "      L=####.#"; x2;
PRINT USING "      (TC)=####.#"; r
END
    
```

კომპიუტერული რეალიზაციის შედეგები

საწყისი მონაცემები

A= 2 AL1= .5 AL2= .4 P1= 2.1
 P2= 3 C= 10 Y= 120 H= .01

კომპიუტერზე მიღებული შედეგები

K = 122.3 L = 68.5 TC = 472.5

(4) TC ფუნქციის მინიმუმის გამოთვლა შეიძლება

$$\frac{dTC}{dK} = 0 \quad (5)$$

განტოლების ამონხნითაც ვიქვით (5) განტოლების ამონხნითა K^* , თუ შევამოწმებთ $\frac{d^2TC}{dK^2} > 0$ პირობას K^* -თვის, დაერწმუნდებით, რომ K^* არის (4)-ს მინიმუმის წერტილი.

საჩვენათ K^* (3)-ში, მივიღებთ $L^* = \left(\frac{Q_0}{a(K^*)^{a_1}} \right)^{\frac{1}{a_2}}$.

მიღებული (K^*, L^*) არის რეზურსების ის რაოდენობა, რომელიც გააძლეევს დანახარჯების (2) ფუნქციის მინიმუმსაც, და პროდუქციის საჭირო Q_0 რაოდენობასაც.

ლაგრანჟის მამრავლთა მეთოდი

ვიქვით უნდა გამოვთვალოთ

$$Z = f(x_1, x_2, \dots, x_n)$$

ფუნქციის მაქსიმუმი შემდეგი შეზღვევების ვათვადისწინებით

$$g_i(x_1, x_2, \dots, x_n) = 0 ; \quad i = 1, 2, \dots, m$$

ვგულისხმობთ, რომ f და g ფუნქციები და მათი პირველი რიგის კერძო წარმოებულები აწარმოებენ ამოცანის ამონხნისათვის შევადგინოთ ლაგრანჟის ფუნქცია

$$F = (x_1, x_2, \dots, x_n; \lambda_1, \lambda_2, \dots, \lambda_m) = f(x_1, x_2, \dots, x_n) + \sum_{i=1}^m \lambda_i g_i(x_1, x_2, \dots, x_n)$$

λ_i რიცხვებს ლაგრანჟის მამრავლები ეწოდებათ.

თუ F ფუნქციის კერძო წარმოებულებს გაეუტოლებთ ნულს, მივიღებთ სისტემას

$$\begin{cases} \frac{\partial F}{\partial x_j} = \frac{\partial f}{\partial x_j} + \sum_{i=1}^m \lambda_i \frac{\partial g_i}{\partial x_j} = 0 ; & j = 1, 2, \dots, n \\ \frac{\partial F}{\partial \lambda_i} = g_i(x_1, x_2, \dots, x_n) = 0 ; & i = 1, 2, \dots, m \end{cases} \quad (6)$$

თუ Z ფუნქციის რომელიმე $(x_1^*, x_2^*, \dots, x_n^*)$ წერტილში აქვს ექსტრემუმი, მაშინ არსებობს ისეთი ვექტორი $(\lambda_1^*, \lambda_2^*, \dots, \lambda_m^*)$, რომ წერტილი $(x_1^*, x_2^*, \dots, x_n^*; \lambda_1^*, \lambda_2^*, \dots, \lambda_m^*)$ არის ამ სისტემის ამონახსნი.

ამრიგად (6) სისტემის ამოხსნით ვღებულობთ წერტილთა სიმრავლეს, რომელშიც Z ფუნქციამ შეიძლება მიიღოს ექსტრემალური მნიშვნელობა. არის თუ არა მოძებნილი ამონახსნი ექსტრემუმის წერტილი, შეიძლება გავარკვიოთ ექსტრემუმის არსებობის საკმარისი პირობის გამოყენებით, თუ არსებობენ ამ ფუნქციების მეორე რიგის უწყვეტი კერძო წარმოებულები.

დანახარჯების მინიმიზაციის ამოცანის გადაწყვეტა შეიძლება აგრეთვე ლაგრანჟის მამრავლთა მეთოდით. შევადგინოთ ლაგრანჟის ფუნქცია

$$F(K, L, \lambda) = p_1 K + p_2 L + FC + \lambda (\alpha K^{\alpha_1} L^{\alpha_2} - Q_0)$$

და ამოვხსნათ სისტემა

$$\begin{cases} \frac{\partial F}{\partial K} = p_1 + \lambda \alpha_1 L^{\alpha_2} K^{\alpha_1 - 1} = 0 \\ \frac{\partial F}{\partial L} = p_2 + \lambda \alpha_2 L^{\alpha_2 - 1} K^{\alpha_1} = 0 \\ \frac{\partial F}{\partial \lambda} = \alpha K^{\alpha_1} L^{\alpha_2} - Q_0 = 0 \end{cases} \quad (6^*)$$

ეს სისტემა ადვილად იხსნება, თუ (6^*) -ის I განტოლებას წევრ-წევრად გავყოფთ II განტოლებაზე (მიიღება წრფივი განტოლება). ჩასმის ხერხით III განტოლებიდან მიიღება K^* -ის რიცხვითი მნიშვნელობა და ისევე I-ში ჩასმით L^* -ის მნიშვნელობა.

(K^*, L^*) არის ფუნქციის ექსტრემუმის სავარაუდო წერტილი.

იმის დასადგენად (K^*, L^*) მაქსიმუმის წერტილია თუ მინიმუმის, გამოვიყენოთ შემდეგი ცნობილი წესი. თუ ამ წერტილში

$$\frac{\partial^2 Q}{\partial K^2} \cdot \frac{\partial^2 Q}{\partial L^2} - \left(\frac{\partial^2 Q}{\partial K \partial L} \right)^2 > 0 \quad (6^{**})$$

და ა) $\frac{\partial^2 y}{\partial K^2} > 0$ მაშინ (K^*, L^*) მინიმუმის წერტილია, ბ) თუ $\frac{\partial^2 Q}{\partial K^2} < 0$ - მაქსიმუმის წერტილი. ვ) თუ (6^{**}) პირობა არ სრულდება, მაშინ ან არ გვაქვს ექსტრემუმი ან გაურკვეველი შემთხვევაა და საჭიროა დამატებითი კვლევა.

ამოცანა 5.1 პროდუქციის ფიქსირებული Q_0 რაოდენობისათვის (4) ფუნქციის მინიმიზაციით, განსაზღვრეთ რესურსების რაოდენობა ისე, რომ დანახარჯების TC რაოდენობა მინიმალური იყოს.

ამოცანა 5.2 ამოხსენით ამოცანა 5.1 (5) პირობის გამოყენებით

ამოცანა 5.3 ამოხსენით ამოცანა 5.1 ლაგრანჟის მამრავლთა მეთოდით.

ამოცანა 5.4 ამოხსენით ამოცანა 5.1 ერთი ცვლადის ფუნქციის მინიმიზაციით იმ შემთხვევაში, როცა დანახარჯების ფუნქციას აქვს არაწრფივი სახე:

$$TC = p_1 K^2 + p_2 L^2 + FC \quad (7)$$

ამოცანა 5.5 ამოხსენით ამოცანა 5.4 კობი-დუგლასის წარმოებლივი ფუნქციისათვის და დანახარჯების (7) არაწრფივი ფუნქციისათვის ლაგრანჟის მამრავლთა მეთოდით.

ამოცანა 5.1-5.5-ის ვარიანტები

N ^o	a	α ₁	α ₂	p ₁	p ₂	(FC)	Q ₀	h
1	2	0.5	0.4	2.1	3	10	120	0.01
2	2	0.5	0.5	2.3	3.2	11	130	0.02
3	2	0.5	0.3	1.9	3.2	12	140	0.01
4	2	0.5	0.2	2.1	2.6	13	150	0.02
5	2	0.5	0.4	1.9	3.3	14	160	0.01
6	3	0.4	0.5	3.1	4.5	15	170	0.02
7	3	0.5	0.4	2.5	3.5	16	180	0.01
8	2.4	0.3	0.5	2.5	2.4	17	190	0.03
9	2.4	0.4	0.5	1.5	2.5	18	200	0.02
10	2.4	0.6	0.3	2.5	4.5	19	210	0.03
11	2.4	0.7	0.2	1.5	3.5	20	220	0.04
12	2.5	0.5	0.4	3.8	4.5	21	230	0.04
13	2.5	0.4	0.5	1.9	4.1	22	240	0.04
14	2.5	0.3	0.6	2.4	3.1	23	250	0.05
15	2.5	0.2	0.8	1.5	4.5	24	125	0.05
16	2.5	0.8	0.2	2.5	4.6	25	135	0.05
17	2.5	0.7	0.3	2.5	4.5	26	145	0.05
18	3.5	0.2	0.8	2.5	3.5	27	155	0.06
19	3.5	0.6	0.3	3.5	4.5	28	165	0.06
20	3.5	0.4	0.5	3.5	4.5	29	175	0.06

პროდუქციის რაოდენობის მაქსიმიზაციის ამოცანა

ვთქვათ ძალაშია კობი-დუგლასის წარმოებლივი (1) და დანახარჯების (2) ფუნქციები.

$$Q = aK^{\alpha_1} \cdot L^{\alpha_2};$$

$$\alpha_1 > 0; \alpha_2 > 0$$

$$TC = p_1K + p_2L + FC$$

ამოცანა 5.6 დაეუშვათ მოცემული გვაქვს ფიქსირებული რაოდენობის კაპიტალი $TC=FC$.

შევარჩიოთ რესურსების K და L რაოდენობა ისე, რომ დამზადდეს პროდუქციის მაქსიმალური რაოდენობა.

(2)-დან L გამოსახსოთ დანარჩენი პარამეტრებით

$$L = -\frac{p_1}{p_2}K + \frac{FC - FC}{p_2} \quad (8)$$

ჩავსვათ (8) მნიშვნელობა (1)-ში მივიღებთ

$$Q = aK^{\alpha_1} \cdot \left(-\frac{p_1}{p_2}K + \frac{FC - FC}{p_2} \right)^{\alpha_2} \quad (9)$$

(9) ფუნქციის მაქსიმუმის მოძებნა შესაძლებელია როგორც ერთი ცვლადის ფუნქციის მინიმიზაციით (ფუნქციის სტაციონალური წერტილის პოვნით და ექსტრემუმის მოძებნით), ასევე გადარჩევის მეთოდის გამოყენებით.

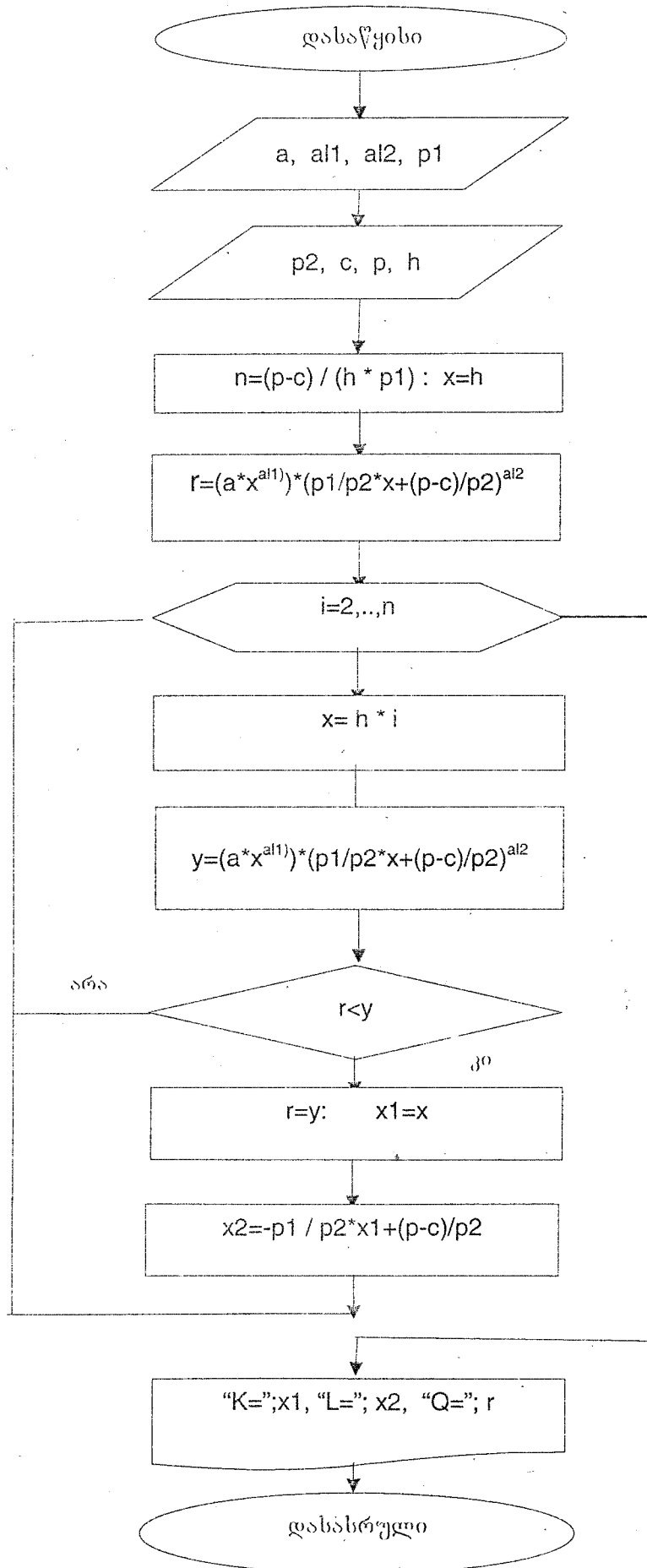
განხილული მოდელის შემთხვევაში K ცვლადის ცვლილებების დიაპაზონს განსაზღვრავს (8) დამოკიდებულებები და $K > 0; L > 0$ პირობები ე.ი.

$$-\frac{p_1}{p_2}K + \frac{FC - FC}{p_2} > 0$$

$$\text{აქედან } K < \frac{FC - FC}{p_1}$$

(9) ფუნქციის მაქსიმუმს ვეძებთ $\left(0; \frac{FC - FC}{p_1} \right)$ შუალედში.

ამ ალგორითმის ბლოკ-სქემას ასეთი სახე ექნება



შესაბამის ბეისიკ-პროგრამას აქვს სახე

```

CLS
INPUT "a,al1,al2,p1,p2,c,p,h"; A, AL1, AL2, P1, p2, c, p, h
n = (p - c) / (h * P1)
x = h
r = (A * x ^ AL1) * (-P1 / p2 * x + (p - c) / p2) ^ AL2
FOR i = 2 TO n
x = i * h
y = (A * x ^ AL1) * (-P1 / p2 * x + (p - c) / p2) ^ AL2
IF r < y THEN
r = y
x1 = x
x2 = -P1 / p2 * x1 + (p - c) / p2
END IF
NEXT i
PRINT
PRINT USING "K =####.#"; x1;
PRINT USING "    L =####.#"; x2;
PRINT USING "    Q =####.#"; r
END
    
```

კომპიუტერული რეალიზაციის შედეგები

საწყისი მონაცემები

A= 3 AL1= .5 AL2= .4 P1= 2.5
P2= 2.4 C= 17 H= .03

კომპიუტერზე მიღებული შედეგი

K = 20.2 L = 16.9 Q = 41.8

ამრიგად მივიღებთ რესურსების K^* და L^* რაოდენობას, რომლებიც გვაძლევს დანახარჯების მოცემულ ფიქსირებულ FTC რაოდენობას და პროდუქციის მაქსიმალურ რაოდენობას.

პროდუქციის რაოდენობის მაქსიმიზაციის ამოცანა შეიძლება ამოიხსნას ლაგრანჟის მამრავლთა მეთოდითაც. შევადგინოთ ლაგრანჟის ფუნქცია

$$F(K, L, \lambda) = aK^{\alpha_1}L^{\alpha_2} + \lambda(p_1K + p_2L + FC - FTC)$$

და ამოიხსნათ განტოლებათა სისტემა

$$\begin{cases} \frac{\partial F}{\partial K} = \alpha_1 a K^{\alpha_1-1} L^{\alpha_2} + \lambda p_1 = 0 \\ \frac{\partial F}{\partial L} = \alpha_2 a K^{\alpha_1} L^{\alpha_2-1} + \lambda p_2 = 0 \\ \frac{\partial F}{\partial \lambda} = p_1 K + p_2 L + FC - FTC = 0 \end{cases} \quad (10)$$

სისტემა ადვილად იხსნება, თუ (10)-ის I განტოლებას წევრ-წევრად გაყოფთ II განტოლებაზე. მიიღება წრფივ ორუცნობიან განტოლებათა სისტემა, რომლის ამონახსნი (K^*, L^*) არის (1) Q ფუნქციის ექსტრემუმის სავარაუდო წერტილი. (6**) პირობის შემოწმებით შეიძლება დაერწმუნდეთ, რომ მიღებული წერტილი გვაძლევს (1) ფუნქციის მაქსიმუმს.

ამოცანა 5.7 ამოხსენით ამოცანა 5.6 ლაგრანჟის მამრავლთა მეთოდით.

ამოცანა 5.8 ამოხსენით ამოცანა 5.6 ერთი ცვლადის ფუნქციის მაქსიმიზაციით, თუ დანახარჯების ფუნქციას აქვს არაწრფივი სახე

$$FTC = p_1 K^2 + p_2 L^2 + FC \quad (11)$$

ამოცანა 5.9 ამოხსენით ამოცანა 5.8 ლაგრანჟის მამრავლთა მეთოდით.

მოგების მაქსიმიზაციის ამოცანა

განვიხილოთ უფრო ზოგადი შემთხვევა, როდესაც ძალაშია (1), (2) დამოკიდებულებები და არაა ფიქსირებული არც პროდუქციის რაოდენობა და არც დანახარჯები TC. ვთქვათ პროდუქციის ერთეულის ღირებულებაა p ლარი. მაშინ სრული ამონაგების რაოდენობა $TR = p \cdot Q$, ხოლო მოგება.

$$\begin{aligned} \Pi &= TR - TC \text{ ანუ} \\ \Pi &= p \cdot aK^{\alpha_1} L^{\alpha_2} - (p_1 K + p_2 L + FC) \end{aligned} \quad (12)$$

ჩვენი მიზანია მაქსიმალური მოგების მიღება.

ორი ცვლადის (K და L) (12) ფუნქციის მაქსიმუმის გამოთვლა შეიძლება

$$\begin{cases} \frac{\partial \Pi}{\partial K} = 0 \\ \frac{\partial \Pi}{\partial L} = 0 \end{cases} \quad (13)$$

სისტემის ამოხსნით.

უპირობო მაქსიმუმის მოძებნის ამოცანა შეიძლება გადაწყდეს აგრეთვე გრადიენტული დაშვების მეთოდითაც.

ამოცანა 5.10 (1) და (2) დამოკიდებულებებისათვის იპოვეთ კაპიტალისა და შრომის რეკურსების რაოდენობა, რომლებიც გვაძლევენ მაქსიმალურ მოგებას (12) ფუნქციისათვის. ამოხსენით ამოცანა (13) სისტემის ამოხსნით.

ამოცანა 5.11 ამოხსენით ამოცანა 5.10 გრადიენტული დაშვების მეთოდით.

ამოცანა 5.6 - 5.11-ის ვარიანტები

№	a	α_1	α_2	p_1	p_2	FC	FTC	h	p
1	2	0.5	0.4	2.1	3	10	101	0.01	6
2	2	0.5	0.5	2.3	3.2	11	102	0.02	7
3	2	0.5	0.3	1.9	3.2	12	103	0.01	8
4	2	0.5	0.2	2.1	2.6	13	104	0.02	9
5	2	0.5	0.4	1.9	3.3	14	105	0.01	10
6	3	0.4	0.5	3.1	4.5	15	106	0.02	11
7	3	0.5	0.4	2.5	3.5	16	107	0.01	12
8	2.4	0.3	0.5	2.5	2.4	17	108	0.03	13
9	2.4	0.4	0.5	1.5	2.5	18	109	0.02	14
10	2.4	0.6	0.3	2.5	4.5	19	110	0.03	15
11	2.4	0.7	0.2	1.5	3.5	20	111	0.04	16
12	2.5	0.5	0.4	3.8	4.5	21	112	0.04	17
13	2.5	0.4	0.5	1.9	4.1	22	113	0.04	6
14	2.5	0.3	0.6	2.4	3.1	23	120	0.05	7
15	2.5	0.2	0.8	1.5	4.5	24	121	0.05	8
16	2.5	0.8	0.2	2.5	4.6	25	122	0.05	9
17	2.5	0.7	0.3	2.5	4.5	26	123	0.05	10
18	3.5	0.2	0.8	2.5	3.5	27	124	0.06	11
19	3.5	0.6	0.3	3.5	4.5	28	125	0.06	12
20	3.5	0.4	0.5	3.5	4.5	29	126	0.06	13

თავი 6
მოთხოვნა - მიწოდების წონასწორობის მოდელი

წონასწორობის ცნება

უთქვამთ ბაზარზე გვაქვს რაიმე სახეობის პროდუქცია. ფუნქციას, რომელიც გვჩვენებს რამდენად ამ პროდუქციის ერთეულის ფასსა და მასზე მოთხოვნას 'მორის მოთხოვნის ფუნქცია' ეწოდება. აღვნიშნოთ ის $y = D(P)$ -ით სადაც P პროდუქციის ერთეულის ფასია.

დავუშვათ არსებობს მიწოდებელი, რომელიც ბაზარზე საქონელს აწვდის ფასის შესაბამისად და ამ შესაბამისობას აქვს $z = S(P)$ სახე.

თუ რომელიმე \bar{P} ფასისათვის $D(\bar{P}) > S(\bar{P})$, ე.ი. მოთხოვნა მეტია მიწოდებაზე, მაშინ გვაქვს ამ საქონლის დეფიციტი, ხოლო თუ $D(\bar{P}) < S(\bar{P})$ მაშინ გვაქვს ჭარბი საქონელი. ჩვენი მიზანია ვიპოვოთ P^* ფასი, რომლისთვისაც მოთხოვნისა და მიწოდების რაოდენობები ტოლია ე.ი.

$$D(P^*) = S(P^*)$$

ანუ გვაქვს წონასწორობა ბაზარზე.

ბუნებრივია $D(P)$ ფუნქცია კლებადია (რაც მეტია ფასი, ნაკლებია მოთხოვნა). $S(P)$ კი ზრდადი ფუნქციაა. (ფასის ზრდა იწვევს მიწოდებულ საქონლის რაოდენობის ზრდას).

წონასწორობის ფასის მოხაზებნად საჭიროა $D(P) = S(P)$ განტოლების ამოხსნა.

წონასწორობის ერთი შემთხვევა

უთქვამთ ვიცით, რომ ფასების სამ მნიშვნელობას P_1, P_2 და P_3 -ს შეესაბამება მოთხოვნის სამი შესაბამისი მნიშვნელობა D_1, D_2 და D_3 , და მიწოდების სამი მნიშვნელობა S_1, S_2 და S_3 . მოთხოვნისა და მიწოდების ფუნქციების მიხედვად შევადგინოთ იმ გრაფიკების განტოლებები, რომლებიც მოცემულ სამ წერტილზე გადის. ასეთ ფუნქციებად შეგარჩიოთ კვადრატული სამწევრები, რომლებიც გადიან $(P_1; D_1); (P_2; D_2); (P_3; D_3)$ და $(P_1; S_1); (P_2; S_2)$ და $(P_3; S_3)$ წერტილებზე. ამისათვის ამოვხსნათ სისტემები:

$$\begin{cases} D_1 = a_1 P_1^2 + b_1 P_1 + c_1 \\ D_2 = a_1 P_2^2 + b_1 P_2 + c_1 \\ D_3 = a_1 P_3^2 + b_1 P_3 + c_1 \end{cases} \quad (1)$$

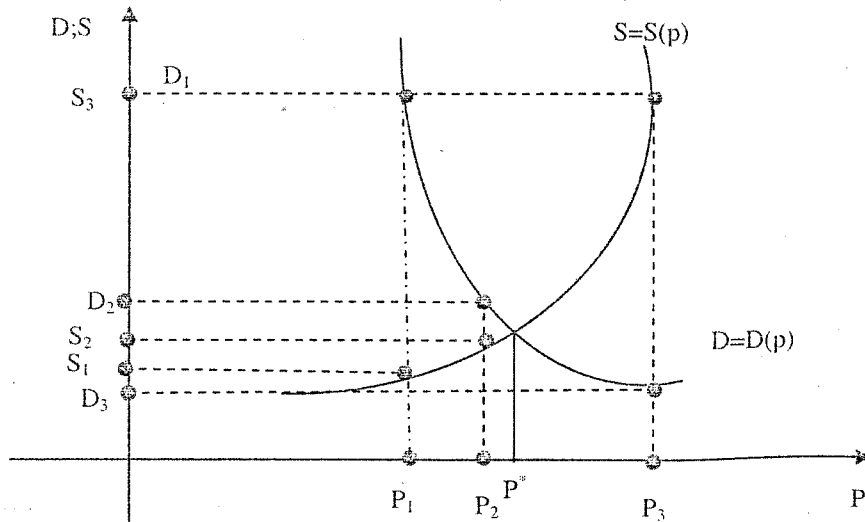
$$\begin{cases} S_1 = a_2 P_1^2 + b_2 P_1 + c_2 \\ S_2 = a_2 P_2^2 + b_2 P_2 + c_2 \\ S_3 = a_2 P_3^2 + b_2 P_3 + c_2 \end{cases} \quad (2)$$

(1) და (2) სისტემების ამოხსნით ვპოულობთ უცნობ $a_1; b_1; c_1$; და $a_2; b_2; c_2$ პარამეტრებს და ვღებულობთ მოთხოვნისა და მიწოდების ფუნქციებს.

$$D = a_1 P^2 + b_1 P + c_1 \quad (3)$$

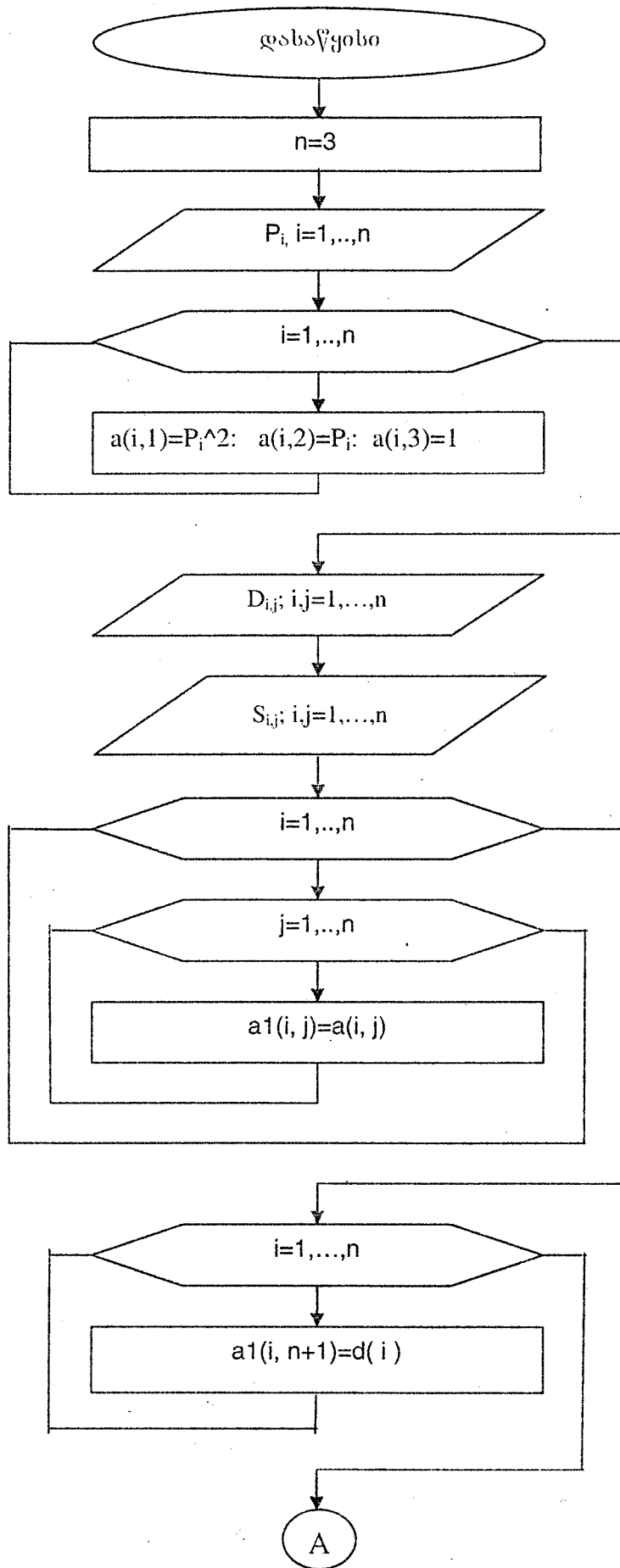
$$S = a_2 P^2 + b_2 P + c_2 \quad (4)$$

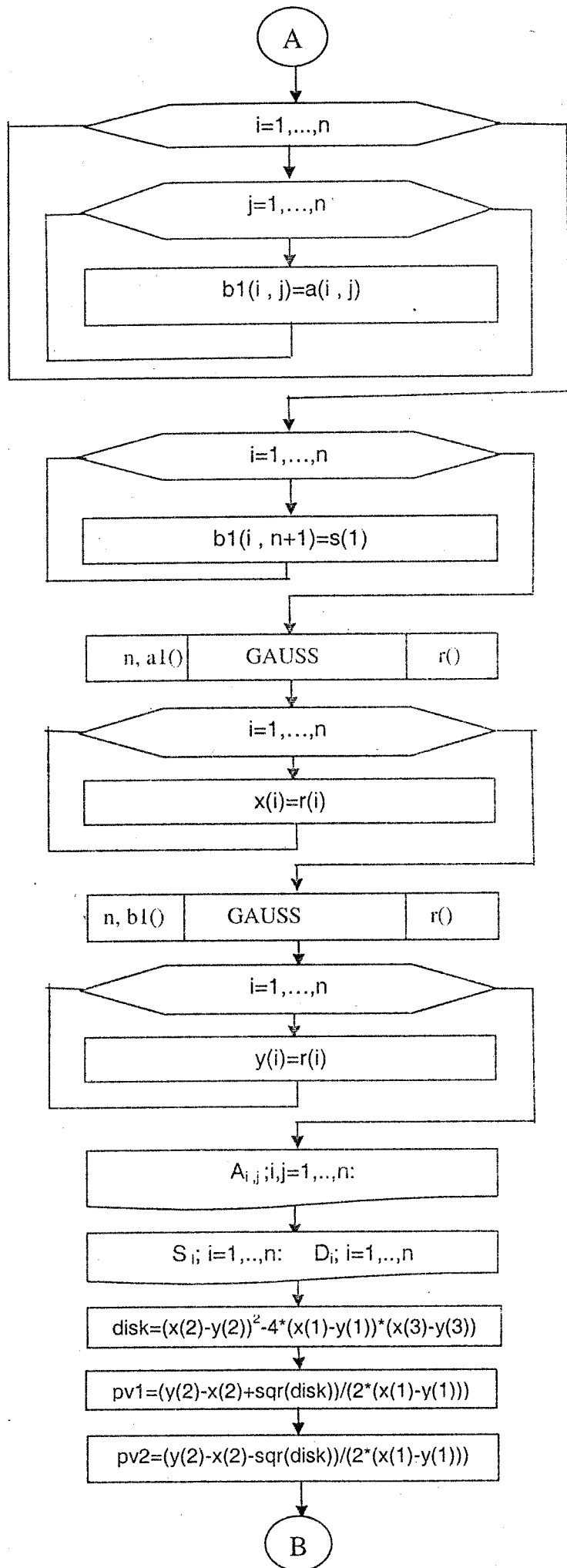
წონასწორობის ფასი შეესაბამება გრაფიკების გადაკვეთის წერტილს.

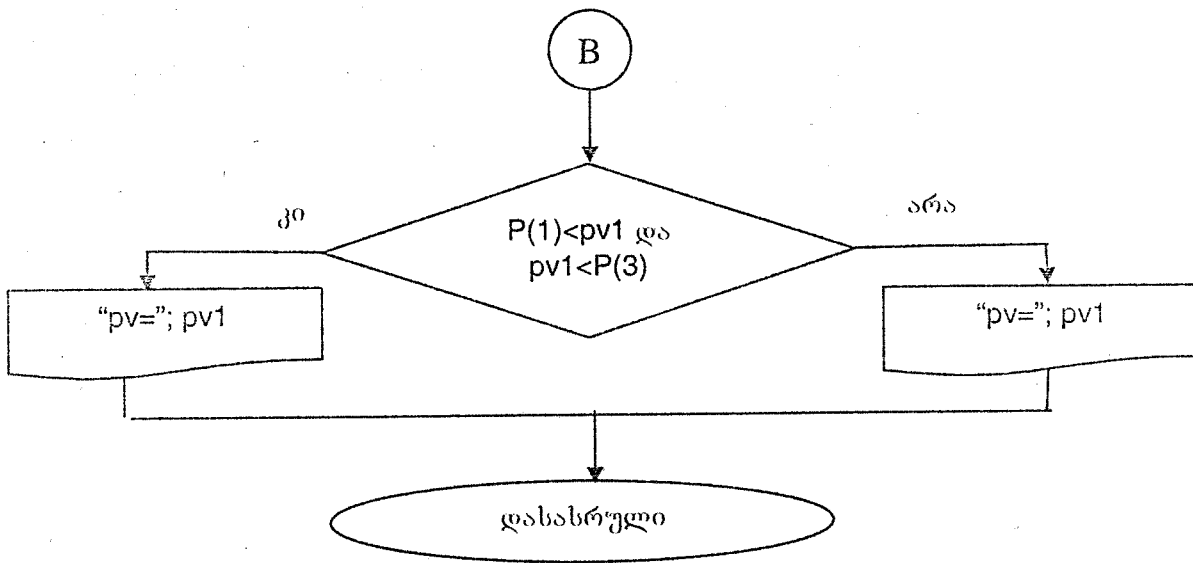


D-Demand მოთხოვნა
S-Supply მიწოდება

წონასწორობის ფაზის ანალიზურად მისაღებად უნდა ამოიხსნას განტოლება $D(P)=S(P)$ ანუ $a_1P^2 + b_1P + c_1 = a_2P^2 + b_2P + c_2$. ამ განტოლების ამოხსნით ვღებულობთ P^* წონასწორობის ფაზს.







შესაბამის ბეისიკ-პროგრამას აქვს სახე

```

DECLARE SUB gauss (n, a1(), r())
DIM a(3, 3), a1(3, 4), s(3), d(3), b1(3, 4), x(3), y(3), r(3)
n = 3
CLS
OPEN "TEMO5.DAT" FOR OUTPUT AS #1
PRINT "შემოიტანეთ p ვექტორის ელემენტები"
FOR i = 1 TO 3
INPUT p(i)
NEXT i
FOR i = 1 TO 3
a(i, 1) = p(i) ^ 2
a(i, 2) = p(i)
a(i, 3) = 1
NEXT i
PRINT
PRINT "შემოიტანეთ D ვექტორის ელემენტები"
FOR i = 1 TO n
INPUT d(i)
NEXT i
CLS
'====
PRINT " შემოიტანეთ s ვექტორის ელემენტები "
FOR i = 1 TO n
INPUT s(i)
NEXT i
CLS
'====
FOR i = 1 TO n
FOR j = 1 TO n
a1(i, j) = a(i, j)
NEXT j
NEXT i
FOR i = 1 TO n
a1(i, n + 1) = d(i)
NEXT i
'====
  
```

```

FOR i = 1 TO n
FOR j = 1 TO n
b1(i, j) = a(i, j)
NEXT j
NEXT i
FOR i = 1 TO n
b1(i, n + 1) = s(i)
NEXT i
'=====
CALL gauss(n, a1(), r())
FOR i = 1 TO n
x(i) = r(i)
NEXT i
CALL gauss(n, b1(), r())
FOR i = 1 TO n
y(i) = r(i)
NEXT i
'=====
PRINT "P კვადრატის კოეფიციენტები "
PRINT
FOR i = 1 TO 3
PRINT p(i),
NEXT i

'=====
PRINT
PRINT "          A მატრიცა"
FOR i = 1 TO n
FOR j = 1 TO n
PRINT USING "###"; a(i, j);
NEXT j
PRINT
NEXT i
PRINT
'=====
PRINT "          S კვადრანტი "
FOR i = 1 TO n
PRINT s(i);
NEXT i
PRINT
PRINT
'=====
PRINT
PRINT "          D კვადრანტი"
FOR i = 1 TO n
PRINT d(i);
NEXT i
'=====
disk = (x(2) - y(2)) ^ 2 - 4 * (x(1) - y(1)) * (x(3) - y(3))
pv1 = (y(2) - x(2) + SQR(disk)) / (2 * (x(1) - y(1)))
pv2 = (y(2) - x(2) - SQR(disk)) / (2 * (x(1) - y(1)))
IF p(1) < pv1 AND pv1 < p(3) THEN pv = pv1 ELSE pv = pv2
PRINT using " pv= ###.###";  pv
END

1000 SUB gauss (n, a1(), r())
1010 FOR i = 1 TO n - 1
1020 c = a1(i, i)
1030 FOR j = 1 TO n + 1
1040 a1(i, j) = a1(i, j) / c
1050 NEXT j
1060 FOR k = i + 1 TO n
1070 c = a1(k, i)
1080 FOR l = 1 TO n + 1
1090 a1(k, l) = a1(k, l) - a1(i, l) * c
1100 NEXT l

```

```

a1(i, n + 1) = d(i)
NEXT i
'=====
FOR i = 1 TO n
FOR j = 1 TO n
b1(i, j) = a(i, j)
NEXT j
NEXT i
FOR i = 1 TO n
b1(i, n + 1) = s(i)
NEXT i
'=====
CALL gauss(n, a1(), r())
FOR i = 1 TO n
x(i) = r(i)
NEXT i
CALL gauss(n, b1(), r())
FOR i = 1 TO n
y(i) = r(i)
NEXT i
'=====
PRINT "p ვექტორის ელემენტები "
PRINT
FOR i = 1 TO 3
PRINT p(i),
NEXT i

'=====
PRINT
PRINT "          A მატრიცა"
FOR i = 1 TO n
FOR j = 1 TO n
PRINT USING "###"; a(i, j);
NEXT j
PRINT
NEXT i
PRINT
'=====
PRINT "          S ვექტორი "
FOR i = 1 TO n
PRINT s(i);
NEXT i
PRINT
PRINT
'=====
PRINT
PRINT "          D ვექტორი"
FOR i = 1 TO n
PRINT d(i);
NEXT i
'=====
disk = (x(2) - y(2)) ^ 2 - 4 * (x(1) - y(1)) * (x(3) - y(3))
pv1 = (y(2) - x(2) + SQR(disk)) / (2 * (x(1) - y(1)))
pv2 = (y(2) - x(2) - SQR(disk)) / (2 * (x(1) - y(1)))
IF p(1) < pv1 AND pv1 < p(3) THEN pv = pv1 ELSE pv = pv2
PRINT using " pv= ###.###"; pv
END

1000 SUB gauss (n, a1(), r())
1010 FOR i = 1 TO n - 1
1020 c = a1(i, i)
1030 FOR j = 1 TO n + 1
1040 a1(i, j) = a1(i, j) / c
1050 NEXT j
1060 FOR k = i + 1 TO n

```

```

1070 c = a1(k, i)
1080 FOR l = 1 TO n + 1
1090 a1(k, l) = a1(k, l) - a1(i, l) * c
1100 NEXT l
1110 NEXT k
1120 NEXT i
1130 r(n) = a1(n, n + 1) / a1(n, n)
1140 k = n - 1
1150 s = 0
1160 m = k + 1
1170 FOR j = m TO n
1180 s = s + a1(k, j) * r(j)
1190 NEXT j
1200 r(k) = a1(k, n + 1) - s
1210 k = k - 1
1220 IF k <> 0 THEN GOTO 1150
1230 END SUB

```

კომპიუტერული რეალიზაციის შედეგები

საწყისი მინაცემები

P ვექტორის ელემენტები

2 3 4

A მატრიცა

4 2 1
9 3 1
16 4 1

S ვექტორი

1 2 4

D ვექტორი

4 3 1

კომპიუტერზე მიღებული შედეგი

pv = 3.302

თუ მოცემული გვაქვს დიდი რაოდენობის ექსპერიმენტული წერტილები და საჭიროა მათი აპროქსიმაცია მრავალწევრით (ან სხვა ფუნქციით), მაშინ ხშირად მიმართავენ აპროქსიმაციის უმცირეს კვადრატთა მეთოდს. მისი არსია ექსპერიმენტული წერტილებზე გავატაროთ მრუდი ისე, რომ ამ მრუდისგან ექსპერიმენტული წერტილების "გადახრების" კვადრატების ჯამი მინიმალური იყოს.

ვთქვათ მოცემულია n წერტილი კოორდინატებით $(x_i; y_i)$, $i = 1, 2, \dots, n$. დაგვშვათ სააპროქსიმაციო მრავალწევრს აქვს კვადრატული სამწევრის სახე:

$$\alpha_0 + \alpha_1 x + \alpha_2 x^2,$$

მაშინ ჩვენი მიზანია

$$\Phi(\alpha_0; \alpha_1; \alpha_2) = \sum_{i=1}^n (\alpha_0 + \alpha_1 x_i + \alpha_2 x_i^2 - y_i)^2$$

ფუნქციის მინიმიზაცია.

Φ ფუნქციის მინიმუმის მოსაძებნად ამოვხსნათ სისტემა.

$$\begin{cases} \frac{\partial \phi}{\partial \alpha_0} = 0 \\ \frac{\partial \phi}{\partial \alpha_1} = 0 \\ \frac{\partial \phi}{\partial \alpha_2} = 0 \end{cases} \quad (5)$$

გაწარმოებით და მარტივი გარდაქმნებით (5) სისტემა მიიღებს სახეს:

$$\begin{cases} \alpha_0 n + \alpha_1 \sum_{i=1}^n x_i + \alpha_2 \sum_{i=1}^n x_i^2 = \sum_{i=1}^n y_i \\ \alpha_0 \sum_{i=1}^n x_i + \alpha_1 \sum_{i=1}^n x_i^2 + \alpha_2 \sum_{i=1}^n x_i^3 = \sum_{i=1}^n x_i y_i \\ \alpha_0 \sum_{i=1}^n x_i^2 + \alpha_1 \sum_{i=1}^n x_i^3 + \alpha_2 \sum_{i=1}^n x_i^4 = \sum_{i=1}^n x_i^2 y_i \end{cases} \quad (6)$$

(6) არის წრფივი სამუცნობიანი განტოლებათა სისტემა α_0, α_1 და α_2 უცნობების მიმართ, რომლის ამოხსნითაც მივიღებთ აღნიშნული უცნობების რიცხვით მნიშვნელობებს.

ამ ამოცანის გადაწყვეტა შეიძლება მატრიცული ფორმითაც, ამისათვის შემოვიღოთ აღნიშვნები:

$$X = \begin{pmatrix} 1 & x_1 & x_1^2 \\ 1 & x_2 & x_2^2 \\ \dots & \dots & \dots \\ 1 & x_n & x_n^2 \end{pmatrix}; \quad A = \begin{pmatrix} a_0 \\ a_1 \\ a_2 \end{pmatrix}; \quad Y = \begin{pmatrix} y_1 \\ y_2 \\ \dots \\ y_n \end{pmatrix}$$

მაშინ (6) სისტემის კოეფიციენტების მატრიცა ჩამოყალიბდება ასე:

$$X^T \cdot X \quad (7)$$

სადაც X^T არის X მატრიცის ტრანსპონირებული.

თავისუფალი წევრების ვექტორ-სვეტი მიიღება

$$X^T \cdot Y \quad (8)$$

ნამრავლით.

ამოცანა 6.1. მოცემული პარამეტრებისათვის განსაზღვრეთ მოთხოვნისა და მიწოდების ფუნქციები კვადრატული საწვერის სახით. იპოვეთ წონასწორობის ფასი და მოთხოვნისა და მიწოდების რაოდენობა წონასწორობის შემთხვევაში. გამოთვლები შეასრულეთ კომპიუტერზე. განტოლებათა სისტემების ამოხსნა შეასრულეთ ქვეპროგრამის გამოყენებით.

ამოცანა 6.2. მოცემული პარამეტრებით გამოთვალეთ მეთოხე პარამეტრი ფორმულებით $P_4 = \frac{P_2 + P_3}{2}$, $D_4 = \frac{D_2 + D_3}{2}$, $S_4 = \frac{S_2 + S_3}{2}$ განსაზღვრეთ მოთხოვნისა და მიწოდების ფუნქციები მესამე ხარისხის პოლინომების სახით. იპოვეთ წონასწორობის ფასი, მოთხოვნისა და მიწოდების რაოდენობა ამ ფასისათვის. კუბური განტოლება ამოხსენით ერთერთი რიცხვითი მეთოდით.

ამოცანა 6.3. ამოცანა 6.2.-ში დაამატეთ მეხუთე პარამეტრი $P_5 = \frac{P_1 + P_2}{2}$; $D_5 = \frac{D_1 + D_2}{2}$; $S_5 = \frac{S_1 + S_2}{2}$.

მოცემული პარამეტრებისათვის უმცირეს კვადრატთა მეთოდით შეასრულეთ აპროქსიმაცია კვადრატული სამწვერით. იპოვეთ წონასწორობის ფასი და მიწოდებისა და მოთხოვნის ფუნქციების მნიშვნელობები მიღებული შედეგები შეადარეთ ამოცანა 6.2.-ის შედეგებს.

ამოცანა 6.4. ამოხსენით ამოცანა 6.3 შებრუნებული მატრიცის გამოყენებით.

ამოცანა 6.1-6. 4 -ის ვარიანტები

№	ფასების მნიშვნელობები			მოთხოვნის მნიშვნელობები			მიწოდების მნიშვნელობები		
	P ₁	P ₂	P ₃	D ₁	D ₂	D ₃	S ₁	S ₂	S ₃
1	2	3	4	4	3	1	1	2	4
2	2	3	5	5	4	2	2	3	5
3	2	3	6	6	5	3	3	4	6
4	2	3	7	7	6	4	4	5	7
5	2	3	8	8	7	5	5	6	8
6	2	3	9	9	8	6	6	7	9
7	2	4	5	10	9	7	7	8	10
8	2	4	6	4	3	1	2	4	5
9	2	4	7	5	4	2	3	5	6
10	2	4	8	6	5	3	4	6	7
11	2	4	9	7	6	4	5	7	8
12	2	5	6	8	7	5	6	8	9
13	2	5	7	9	8	6	7	9	10
14	2	5	8	10	9	5	5	7	10
15	2	5	9	5	4	2	1	2	6
16	3	5	7	6	5	3	2	3	7
17	3	5	8	7	6	4	3	4	8
18	3	5	9	8	7	5	4	5	9
19	3	4	5	9	8	6	5	6	10
20	3	4	6	10	9	4	3	6	11

თავი 7

მათემატიკა ზოგიერთ საბანკო ამოცანაში

ბანკის ოპტიმალურად შერჩევის ამოცანა

თუ ბანკი გვთავაზობს k ლარის ოდენობის ანაბარზე ყოველი წლის ბოლოს სავსის თანხაზე $r\%$ -იან დარიცხვას, მაშინ გვაქვს მარტივი $r\%$ -იანი განაკვეთი და n წლის ბოლოს დაგროვილი თანხის რაოდენობა იქნება

$$k_n = k + k \frac{r}{100} n$$

ანუ

$$k_n = k \left(1 + \frac{r}{100} n \right) \quad (1)$$

თუ დარიცხვა ხდება ყოველწლიურად მიმდინარე თანხაზე $r\%$ -ის დამატებით, მაშინ გვაქვს დარიცხვის $r\%$ -იან რთული განაკვეთი. ამ შემთხვევაში თანხის რაოდენობა

I წლის ბოლოს $k_1 = k + k \frac{r}{100} = k \left(1 + \frac{r}{100} \right)$

II წლის ბოლოს $k_2 = k_1 + k_1 \frac{r}{100} = k_1 \left(1 + \frac{r}{100} \right) = k \left(1 + \frac{r}{100} \right)^2$

.....
 n წლის ბოლოს

$$k_n = k \left(1 + \frac{r}{100} \right)^n \quad (2)$$

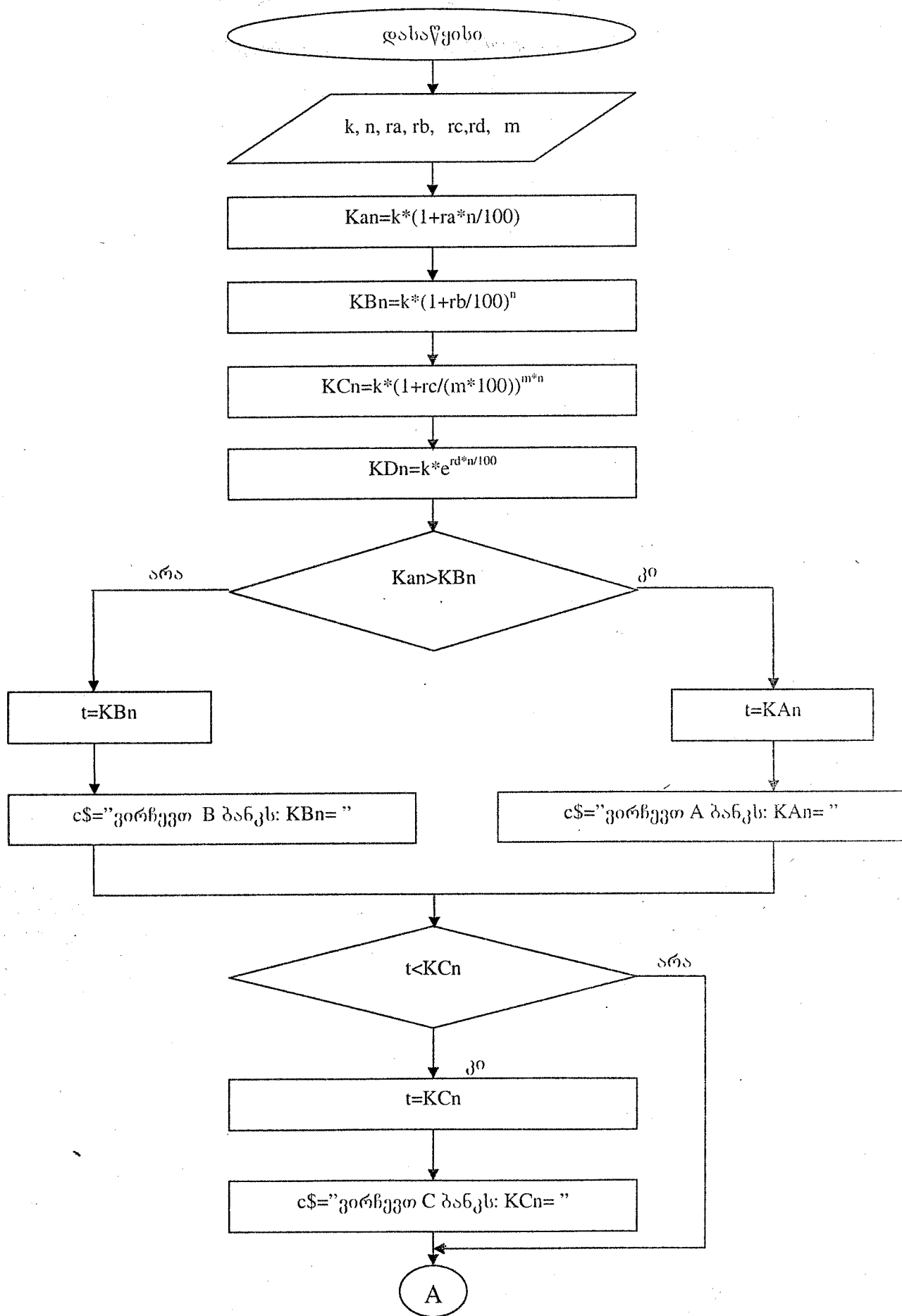
თუ დარიცხვა ხდება რთული $r\%$ -იანი წლიური განაკვეთით წელიწადში m -ჯერ, მაშინ დარიცხვის პერიოდში თანხას დაემატება მიმდინარე თანხის $\frac{r}{m}\%$, ხოლო პერიოდების რაოდენობა იქნება mn . შესაბამისად თანხა n წლის შემდეგ იქნება

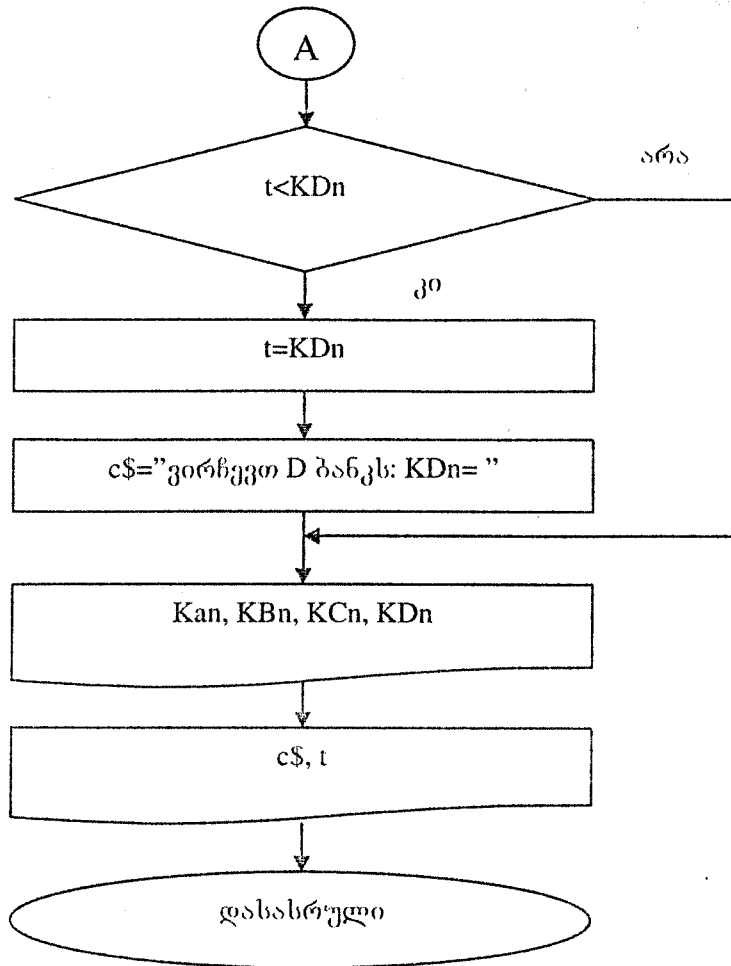
$$k_{mn} = k \left(1 + \frac{r}{100m} \right)^{mn} \quad (3)$$

თუ წელიწადში დარიცხვის პერიოდების m რაოდენობას უსასრულოდ გავზრდით, მაშინ მივიღებთ უწყვეტი დარიცხვის შემთხვევას. დაგროვილი თანხის გამოსათვლელად (3)-ში უნდა გადავიდეთ ზღვარზე, როცა $m \rightarrow \infty$.

$$\lim_{m \rightarrow \infty} k_{mn} = \lim_{m \rightarrow \infty} k \left(1 + \frac{r}{100m} \right)^{mn} = k \cdot e^{\frac{r \cdot n}{100}} \quad (4)$$

ამოცანა 7.1. ვთქვათ ბანკში n წლით უნდა შევიტანოთ k ლარი. A ბანკი გვთავაზობს წლიურ $r_A\%$ -იან მარტივ განაკვეთს, B ბანკი $r_B\%$ -იან რთულ წლიურ განაკვეთს, C ბანკი $r_C\%$ -იან რთულ წლიურ განაკვეთს ყოველკვარტალური დარიცხვით, ხოლო D ბანკი $r_D\%$ -იან განაკვეთს უწყვეტი დარიცხვით. რომელი ბანკი შევარჩიოთ, რომ n წლის შემდეგ მაქსიმალური თანხა გვქონდეს? ამოცანის ამოსახსნელად ვისარგებლოთ (1), (2), (3) და (4) ფორმულებით





შესაბამის ბეისიკ-პროგრამას აქვს სახე

```

CLS
INPUT "k="; k
INPUT "n="; n
INPUT "ra="; ra
INPUT "rb="; rb
INPUT "rc="; rc
INPUT "rd="; rd
INPUT "m="; m
KAN = k * (1 + ra * n / 100)
KBn = k * (1 + rb / 100) ^ n
KCn = k * (1 + rc / (m * 100)) ^ (m * n)
KDn = k * EXP(rd * n / 100)
IF KAN > KBn THEN
t = KAN
c$ = "ვირჩევთ A ბანკს: KAN="
ELSE
t = KBn
c$ = "ვირჩევთ B ბანკს: KBn="
END IF
IF t < KCn THEN
t = KCn:
  
```

```

c$ = "ვირსეო C ბანკს:  KcN="
END IF
IF t < KdN THEN
t = KdN
c$ = "ვირსეო D ბანკს:  KdN="
END IF
PRINT "KAn="; KAn
PRINT "KBn="; KBn
PRINT "KcN="; KcN
PRINT "KdN="; KdN
PRINT c$; t
END

```

კომპიუტერული რეალიზაციის შედეგები

საწყისი მონაცემები

k= 30000	n= 7	ra= 4.9		
rb= 4.7	rc= 4.5	rd= 4.3	m= 12	

კომპიუტერზე მიღებული შედეგები

KAn = 40290
 KBn = 41375.95
 KcN = 41083.57
 KdN = 40536.28
 ვირსეო B ბანკს: KBn= 41375.95

ვალის დაფარვის ამოცანა

ვთქვათ, ავიღეთ ბანკის ვალი k ღარის ოდენობით, რომელიც უნდა დაიფაროს n წლის განმავლობაში ყოველწლიურად a ღარის შეტანით (a უცნობია).

მარტივი განაკვეთის შემთხვევაში ყოველწლიურად $r\%$ -იანი დანარიცხის დროს (1)-დან n წლის ბოლოს ნაშთითი ვალი იქნება

$$R_n = k \left(1 + \frac{r \cdot n}{100} \right) - na \quad (5)$$

რთული წლიური $r\%$ -იანი განაკვეთის ყოველწლიური დარიცხვის შემთხვევაში 1 წლის ბოლოს ნაშთითი ვალი იქნება

$$R_1 = k + \frac{kr}{100} - a = k \left(1 + \frac{r}{100} \right) - a$$

ავნიშნოთ $1 + \frac{r}{100} = q$

$$\text{II წლის ბოლოს } R_2 = R_1 + R_1 \frac{r}{100} - a = R_1 q - a = (kq - a)q - a = kq^2 - a(1+q)$$

$$\text{III წლის ბოლოს } R_3 = R_2 + \frac{R_2 r}{100} - a = R_2 q - a = (kq^2 - a(1+q))q - a = kq^3 - a(1+q+q^2)$$

.....
 n წლის ბოლოს ნაშთითი ვალი

$$R_n = R_{n-1} + \frac{R_{n-1} r}{100} - a = kq^n - a \cdot (1 + q + q^2 + \dots + q^{n-1})$$

გეომეტრიული პროგრესიის პირველი n წევრის ჯამის ფორმულით

$$1 + q + q^2 + \dots + q^{n-1} = \frac{q^n - 1}{q - 1}$$

აქედან ნაშთითი ვალი n წლის ბოლოს იქნება

$$R_n = kq^n - a \frac{q^n - 1}{q - 1} \quad (6)$$

რთული წლიური $r\%$ -იანი განაკვეთის შემთხვევაში, როცა დარიცხვა ხდება წელიწადში m ჯერ ნაშთითი ვალი n წლის შემდეგ (ზემოთმოყვანილი მსჯელობის ანალოგიურად) იქნება

$$R_n = kq^{nm} - a \frac{q^{nm} - 1}{q^m - 1} \quad (7)$$

სადაც $q = 1 + \frac{r}{100m}$, რადგან ყოველ ჯერზე დარიცხვის პროცენტი $\frac{r}{m}$ -ის ტოლია.

რთული წლიური $r\%$ -იანი უწყვეტი დარიცხვის შემთხვევაში ნაშთით ვალს n წლის შემდეგ ექნება სახე

$$R_n = ke \frac{nr}{100} - a \frac{e^{\frac{nr}{100}} - 1}{\frac{r}{100}} \quad (8)$$

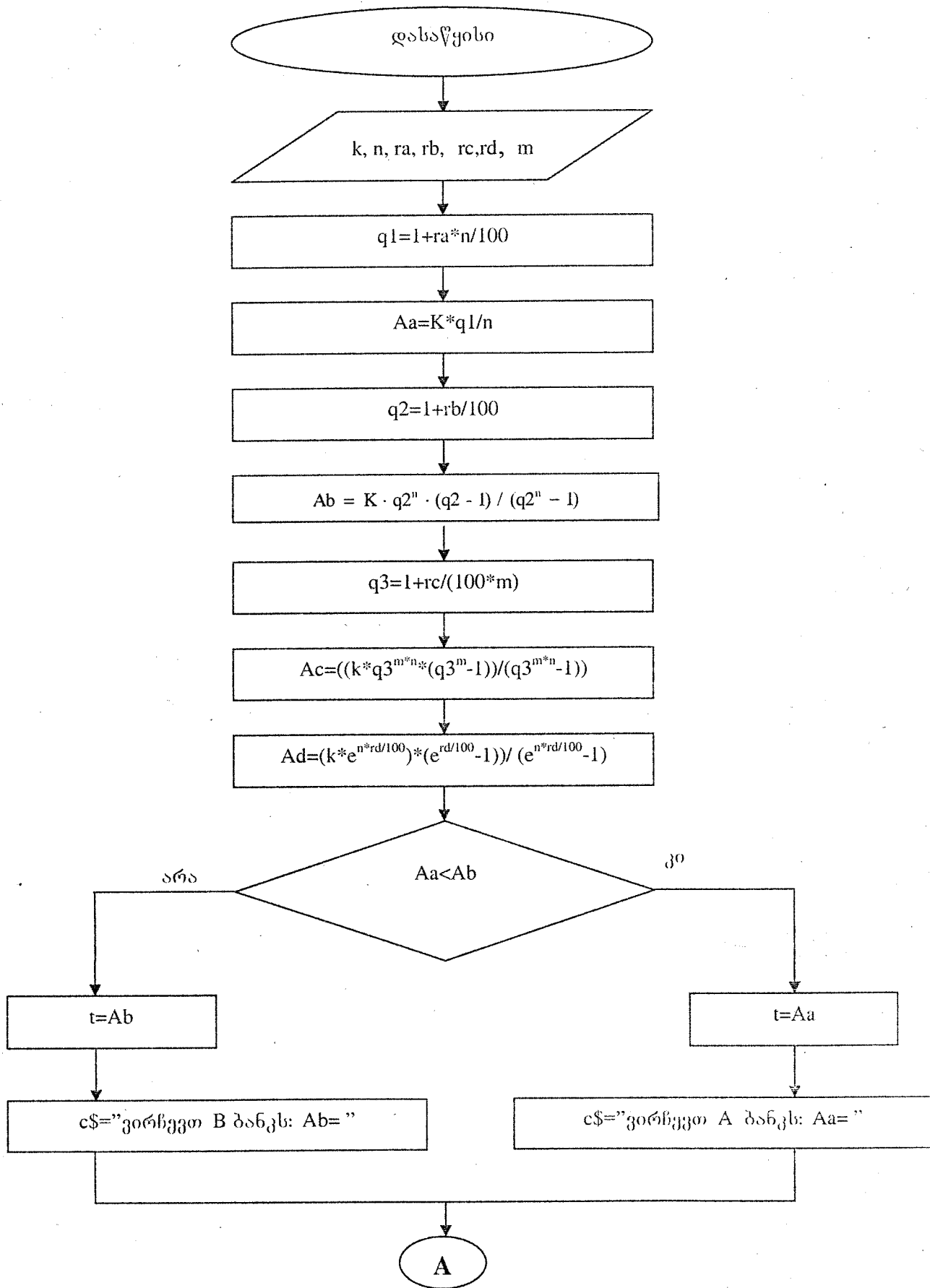
ვალის დაფარვა n წლის შემდეგ ნიშნავს, რომ ნაშთითი ვალი $R_n = 0$, ამის გათვალისწინებით გამოთვლით რა ყოველწლიურ შესატანს a -ს (5), (6), (7) და (8) ტოლობებიდან მივიღებთ ყოველწლიურად ბანკში შესატანი a თანხის ოთხ მნიშვნელობას.

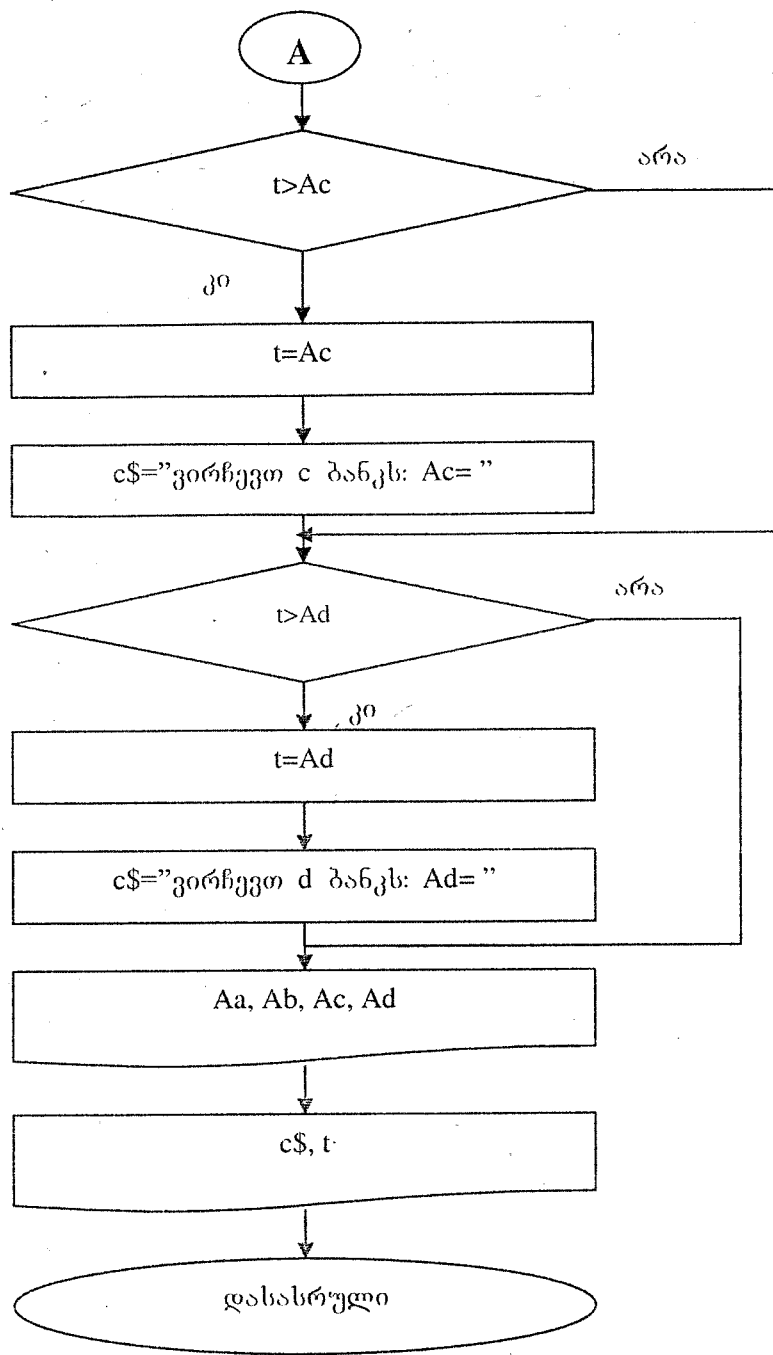
ცხადია შევარჩევთ იმ ბანკს, რომელშიც ყოველწლიური შესატანი თანხა მინიმალური იქნება.

ამოცანა 7.2 ვთქვათ A ბანკი შეანაბრებს სთავაზობს k ლარიან კრედიტს დარიცხვის $r_A\%$ -იანი წლიური მარტივ განაკვეთით, B ბანკი $r_B\%$ -იანი წლიურ რთულ განაკვეთს, C ბანკი $r_C\%$ -იანი რთულ წლიურ განაკვეთს ყოველკვარტალური დარიცხვით, ხოლო D ბანკი $r_D\%$ -იანი განაკვეთს უწყვეტი დარიცხვით. ვთქვათ ვალი უნდა გადავიხადოთ n წლის განმავლობაში ყოველწლიურად თანაბარი თანხის შეტანით. შევარჩიოთ ხელსაყრელი ბანკი და დავადგინოთ ვალის დაფარვისთვის საჭირო ყოველწლიური შენატანის რაოდენობა. ამოხსენით ამოცანა კომპიუტერის გამოყენებით.

a სიდიდის გამოსათვლელად ვისარგებლოთ (5), (6), (7) და (8) დამოკიდებულებებით.

ალგორითმის ბლოკ-სქემას ექნება შემდეგი სახე





შესაბამის ბეისიკ-პროგრამას აქვს სახე

```

CLS
INPUT "k="; k
INPUT "n="; n
INPUT "ra="; ra
INPUT "rb="; rb
INPUT "rc="; rc
INPUT "rd="; rd
INPUT "m="; m
q1 = 1 + ra * n / 100
Aa = k * q1 / n
  
```



```

q2 = 1 + rb / 100
Ab = k * q2 ^ n * (q2 - 1) / (q2 ^ n - 1)
q3 = 1 + rc / (100 * m)
Ac = ((k * q3 ^ (m * n) * (q3 ^ m - 1)) / (q3 ^ (m * n) - 1))
Ad = (k * EXP(n * rd / 100) * (EXP(rd / 100) - 1)) / (EXP(n * rd / 100) - 1)
IF Aa < Ab THEN
t = Aa
c$ = "ვირჩევთ A ბანკს: Aa="
ELSE
t = Ab
c$ = "ვირჩევთ B ბანკს: Ab="
END IF
IF t > Ac THEN
t = Ac:
c$ = "ვირჩევთ C ბანკს: Ac="
END IF
IF t > Ad THEN
t = Ad
c$ = "ვირჩევთ D ბანკს: Ad="
END IF
PRINT "Aa="; Aa
PRINT "Ab="; Ab
PRINT "Ac="; Ac
PRINT "Ad="; Ad
PRINT c$; t
END

```

კომპიუტერული რეალიზაციის შედეგები

საწყისი მონაცემები

k= 24000 n= 9 ra= 4.4
rb= 4.3 rc= 4.2 rd= 4.1 m= 12

კომპიუტერზე მიღებული შედეგები

Aa = 3722.667
Ab = 3272.106
Ac = 3269.409
Ad = 3255.13
ვირჩევთ D ბანკს: Ad= 3255.13

ამოცანა 7.3 ამოსხენით ამოცანა 7.2 თუ C ბანკი აწარმოებს ყოველდღიურ დარიცხვებს r%-იან რთული წლიური განაკვეთით.

ამოცანა 7.1 – 7.3-ის ვარიანტები.

№	K	n	r _A	r _B	r _C	r _D
1	2	3	4	5	6	7
1	30000	7	4.9	4.7	4.5	4.3
2	40000	7	4.8	4.6	4.4	4.3
3	50000	7	4.7	4.6	4.5	4.4
4	60000	7	4.6	4.5	4.4	4.3
5	70000	7	4.5	4.4	4.3	4.2
6	80000	6	4.4	4.3	4.2	4.1
7	90000	6	4.3	4.2	4.1	4.0
8	100000	6	4.2	4.1	4.0	3.9
9	110000	6	4.1	4.0	3.9	3.8
10	120000	7	4.0	3.9	3.8	3.7

1	2	3	4	5	6	7
11	130000	7	3.9	3.8	3.7	3.5
12	140000	7	3.8	3.7	3.5	3.4
13	150000	7	3.7	3.6	3.5	3.4
14	160000	8	3.6	3.5	3.4	3.3
15	170000	8	3.5	3.4	3.2	3.1
16	180000	8	4.8	4.7	4.6	4.5
17	190000	8	4.7	4.6	4.5	4.4
18	200000	8	4.6	4.5	4.4	4.3
19	210000	9	4.5	4.4	4.3	4.2
20	220000	9	4.4	4.3	4.2	4.0

საბანკო ანაბრის დახურვის ამოცანა

ამ ტიპის ამოცანები იხსნება ზემოთმოყვანილი ალგორითმის ანალოგიურად.

ამოცანა 7.4 ვთქვათ A ბანკში გვაქვს K_A ლარის ანაბარი $r_A\%$ -იანი სარგებლის რთული წლიური განაკვეთით. დაუშვათ კონტრაქტის თანახმად ყოველი წლის ბოლოს ბანკიდან შეგვიძლია გამოვიტანოთ a ლარი. რამდენ წელიწადში დაიხურება ანაბარი?

ამოცანა 7.5 ამოცანა 7.4-ის პირობებში რა დროში დაიხურება ანაბარი, თუ ღარიცხვა ხდება ყოველთვიურად სარგებლის რთული წლიური $r_A\%$ -იანი განაკვეთით?

დაგეგმილი თანხის დაგროვების ამოცანა

ამოცანა 7.6 ვთქვათ B ბანკში ყოველწლიურად შეგვაქვს a ლარი, ამოცანა 7.4-ში გამოთვლილი n წლის განმავლობაში რას უნდა უდრიდეს სარგებლის წლიური რთული $r_B\%$ -იანი განაკვეთი, რომ n წლის ბოლოს დაგროვდეს K_B ლარი? (n რიცხვი დაამრგვალოთ მთელ რიცხვამდე მეტობით)

ამ ამოცანის ამოხსნის ალგორითმის ასაგებად ვიანგარიშოთ ნაშთები ყოველი წლის ბოლოს.

$$I \text{ წლის ბოლოს ნაშთი } R_1 = a + a \frac{r_B}{100} = a(1 + \frac{r_B}{100})$$

$$\text{აღვნიშნოთ } q = 1 + \frac{r_B}{100}, \text{ მაშინ } R_1 = q \cdot a$$

$$II \text{ წლის დასაწყისში თანხა იქნება } R'_1 = R_1 + a = aq + a = a(1 + q)$$

$$II \text{ წლის ბოლოს } R_2 = R'_1 + R'_1 \frac{r_B}{100} = R'_1(1 + \frac{r_B}{100}) = R'_1 \cdot q$$

$$R_2 = a(1 + q)q$$

III წლის დასაწყისში გვექნება

$$R'_2 = R_2 + a = a(1 + q)q + a = a(1 + q + q^2)$$

III წლის ბოლოსათვის კი

$$R_3 = R'_2 + \frac{R'_2 \cdot r_B}{100} = R'_2 \cdot (1 + \frac{r_B}{100}) = R'_2 \cdot q = a(1 + q + q^2) \cdot q = a(q + q^2 + q^3)$$

და ა. შ.

n წლის ბოლოსათვის გვექნება

$$R_n = a \cdot \frac{b_n \cdot q - b_1}{q - 1} = a \cdot \frac{q \cdot q^{n-1} \cdot q - q}{q - 1}$$

$$R_n = a \cdot \frac{q(q^n - 1)}{q - 1}$$

თუ n წლის შემდეგ დაგროვილი თანხა უნდა იყოს K_B , მაშინ ვღებულობთ განტოლებას

$$K_B = a \frac{q(q^n - 1)}{q - 1} \quad (9)$$

უცნობი q -ს მიმართ.

(9) განტოლების ამოხსნისათვის შეიძლება გამოვიყენოთ ერთერთი რიცხვითი მეთოდი.

ამოცანა 7.4-7.6-ის ვარიანტები

№	K_A	$r_A\%$	a	K_B
1	3000	3.1	950	4000
2	4000	3.2	1400	5000
3	5000	3.3	1700	6000
4	6000	3.4	2100	7000
5	7000	3.5	2500	8000
6	8000	3.6	2900	9000
7	9000	3.7	3200	10000
8	10000	3.8	3400	11000
9	11000	3.9	3500	12000
10	12000	3.1	4200	13000
11	13000	3.2	4500	14000
12	14000	3.3	5000	16000
13	15000	3.4	5100	17000
14	16000	3.5	5400	18000
15	17000	3.6	5800	19000
16	18000	3.0	6200	20000
17	19000	3.1	6900	21000
18	20000	3.2	7000	22000
19	21000	3.3	7200	23000
20	22000	3.4	7400	24000

ამოცანა 7.7 კონტრაქტის თანახმად A ბანკი ერთი თვის განმავლობაში ეოველდლიურად ურიცხავს B ბანკს 100 000 ლარს. B ბანკი იმავე თვის პირველ რიცხვში A ბანკს ურიცხავს ერთ თეთრს, ორ რიცხვში ორ თეთრს, სამ რიცხვში ოთხ თეთრს და ა.შ. ისე, რომ ეოველ მომდევნო დღეს ჩასარიცხ თანხას აორმაგებს. რომელი ბანკი დარჩება მოგებული თვის ბოლოს?

ინტეგრალის გამოყენება საბანკო ამოცანაში

ამ საკითხის შესწავლისას გავიხსენოთ ინტეგრალური აღრიცხვის რამოდენიმე საკითხი. ცხრილის ინტეგრალიდან ცნობილია, რომ

$$\int e^{ax} dx = \frac{e^{ax}}{a} + c$$

ვიცით, რომ ნაწილობითი ინტეგრების ფორმულას აქვს სახე

$$\int u dv = uv - \int v du$$

განსახდურული ინტეგრალის გამოთვლისას ვისარგებლებთ ნიუტონ-ლეიბნიცის ფორმულით

$$\int_a^b f(x) dx = F(x) \Big|_a^b = F(b) - F(a)$$

სადაც $F(x)$ არის $f(x)$ -ის პირველადი ანუ $F'(x)=f(x)$.

გავიხსენოთ რომ არასაკუთრივი ინტეგრალი უსასრულო ზედა საზღვრით შემდეგნაირად განისაზღვრება

$$\int_a^{+\infty} f(x) dx = \lim_{b \rightarrow +\infty} \int_a^b f(x) dx.$$

თუ არსებობს ეს ზღვარი მაშინ არასაკუთრივი ინტეგრალი კრებალია.

ახლა გადავიდეთ იმ საბანკო ამოცანის განხილვაზე, სადაც მოყვანილ ინტეგრალურ დარიცხვის ელემენტებს უშუალოდ გამოვიყენებთ.

შემოსავლის ნაკადის დისკონტირებული ღირებულების გამოთვლა

ვთქვათ A არის B თანხის დისკონტირებული ღირებულება ანუ A არის თანხა, რომელიც უნდა დაგაბანდოთ სარგებლის წლიური რთული r%-იანი განაკვეთით უწყვეტი დარიცხვის შემთხვევაში, რომ t დროისთვის მივიღოთ B თანხა. ამ შემთხვევაში ვიცით, რომ

$$A = Be^{-\frac{r \cdot t}{100}}$$

თუ დაბანდებულ თანხას სარგებელი ერიცხება არა ერთბაშად საბოლოო თანხის სახით არამედ t=a წლიდან t=b წლამდე უწყვეტად f(t) ინტენსივობით, მაშინ f(t)-ს ეწოდება შემოსავლის ნაკადი დროის [a;b] შუალედში

თუ დროის t მომენტისათვის მიმდინარე თანხაა F(t), მაშინ დარიცხვის f(t) ინტენსივობა გამოითვლება ფორმულით

$$f(t) = F'(t) \quad (10)$$

ვიცით, რომ ფუნქციის წარმოებული ახასიათებს ამ ფუნქციის ცვლილებას (ხეყნ შემთხვევაში სრდას) განსაზღვრის არეზე. ანუ დარიცხვის ინტენსივობა გვიჩვენებს როგორ იცვლება მიმდინარე

თანხა. (10)დან ცხადია $F(t) = \int_a^t f(t)dt$. დავყოთ [a;b] შუალედი n ტოდ

$$\Delta t = t_j - t_{j-1} = \frac{b-a}{n} \quad (j=1,2,\dots,n)$$

ნაწილად დაახლოებით $f(t_j) \cdot \Delta t$ იქნება. მისი დისკონტირებული

ღირებულება კი იქნება $e^{-\frac{r}{100}t_j} f(t_j) \cdot \Delta t$ (ესაა ის საწყისი თანხა, რომელიც მიმდინარე მომენტში უნდა დაბანდდეს სარგებლის წლიური რთული r%-იანი განაკვეთით, იმისათვის რომ t_j წლის შემდეგ მოგვეცეს $f(t_j) \cdot \Delta t$ თანხა).

ამრიგად შემოსავლის ნაკადის დისკონტირებული ღირებულება

$$\text{დროის } [a;b] \text{ შუალედში დაახლოებით იქნება სიდიდე } \sum_{j=1}^n e^{-\frac{r}{100}t_j} f(t_j) \Delta t$$

ამ ჯამის ზღვარი, როცა $n \rightarrow \infty$ იქნება

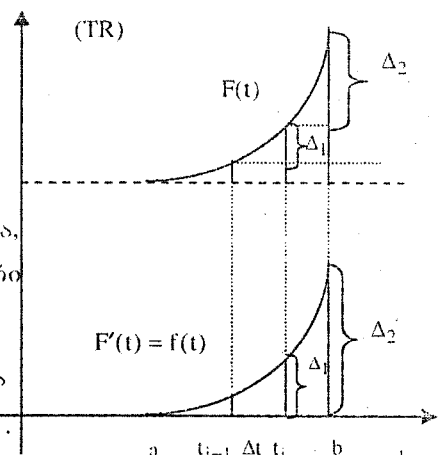
$$\lim_{n \rightarrow \infty} \sum_{j=1}^n e^{-\frac{r}{100}t_j} f(t_j) \Delta t = \int_a^b e^{-\frac{r}{100}t} f(t) dt \quad (11)$$

ამ ინტეგრალს ეწოდება შემოსავლის f(t) ნაკადის დისკონტირებული (საწყისი) ღირებულება.

(11) სიდიდე არის საწყისი თანხა, რომელიც მიმდინარე t=0 მომენტიდან დაწყებული უნდა გაიზარდოს წლიური რთული r% -იანი განაკვეთით (უწყვეტი დარიცხვის წესით), რომ მან უზრუნველყოს F(t) შემოსავალი (სარგებელი) t∈[a,b] მომენტისათვის.

ამოცანა 7.8 ვთქვათ A ბანკი მენაბრებს თავაზობს წლიურ r%-იან სარგებელს დარიცხვის უწყვეტი წესით. რა თანხა უნდა შევიტანოთ ბანკში, რომ a წლიდან დაწყებული b წლამდე შეგვეძლოს ყოველწლიურად ფულის f(t)=k ინტენსივობით გამოტანა?

ამოცანა 7.9 ამოხსენით ამოცანა 7.8, თუ ფულის გამოტანის ინტენსივობას აქვს სახე $f(t) = \alpha + \beta$



უვალო ნაკადის დისკონტირებული ღირებულება

თუ (11) ფორმულაში განვიხილავთ შემთხვევას, როცა $b \rightarrow \infty$, მაშინ მიიღებთ უვალო შემოსავლის f(t) ნაკადის დისკონტირებული ღირებულება.

მათემატიკურად (11) მიიღებს არასაკუთრივი ინტეგრალის სახეს:

$$\int_a^{\infty} e^{-\frac{r}{100}t} f(t) dt \quad (12)$$

ესაა ის საწყისი თანხა, რომელიც უნდა გაიზარდოს სარგებლის წლიური $r\%$ -იანი განაკვეთით უწყვეტი დარიცხვის წესით, რომ დროის ნებისმიერი $t \geq a$ მომენტისათვის გვეძლეოს შემოსავლის $f(t)$ ნაკადი.

ამოცანა 7.10 ვთქვათ A ბანკი გვთავაზობს სარგებლის წლიურ რთულ $r\%$ -იან განაკვეთს უწყვეტი დარიცხვის წესის საფუძველზე. რა საწყისი თანხა შევიტანოთ ბანკში, რომ შემოსახლვრავი ვადით ყოველწლიურად ავიღოთ თანხა $f(t) = k$ დარის ინტენსივობით?

ამოცანა 7.8 - 7.10-ის ვარიანტები

№	$r, \%$	a	b	K	α	β
1	3,1	5	10	4000	0,01	3800
2	3,2	6	12	5000	0,02	4000
3	3,3	7	14	6000	0,03	5000
4	3,4	5	12	7000	0,04	6500
5	3,5	6	13	8000	0,05	7800
6	3,6	7	15	9000	0,01	8500
7	3,7	8	14	10000	0,02	9700
8	3,8	5	11	11000	0,03	10000
9	3,9	6	14	12000	0,04	11000
10	4,0	7	16	13000	0,05	12000
11	4,10	5	10	5000	0,01	4900
12	4,15	6	11	6000	0,02	5800
13	4,2	7	13	7000	0,03	6500
14	4,25	8	14	5000	0,04	4700
15	4,3	5	11	6000	0,05	5900
16	4,35	6	12	7000	0,01	6800
17	4,4	7	13	5000	0,02	4600
18	4,45	8	14	6000	0,03	5800
19	4,5	5	15	7000	0,04	6700
20	4,55	6	16	8000	0,05	7000

გამოყენებული ლიტერატურა

1. ნატროშვილი დ. და სხვ. "მათემატიკა ეკონომისტებისათვის" 2000
2. Кубонива М. "Математическая экономика на персональном компьютере" 1992
3. Кузнецов Ю. Н. и др. "математическое программирование" 1980
4. Крушевский А. В. и др. "Экономико-математические в планировании и управлении народным хозяйством" 1973
5. Гейл Д. "Теория линейных экономических моделей" 1963
6. David Gale "The teory of linear economic models" 1999

სარჩევი

თავი 1. წრფივი მათემატიკური მოდელები -----	2
თავი 2. წრფივი მათემატიკური მოდელების ამოხსნა სიმპლექს-მეთოდით-----	11
თავი 3. წრფივი ორადული მოდელი. -----	30
თავი 4. ერთი ცვლადის ფუნქციის წარმოებული ეკონომიკის ამოცანებში. -----	34
თავი 5. ორი ცვლადის ფუნქცია მიკროეკონომიკის ზოგიერთ ამოცანაში. -----	44
თავი 6. მოთხოვნა-მიწოდების წონასწორობის მოდელი. -----	53
თავი 7. მათემატიკა ზოგიერთ საბანკო ამოცანაში. -----	63
გამოყენებული ლიტერატურა-----	75

**იბეჭდება ავტორთა მიერ
წარმოდგენილი სახით**

კომპიუტერული უზრუნველყოფა მ. თოდუასი

გადაეცა წარმოებას 12.06.2003. ხელმოწერილია დასაბეჭდად 16.09.2003. ბეჭდვა ოფსეტური.
ქალაქის ზომა 60X84 1/8. გარნიტურა აკადემიური. პირობითი ნაბეჭდი თაბახი 4,85. სააღრიცხვო-
საგამომცემლო თაბახი 3. ტირაჟი 100 ეგზ. შეკვეთა № 255

გამომცემლობა „ტექნიკური უნივერსიტეტი“, თბილისი, კოსტავას 77



სტუ-ს სტამბა, თბილისი, კოსტავას 75

ISBN 99940-14-43-9